

Математика 4 класс

учитель начальных классов

МОУ «ООШ №44»

Василькова Наталия Ивановна



Найти $\frac{2}{3}$ числа a
Число, если его $\frac{7}{8}$
составляет b
Найди 35% от числа c
Найди число, если его 4%
составляют d
Какой вывод можно сделать?



Сатурн



$$1. (180:x+15*3):8=54:9$$

$$2. 450:(18-y:7)=7*8-36:6$$






**5ч
12мин**

**5т
205кг**



52ц5кг

**512
МИН**



**312
МИН**



Sos! Sos! Sos!



- Чтобы спасти спутник Деймос,
В **Розовой стране** 540000 жителей, что
составляет $\frac{9}{10}$ жителей **Голубой**
страны. В **Жёлтой стране** живёт 40% от
общего числа жителей **Розовой** и
Голубой стран, а в **Фиолетовой** – на
78000 жителей больше, чем в **Жёлтой**
стране. Сколько жителей в **Изумрудном**
городе, если всего на спутнике Деймос
насчитывается 3000000 жителей?

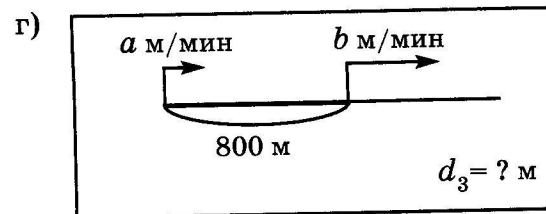
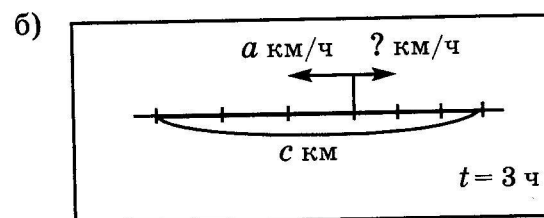
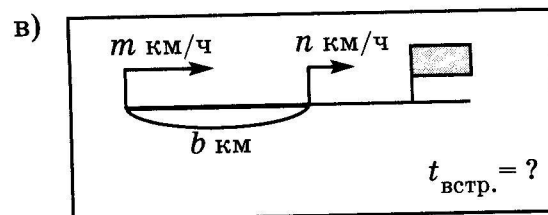
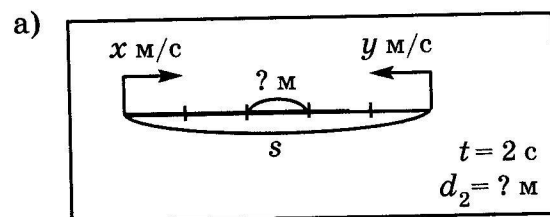




Составьте выражения к схемам

13 "Блиц-турнир".

Составь выражения по схемам:



Найдём ключ к новой планете



$P = 280 \text{ м.}$

$S = ? \text{ м}^2$

60м



Почему планета Марс красного цвета?





Подведение итогов

- Какие цели и задачи мы с вами ставили в начале урока?
- Что интересного было сегодня на уроке?
- Какие открытия вы для себя сделали?
- Какое настроение оставил этот урок?

Спасибо за урок!
Молодцы!

