



# Чагыштыр




# Бал кортына булышыйк

*Бал кортына булышыйк*



# Сколько нулей?





Кайсы санда 5 дистә  
8 берәмлек?

5

85

58



# Жаваптарын тап



$$a + 25 =$$

$$b - 14 =$$

$$c + 10 - b =$$

$$a + 17 =$$

$$b + 25 =$$

$$c - 3 + b =$$

$$a = 25$$

$$b = 20$$

$$c = 20, \quad b = 17$$

Өй эше.

№

