




# Спидометр

Тр



# Единицы

## длины

1. Выберите среди предложенных единиц только единицы измерения длины.

КМ    Ц    М    Т    га    Д    Г    МГ    СМ    ММ

2. Какая единица измерения длины самая большая?

**КМ**

3. Что больше 1 км или 1000 м?

**1 км = 1000 м**





# Сколько секунд в



...?

1 год =

1 сутки =

1 час =

1 мин =

45 мин =

1 мс =

Blank green boxes for answers:

\_\_\_\_\_

\_\_\_\_\_

\_\_\_\_\_

\_\_\_\_\_

\_\_\_\_\_

\_\_\_\_\_

с

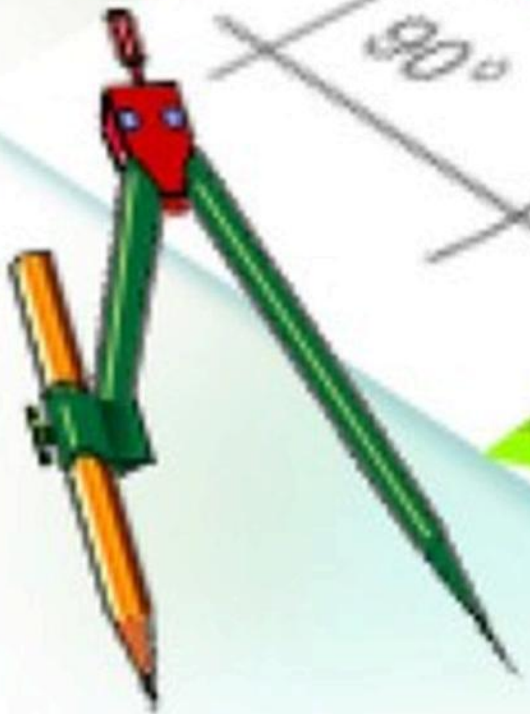


Что можно успеть за секунду, минуту ?





# Виктори на



# Устный



**"Устный счет"**  
**Н.П. Богданов-**  
**Бельский**

$$\frac{10^2 + 11^2 + 12^2 + 13^2 + 14^2}{365} = ?$$

**Ну-ка в сторону карандаши!  
Ни костяшек. Ни ручек. Ни  
мела.**

**Устный счёт!  
Мы творим это чудо  
Только силой ума и души.**  
*Валентин  
Берестов*







# Сосчитайте

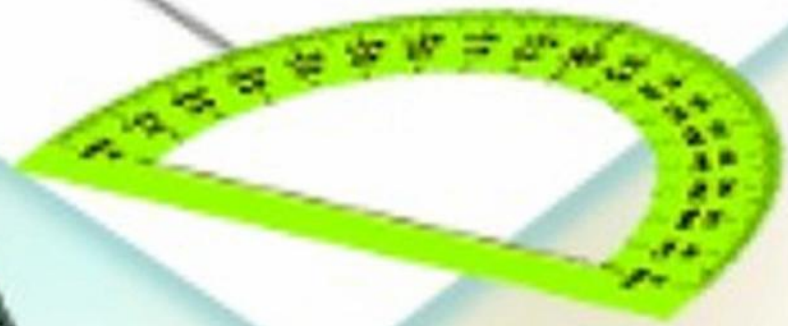
## УСТНО

1. Сколько хвостов у семи котов?
2. Сколько носов у двух псов?
3. Сколько пальчиков у трёх мальчиков?
4. Сколько ушей у пяти малышей?

<input type="text"/>	<input type="text"/>
<input type="text"/>	<input type="text"/>
<input type="text"/>	<input type="text"/>



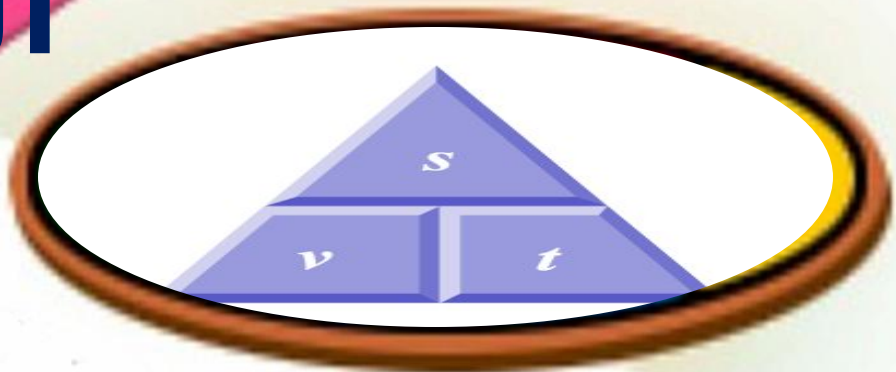
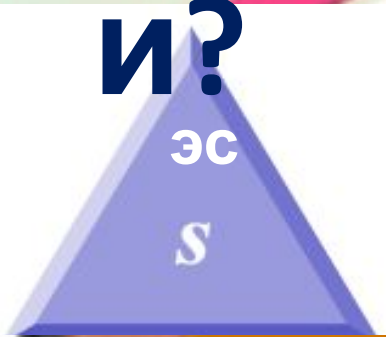
# Скорость движения





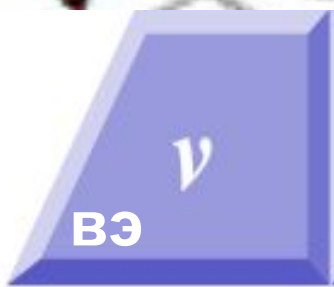
# Запомнил

и?



Пройденный  
пути

Скорость =  $\frac{\text{Пройденный путь}}{\text{Время}}$



Скорость



Время



# Вычислите скорость



Дано:

$$S = 40 \text{ км} \\ t = 2 \\ \text{ч} \\ v = ?$$

Решение

$$\text{Скорость} = \frac{\text{Пройденный путь}}{\text{Время}} \\ = \frac{S}{t} \\ V = \frac{40 \text{ км}}{2 \text{ ч}} = 20 \frac{\text{км}}{\text{ч}}$$

Баба Яга летит в ступе.  
За 2 часа пролетела 40 км.

Определите скорость  
её движения.

Ответ:  $20 \frac{\text{км}}{\text{ч}}$






# Скорость - ?



Мальчик прошел 8 км за 2 часа



$V(\text{км/ч})$	$t(\text{ч})$	$S(\text{км})$
4	2	8
90	3	270
75	4	300





# Задача

## 1

Дети с момента загорания светофора, благополучно перешли дорогу. Зелёный сигнал светофора горит 20 секунд. Скорость брата с сестрой 1 м/с. Определите ширину проезжей части дороги

20 м



# Задача

## 2



**Баба – Яга летит в ступе со скоростью 20 км/ч. Успеет ли она долететь до замка Кощея за 6 ч, если расстояние до него 150 км?**

**Нет (не долетит 30**





# Задача



**3** Баба Яга утверждает, что Змей Горыныч не пролетит 1000км за 3часа, если будет лететь со скоростью 247 км/ч. Кощей Бессмертный поспорил с ней на бочку кваса, что - пролетит. Проспорила Баба Яга бочку кваса или не проспорила?

Не проспорила





# Интернет-ресурсы

<http://www.zastoeva.irina.ucoz.ru/148178304.html>

<http://rudocs.exdat.com/docs/index-198677.html>

<http://livetaganrog.ru/forum/thread417.html>

<http://files.school-collection.edu.ru/dlrstore/669b2b4e-e921-11dc-95ff-0800200c9a66/quiz1.swf>

*Сказка Остера Г. Иллюстрации: Бурусов Д.*

<http://www.planetaskazok.ru/oster>

[http://files.school-collection.edu.ru/dlrstore/669b2b58-e921-11dc-95ff-0800200c9a66/3\\_3.swf](http://files.school-collection.edu.ru/dlrstore/669b2b58-e921-11dc-95ff-0800200c9a66/3_3.swf)

<http://www.bibliotekar.ru/kBogdanov/01.htm>



# Интернет - ресурсы

<http://portfolio4september.ru/subject.php>

<http://class-fizika.narod.ru/vid.htm>

<http://luxfon.com/mood/5428-svet-svet-ofor-zelenyi-krasnyi.html>

<http://kuruh.ru/dorznaiki>

<http://doshkolnik.ru/index/117-korotkova-tatiana/4999-pdd-roditeli-2.html>

<http://www.planetaskazok.ru/oster>

[http://gala18.ru/product\\_20451.html](http://gala18.ru/product_20451.html)

