

МАТЕМАТИКА



1 2 3 4 5 6 7 8



8 7 6 5 4 3 2 1



ПЕРЕСЧИТАЙ КАРТИНКИ.

КАКИМ ПО СЧЕТУ СТОИТ ВЕРТОЛЕТ? АВТОБУС? ГРУЗОВИК?
НА КАКОМ МЕСТЕ СТОИТ ВЕЛОСИПЕД? ПАРОХОД? ВОЗДУШНЫЙ ШАР?

1 2 3 4 5 6 7 8



Игра «МОЛЧАНКА»

НАЙДИ СОСЕДА



1...3



1 2 3



2 3 . . .



2 3 4



8 7 . . .



8 7 6



3 4 . . .



3 4 5



5 . . . 7






5 6 7



Соедини
цифру с
соответствующим
количеством
предметов.



Соедини цифру с соответствующим количеством предметов.
Раскрась.



5

4

3

8

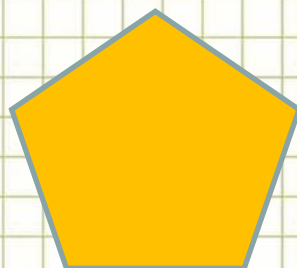

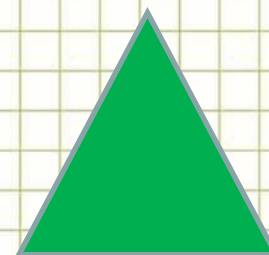

2

6

1



КАКАЯ ФИГУРА РАСПОЛОЖЕНА В ЦЕНТРЕ?
ГДЕ НАХОДИТСЯ ТРЕУГОЛЬНИК?
В ЛЕВОМ ВЕРХНЕМ УГЛУ НАХОДИТСЯ ...
ПЯТИУГОЛЬНИК РАСПОЛОЖЕН В ...
КАКОЙ ПРЯМОУГОЛЬНИК НАХОДИТСЯ ВНИЗУ?



МАТЕМАТИЧЕСКИЕ ЗАГАДКИ




*Сколько цветочков нужно
облететь пчёлке?*



Сколько яблок на ветках висит?

Сколько на траве лежит?



Сколько зайцев в корзине?
Почему ты так решил?



Сколько грибов растёт под высокой ёлкой, а сколько – под низкой?



Сколько яблок съели дети?
А сколько ещё осталось?




Сколько утят плывут с мамой -
уткой?




Сколько рыбок плывёт налево, а сколько направо? В какую сторону их плывёт больше?



Сколько ёлочек было?
Сколько спилили?



Сколько моркови съел зайчик?
Сколько было моркови?



СКОЛЬКО БЫЛО ЯБЛОК?
СКОЛЬКО ОСТАЛОСЬ?

