



# МАТЕМАТИКА




ДЛЯ ЛЮБОЗНАТЕЛЬНЫХ  
ДЛЯ ЛЮБОЗНАТЕЛЬНЫХ

ТЕСТ СОСТАВИЛА УЧЕНИЦА 4  
Б КЛАССА ВЯЗОВА ЛУИЗА.




# ВОПРОС 1

Вова уехал к бабушке в понедельник, а вернулся в понедельник на следующей неделе. Через сколько дней вернулся Вова?



- А)** через 10 дней
- Б)** через 6 дней
- В)** через 3 дня
- Г)** через 11 дней






# ВОПРОС 2



Света уехала в лагерь в субботу. Мама обещала приехать к ней через 5 дней. В какой день недели придет к Свете её мама?



- А) в субботу
- Б) в среду
- В) в четверг



# ВОПРОС 3

Тройка лошадей пробежала 5 км. По сколько километров пробежала каждая лошадь?



- А)** по 5 км
- Б)** по 10 км
- В)** по 2 км



# ВОПРОС 4

Если курица стоит на одной ноге, то она весит 2 кг. Сколько будет весить курица, если она будет стоять на двух ногах?



- А) 7 кг**
- Б) 4 кг**
- В) 9 кг**
- Г) 2 кг**





# ВОПРОС 5

Вышла курочка гулять. Вывела своих цыплят. Семь пробежали вперёд, три остались сзади, беспокоится за них мать и не может подсчитать. Подсчитайте, сколько всех цыплят.



- А) 10 цыплят
- Б) 18 цыплят
- В) 7 цыплят

# ВОПРОС 6

У бабушки Даши внучка Маша, кот Пушок, собака Дружок. Сколько у бабушки внуков?

- А) 1 внучка
- Б) 1 внук
- В) 9 внучек и 3 внука



# ВОПРОС 7

У мальчика и девочки было одинаковое число орехов. Мальчик отдал девочке 3 ореха. На сколько орехов стало у девочки больше, чем у мальчика?


- А) на 8 орехов**
- Б) на 6 орехов**
- В) на 3 ореха**





# ВОПРОС 8

Сегодня среда. Какой день недели будет через шесть дней?



- А) пятница
- Б) среда
- В) понедельник
- Г) вторник

# ВОПРОС 9

Яблоки в саду поспели.

Мы отведать их успели.

Пять румяных, наливных, три – с  
кислинкой.

Сколько их?

- А) 8 яблоч
- Б) 13 яблоч
- В) 6 яблоч





# ВОПРОС 10

Подарил утятам ёжик  
Восемь кожаных сапожек.  
Кто ответит из ребят,  
Сколько было всех утят?



- А) 8 утят
- Б) 4 утят
- В) 3 утят
- Г) 7 утят



# ВОПРОС 11

Сколько ушей у трёх мышей?



- А) 8 ушей**
- Б) 6 ушей**
- В) 6 лап**

# ВОПРОС 12

Сколько лап у двух медвежат?



- А) 8 лап**
- Б) 4 ноги**
- В) 7 лап**



# ВОПРОС 13

В первой коробке 10 карандашей, во второй столько, сколько в первой, а в третьей столько же, сколько во второй. Сколько карандашей в третьей коробке?




- А) 15 карандашей
- Б) 10 карандашей
- В) 27 карандашей



# ВОПРОС 14

На дереве сидят 4 птицы: 2 воробья, остальные вороны. Сколько ворон сидит на дереве?



- А) 2 воробья
- Б) 4 вороны
- В) 0 ворон
- Г) 2 вороны

# ВОПРОС 15

Над рекой летели птицы:  
Голубь, щука, две синицы,  
Два стрижа и пять угрей.  
Сколько птиц, ответь скорей?



- А) 5 птиц**
- Б) 8 птиц**
- В) 11 птиц**

# ВОПРОС 16

Мама – конь идёт домой,  
Папа – конь на водопой,  
А ребёнок – жеребёнок  
Пьёт из миски голубой.  
Сколько в семье коней?



- А) 3 коня**
- Б) 4 коня**
- В) 2 коня**

# ВОПРОС 17

Справа – мама,  
Слева – папа,  
В середине я как раз.  
Сколько будет вместе нас?



- А) 3
- Б) 5
- В) 2
- Г) 1



# ВОПРОС 18

Ёжик по лесу шёл,  
На обед грибы нашёл:  
Два под берёзой,  
Один у осины. Сколько их будет  
В плетёной корзине?



- А) 3**
- Б) 8**
- В) 2**
- Г) 1**

# ВОПРОС 19

В садике гулял павлин,  
Подошёл ещё один.  
Два павлина за кустами.  
Сколько их. Считайте сами.



- А) 2 павлина**
- Б) 4 павлина**
- В) 34 павлина**

# ВОПРОС 20

Три попугая ехали в трамвае.  
Два попугая вышли из трамвая.  
Сколько птичек осталось в трамвае?

- А) 2 попугая
- Б) 3 попугая
- В) 1 попугай


$$1+2=3$$




# ВОПРОС 21

Сколько трёхзначных чисел можно составить из трёх цифр: 9, 4, 0? Цифры при записи не должны повторяться.



- А) 4
- Б) 5
- В) 8

# ВОПРОС 22



Первый день летних каникул - 25.05, а 31.08 этого же года - последний. Прибавь к каникулам ещё один день. Сколько дней получится?

- А) 200 дней
- Б) 999 дней
- В) 100 дней

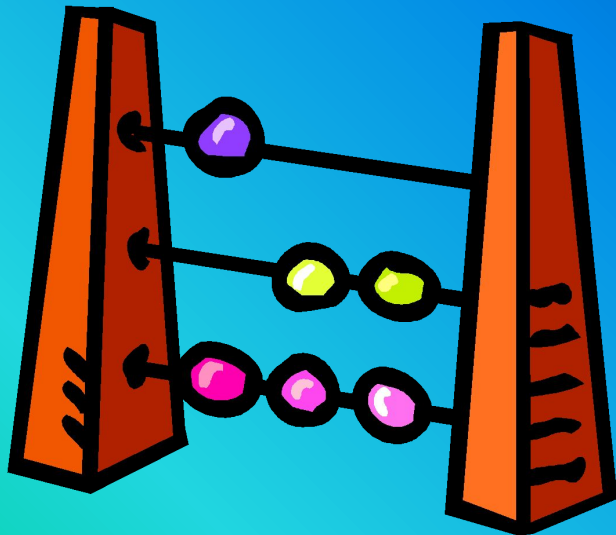




# ВОПРОС 23



Малыши рисовали известные им цифры и случайно записали три числа. Помоги малышам найти наибольшее число.



А) 1 999 888

Б) 1 000 000

В) 7 777 777

# ВОПРОС 24

Учительница рассказала ученикам, что население России составляет почти 148 миллионов человек. Как выглядит это число?



- А) 566 777 000
- Б) 148 000 789
- В) 148 199 890
- Г) 148 000 000

1 9 5

## ВОПРОС 25

В кошельке лежало 195 рублей, мама положила в него ещё несколько рублёвых монет, но в нём всё ещё меньше 200 рублей. Сколько рублей могла положить мама?

А) 1, 2, 3, 4, 5.

Б) 1, 2, 3, 4.

В) 3, 4, 5, 6.

2 0 0

# МАТЕМАТИКА – РАЗВИВАЮЩАЯ НАУКА

