

Логика



ЛОГИКА

- «наука о правильном мышлении»,
- «способность к рассуждению»

1. УВЕЛИЧЬ 133 В 7 РАЗ.

2. РАЗДЕЛИ 678 НА 6.

**3. Я ЗАДУМАЛА ЧИСЛО,
РАЗДЕЛИЛ ЕГО НА 5, ЗАТЕМ
УМНОЖИЛ НА 6, РАЗДЕЛИЛ
НА 9 И ПОЛУЧИЛ 12. КАКОЕ
ЧИСЛО Я ЗАДУМАЛА?**

**4. НАЙДИ ЧАСТНОЕ ОТ
ДЕЛЕНИЯ 1600 НА 40.**

**5. НАЙДИ РАЗНОСТЬ
ЧИСЕЛ 532 И 364.**

**6. ЗАПИШИ ЧИСЛО,
КОТОРОЕ БОЛЬШЕ 700 В 1
РАЗ.**

7. НАЙДИ ЧАСТНОЕ 510 И 3.

8. ЗАПИШИ ЧИСЛО, КОТОРОЕ СОСТОИТ ИЗ 37 ДЕСЯТКОВ И ОДНОЙ ЕДИНИЦЫ.

9. НА СКОЛЬКО НАДО УМЕНЬШИТЬ 485, ЧТОБЫ ПОЛУЧИТЬ ПРОИЗВЕДЕНИЕ 72 И 8?

**10. КАКОЕ ЧИСЛО НАДО
РАЗДЕЛИТЬ НА 17, ЧТОБЫ
ПОЛУЧИТЬ 44?**

**11. НАЙДИ ЧАСТНОЕ И
ПРОИЗВЕДЕНИЕ 330 И 11.**

**12. НА СКОЛЬКО 8 МЕНЬШЕ
824?**

**13. НАЙДИ S И P
ПРЯМОУГОЛЬНИКА,
ЕСЛИ ОДНА СТОРОНА
РАВНА 8СМ, А ВТОРАЯ
СТОРОНА НА 10 СМ
БОЛЬШЕ.**

1 ТУР.

- 1) $8 + 4$. Правильный ответ – одиннадцать или адиннадцать?
- 2) У Миши 3 пары варежек. Сколько варежек на левую руку?
- 3) Одно яйцо варится 3 минуты. Сколько минут варятся 3 яйца?
- 4) Горело 10 свечей. 3 погасли. Сколько свечей осталось?


1) Два дачника шли из деревни в город, а навстречу им ещё 5 дачников. Сколько дачников шло из деревни в город?

2) Количество месяцев из сказки С. Маршака раздели на количество поросят из сказки Михалкова.

3) - От числа разбойников, врагов Али-бабы, отнять число богатырей, братьев царевны-Лебедь.

2 ТУР

Говения – что это такое?



А. Название страны – 170.


Б. Растение- 270.

В. Животное – 190.

**Ответ на данный тест вы узнаете,
если найдёте правильно
задуманное число.**

**Если третью часть наибольшего
двузначного числа увеличить в
10 раз, а затем из полученного
результата вычесть разность
чисел наименьшего
трехзначного и половину числа
80, вы узнаете задуманное число.
Запишите полученное
выражение**

РЕШЕНИЕ



Если в числовом выражении
получили ответ -270 , вы узнаете
о необычном конфетном дереве!



Говения

В лесах Китая, Индии, Японии и Кореи растёт удивительное конфетное дерево – говения. Ножки, на которых держатся сухие невкусные плоды говении, необыкновенно сладкие.

**Эти коричневатые
изогнутые веточки с
удовольствием едят и дети,
и взрослые. С одного дерева
в год собирают до 30
килограммов «конфет». В
нашей стране это конфетное
дерево растёт в Крыму, на
Кавказе и в Средней Азии.**



- не допустил(а) ошибок,
доволен(а) собой;
- допускал(а) неточности;
- надо стараться и успех
придёт.



3 ТУР

**Чтобы задачи верно
решать,
Необходимо думать,
рассуждать,
И, конечно, без ошибок
вычислять.**

**А для этого нужно -
внимание
И обязательно старание!**

1. В магазин привезли 4 одинаковые полные коробки: в одной – апельсины, в другой – яблоки, в третьей – мандарины, в четвертой – вишни. В какой коробке наибольшее число плодов?

- (А) в коробке с апельсинами**
- (Г) в коробке с вишнями**
- (Б) в коробке с яблоками**
- (Д) невозможно определить**
- (В) в коробке с мандаринами**

2. Какое из чисел обладает такими свойствами: оно четное, все его цифры различны, а число сотен в два раза больше числа единиц?

(А) 1236

(Б) 3478

(В) 4683

(Г) 4874


(Д) 8462

3. Дима живет в своем доме вместе с папой, мамой и братом. А еще с ними живут собака, две кошки, два попугая и четыре золотые рыбки. Сколько всего ног у обитателей этого дома?

- (А) 22 (Б) 24 (В) 28 (Г) 32**
(Д) 40



Самостоятельная работа






**Шагай по ступенькам знаний
смело!**



**Помни, ученье – это
серьезное дело!**





Молодцы!

