




Pptx



Решите выражения,
найдите лишнее.

$$3 * (10 + 8)$$

$$100 - 3 * 4$$

$$40 : 2$$

$$(10 + 3) * 5$$


$$48 : 6 * 8$$

$$90 : 30$$





Задача на смекалку.

Сколько ботинок у 10 коротышек, если у Сиропчика две пары, у Растеряйки - один левый ботинок, а у остальных коротышек по одной паре?



Отправляемся на
экскурсию.



1. Остановка «Задачкино»



Ромашка - 9 шт., на троих

к

Василёк - 6 шт. на троих

Сколько и каких конфет
получила каждая?




Ромашка - 9 к.

Василёк - 6 к.

} ? дев. по 5

2. Остановка «Решайкино» - №2 с.14



3. Остановка «Самостоятельная»

1 вариант - №3 , 2 вариант - №4



4. Остановка «Подумай-ка»



7 я,

100 

с 3 ж

по 2 л

Р 1 а



Итог урока.

- Чему учились на уроке?
- Что понравилось?
- Что вызвало затруднение?

