




29 января.
Классная работа.



МАТЕМАТИЧЕСКАЯ РАЗМИНКА

- $5+9-8+9-8+3-6+7$
- $75-70+12-9+30-1+10$
- $11+9-2+7+6+8-5+6$



- Числовые ряды
- $15, 12, 40, 3, 21, 37, 69$
- Найдите лишнее число . Каждое двузначное число уменьшите на 1.


ИГРА «НАЙДИ ОШИБКИ»

□ Муха



1 д м

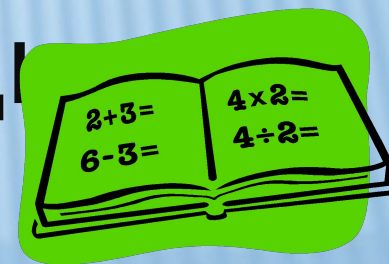
□ Яблоня



□

Тетрадь


20 д м



САНТИМЕТР ДЕЦИМЕТР

□ 1см


□ 1д м=10см



МЕТР

□ 1м=10 д м

□ 1м=100см




ИЗМЕРЯЕМ, ЧЕРТИМ, СРАВНИВАЕМ

СРАВНИ

- $1\text{ дм} = ?\text{ см}$
- $7\text{ дм} = ?\text{ см}$
- $35\text{ см} = ?\text{ дм } ?\text{ см}$
- $6\text{ м } 9\text{ дм} = ?\text{ дм}$
- $8\text{ м } 3\text{ дм} = ?\text{ дм}$

НЕ ОШИБИСЬ!



ИГРА «УГАДАЙ-КА»

РЕШИ ЗАДАЧУ



- Было 30 м -
отрезал 10 м

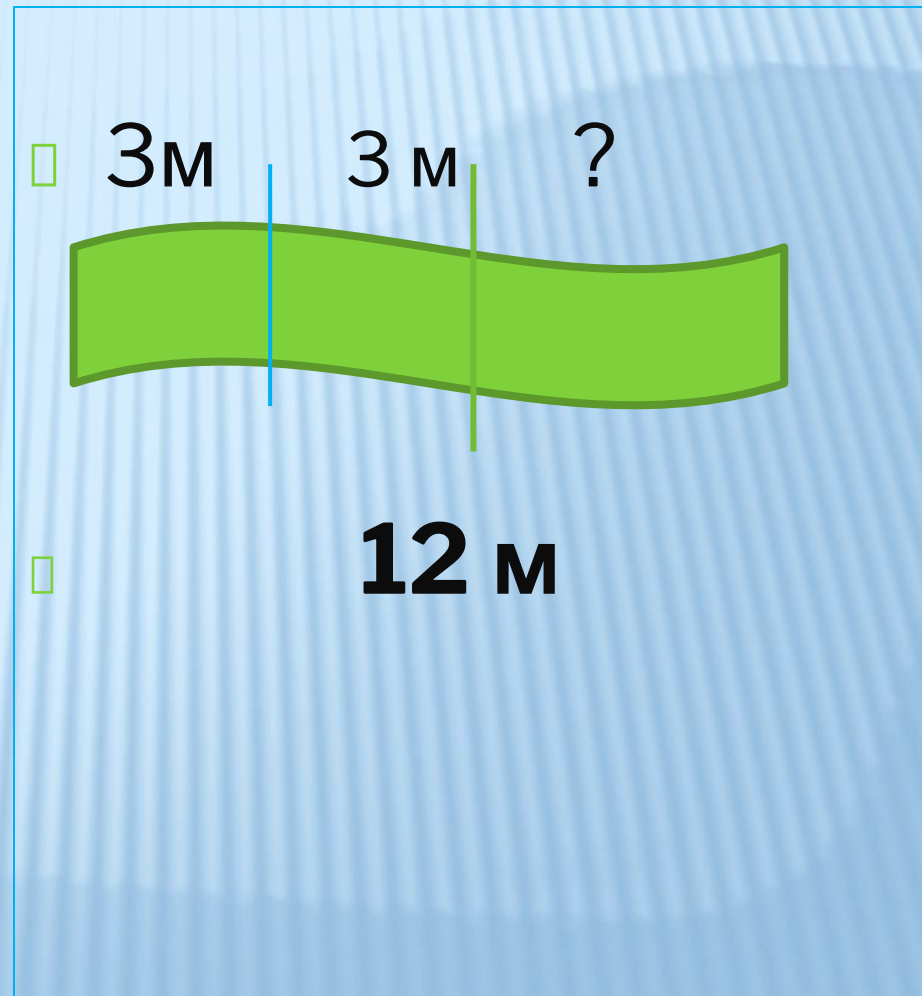


- Было 30 м -
отрезал 20 м

- **Вопрос:**
- **В каком куске
провода
осталось
больше и на
сколько ?**

РЕШИ ЗАДАЧУ

- Было-12 м.
- Сшила -2 сарафана,
- расходуя по 3 м на каждый сарафан.
- Сколько метров осталось?



РЕБУСЫ

□ Те

100

□ 100

□ Во

□ 100 К



Сколько
квадратов
в в этом
платочке
?



СОСЧИТАЙ-КА
