

МАТЕМАТИКА

- Пиляева Анастасия
Александровна

***Громко прозвенел звонок - начинается урок.
Наши ушки на макушке, глазки широко открыты.
Слушаем, запоминаем, ни минутки не теряем!***



Р

- Используя ключ к шифру, расшифруем имя героя



8	24	2	30	5	10	6
Л	О	К	Н	А	С	Р

2	5	6	8	10	24	30
к	а	р	л	с	о	н

Астрид Линдгрен.- шведская писательница.





Математический диктант.



1. Запишите число, которое следует при счёте за числом 20.
2. Запишите число, которое предшествует при счёте числу 99.
3. Найди значения выражения: к 20 прибавить 30.
4. Найди значения выражения: от 80 вычесть 50.
5. Первое слагаемое 15, второе слагаемое 4, найти сумму.
6. Уменьшаемое 20, вычитаемое 9, найти разность.
7. Запишите число, состоящее из 4 д. 7 ед.



21

98

50

30

19

11

47

Математическая разминка



- ❖ Найди лишнее число в каждой группе, объясни свой выбор:

	5	7	9	13	2
40	30	19	20	60	
12	16	34	13	15	

- ❖ Числа второй строки в порядке возрастания.
- ❖ Число последней строки в порядке убывания.
- ❖ Сравни:

31...39	80...73	17...27
16...61	81...88	76...48

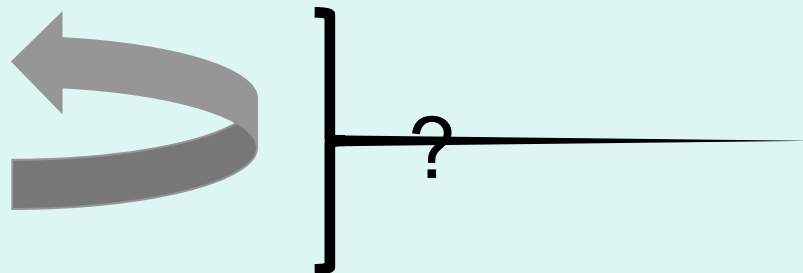
Задача.

На дне рождения своего друга Малыша Карлсон съел 8 конфет, а Малыш на 5 конфет меньше. Сколько было всего конфет?



Задача.

- Карлсон - 8 кон.
- Малыш - ?, на 5 м



- 1)
- 2)

Ответ: всего 11 конфет.



Физкультминутка




Решите примеры.

$38 + 40$

$24 + 6$

$60 - 13$

$80 - 69$



Сравни выражения и числа

$$34 \square 30+4$$


$$36 \square 23+3$$

$$75 \square 63+1$$

$$83-3 \square 79$$







Молодцы!

