


Путешествие в сказку

Табличные случаи 
умножения и
деления
2 класс
математика

Автор: Буряк Мария Викторовна
МОУ Поляковская СОШ «ОЦ»
Самарская область
п. Поляков





$6 \cdot 6$

$6 \cdot 8$

$6 \cdot 4$

$6 \cdot 7$

$6 \cdot 2$

$6 \cdot 9$

$6 \cdot 3$

Добро пожаловать!

$\begin{matrix} 1 \\ 8 \end{matrix}$

$\begin{matrix} 3 \\ 6 \end{matrix}$

$\begin{matrix} 4 \\ 8 \end{matrix}$


$\begin{matrix} 1 \\ 4 \end{matrix}$

$\begin{matrix} 2 \\ 4 \end{matrix}$

$\begin{matrix} 4 \\ 2 \end{matrix}$

$\begin{matrix} 5 \\ 4 \end{matrix}$

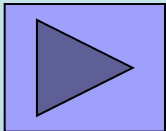




Задание 1

Задание 2

Задание 3



Задание 1


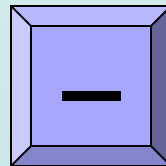
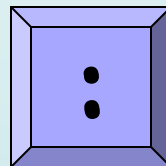
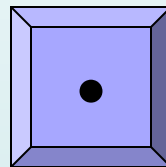
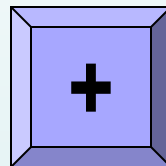
Вставь пропущенные знаки действий

$$6 \text{ ? } 3 = 9$$

$$6 - 3 = 3$$

$$6 \cdot 3 = 18$$

$$6 : 3 = 2$$



$$9 \text{ ? } 3 = 27$$

$$9 : 3 = 3$$

$$9 + 3 = 12$$

$$9 - 3 = 6$$



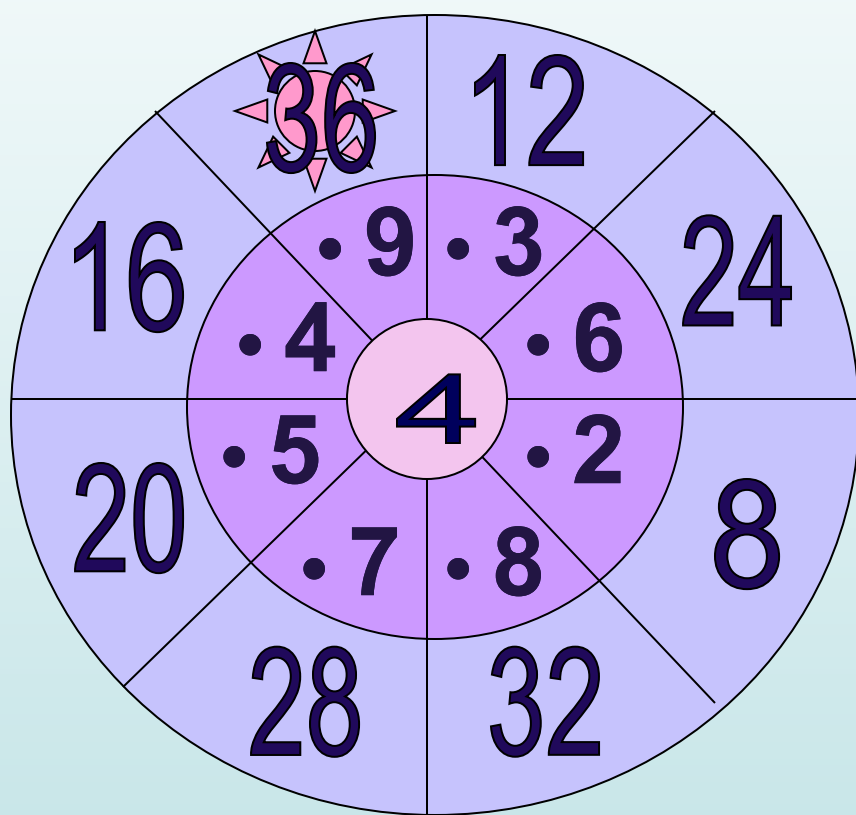


Задани


Выполни умножение
е 2



- 8
- 1
- 2
- 1
- 6
- 2
- 0



- 2
- 4
- 2
- 8
- 3
- 2
- 3
- 0





Задани



Кликни мышкой по числам, которые
делятся на 8

14

32

45

63

48

16

36

40

64

81


18

24

56

68

72






Платъе

Карета и кони

Туфельки






Задани



решите задачу, запишите математическое выражение

**В поле бабочки летали,
Лепестки цветов считали.
На одном цветке их пять.
Сможете вы сосчитать?
Сколько будет лепестков
Если шесть всего цветков?**


$$5 \cdot 6 = 30 \text{ (лепестков)}$$



Задани



рши задачу, запиши математическое
выражение

Три бельчонка маму – белку

Ждали около дупла.


Им на завтрак мама – белка

Девять шишек принесла,

Разделила на троих.

Сколько каждому из них?

$$9 : 3 = 3 \text{ (шишки)}$$






Задани



решите задачу, запишите математическое выражение

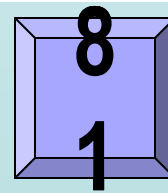
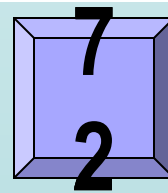
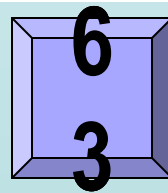
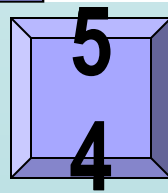
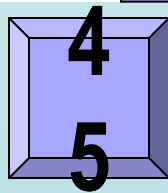

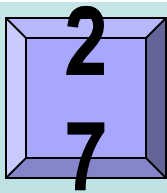

**Мышка зёрна собирала
По два зёрнышка таскала,
Принесла их девять раз.
Каков мышки стал запас?**


$$2 \cdot 9 = 18 \text{ (зёрен)}$$








9 • 6



ФИЗМИНУТКА






Задани



Реши задачу

К двум зайчатам в час обеда
Прискакали три соседа.
В огороде зайцы сели
И по три морковки съели.
Кто считать, ребята, ловок,
Сколько съедено морковок?



Задани

Соедини шарики с примерами и шарики с правильными ответами



7 • 3 =

5 • 6 =



5 • 4 =

5 • 9 =

5 • 8 =

6 • 4 =

5 • 5 =



45

32

35

21


25

24

40

30




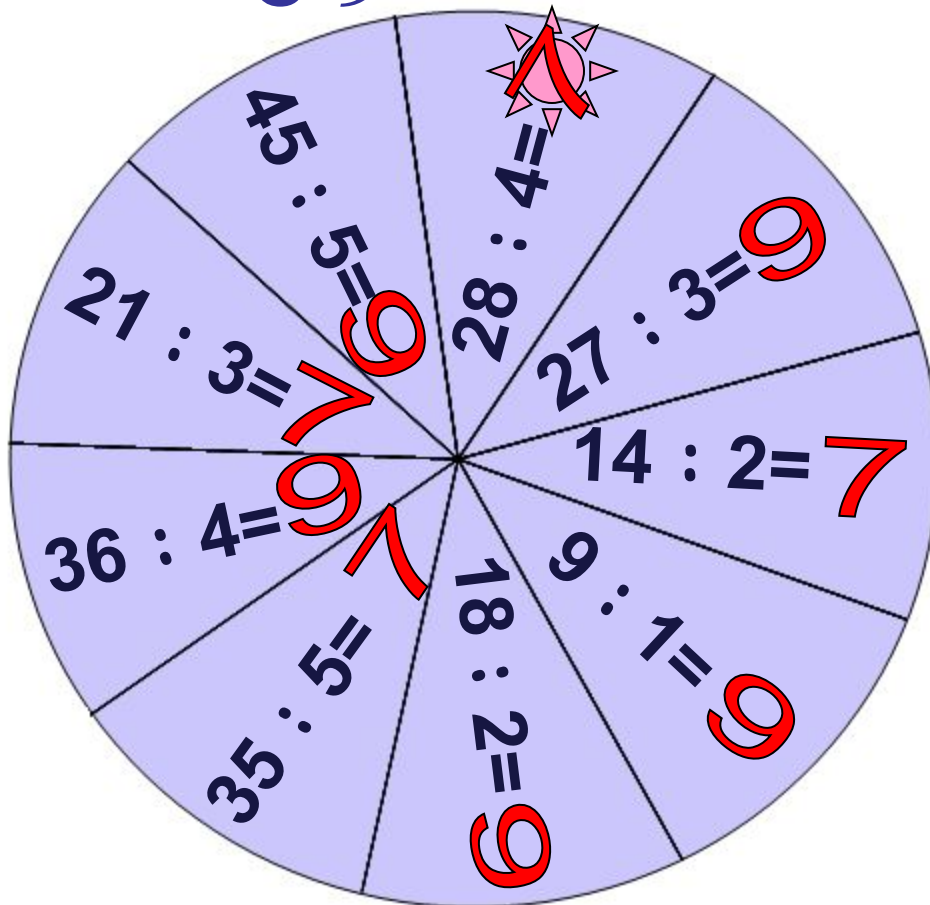
20



Задани

Выполни деление

9





До новых встреч!



ССЫЛКИ:

- <http://ann-pages.narod.ru/cl77.gif> - Золушка
- <http://kalinkastudio.narod.ru/cindy5.gif> - Золушка
- <http://tritroichki.narod.ru/disney/disney120.gif> - карета
- <http://i006.radikal.ru/0712/9d/f18ffd5755f.png> -
завитушка
- <http://tritroichki.narod.ru/kartiny/kar1.gif> - пейзаж
- <http://karaoke.yarsk.info/detskie/?st=180> - караоке
«Про золушку»
- Журнал «Начальная школа» № 10, 2005г. – задачи
№5,6 в стихотворной форме
- <http://kuprijanov.ucoz.ru/load/2-1-0-16> - задачи №4,7
в стихотворной форме