

# УСНЫЙ СЧЁТ



$$5+7=12$$

$$6+8=14$$

$$7+9=16$$

$$8+6=14$$

$$9+4=13$$

$$5+6=11$$

$$6+7=13$$

$$7+8=15$$

$$8+5=13$$

$$9+3=12$$



# Вычисл

|           |           |           |           |           |           |           |
|-----------|-----------|-----------|-----------|-----------|-----------|-----------|
| $50+30=$  | <b>80</b> | <b>И:</b> | $90-30 =$ | <b>60</b> | $80-20 =$ | <b>60</b> |
| $41-1 =$  | <b>40</b> |           | $44+1 =$  | <b>45</b> | $30+15=$  | <b>45</b> |
| $84-80 =$ | <b>4</b>  |           | $37-20 =$ | <b>17</b> | $74-20 =$ | <b>54</b> |
| $10+9 =$  | <b>19</b> |           | $90+9 =$  | <b>99</b> | $70+10=$  | <b>80</b> |

**Провер**

**ь:**



# ПЕРЕВЕДИ!

$$12 \text{ см} = 1 \text{ дм} 2 \text{ см}$$

$$1 \text{ дм} 3 \text{ см} = 13 \text{ см}$$

$$7 \text{ дм} = 70 \text{ см}$$

$$20 \text{ см} = 2 \text{ дм}$$

$$18 \text{ см} = 1 \text{ дм} 8 \text{ см}$$



$$1 \text{ дм} 9 \text{ см} = 19 \text{ см}$$

$$40 \text{ см} = 4 \text{ дм}$$

$$3 \text{ дм} = 30 \text{ см}$$





**В озере 8 окуней, а лещей на 5 меньше. Сколько всего рыб в озере?**



# Как называются данные линии?

Прямая линия



Луч



Отрезок



# Расшифруй слово

Ю  $10 + 1 - 2$

В  $12 - 3 - 7$

А  $10 + 6 + 1$

К  $18 - 1 - 9$

Ч  $19 - 9 - 4$

Д  $11 - 3 - 4$

Й  $8 + 3 + 1$

М  $18 + 1 + 1$

О  $13 - 3 + 0$

4 9 12 20 10 2 10 6 8 17

Д Ю Й М О В О Ч К А

