



математика

Автор :
учитель начальных классов
ГБОУ лицей № 533
Г. Санкт – Петербург
Налбат Анна Николаевна

КТО СТАРШЕ?

Три брата — Ваня, Саша, Коля — учились в разных классах одной школы. Ваня был не старше Коли, а Саша — не старше Вани. Назовите имена самого старшего из братьев, среднего и младшего.



Коля

Я



Ваня

Я



Саша

а

Задач



10

Раз к зайчонку на обед
Прискакал дружок-сосед.
На пенёк зайчата сели
И по пять морковок
съели.


Кто считать, ребята,
ловко?

Сколько съели

морков?



Сколько треугольников увидели
гномы?



8

Реши

примеры:

$2+3=5$

$1+5=6$

$3+3=6$

$8+1=9$

$7-2=5$

$4-2=2$

$8-1=7$

$6-3=3$



