


Сколько?



3



МНОГО



2

7



2





Продолжи ряд

1, 2

1, 2, 3

1, 2, 3, 4

1, 2, 3, 4, 5

1, 3

1, 3, 5


1, 3, 5, 7

1, 3, 5, 7, 9



?





Какое число пропустили?

1, 2, ., 4, 5, .6, 7, 8, . 9

8, 7, 6

5, 4, 3


1, 2, 3

**Молодц
ы!**



Мышь считает дырки в сыре:
Три плюс **две**. Всего...

$$3 + 2 = \text{?}$$






Под деревом **четыре** льва.
Один ушёл. Осталось...

$$4 - 1 = \text{?}$$





Реши примеры

$$5 - 3 = \boxed{2}$$


$$2 + 3 = \boxed{5}$$

$$4 + 1 = \boxed{5}$$

$$4 - 4 = \boxed{0}$$

$$8 - 2 = \boxed{6}$$

$$5 + 0 = \boxed{5}$$



2



3

5



А

6




Д

0



Ч




Задача 1

У Тани было 5 белых котят. 3 котёнка убежали. Сколько котят осталось?

Решение:

$$5 - 3 = 2 \text{ (к.)}$$

Ответ: 2 котёнка.



Задача 2

В вазе лежало 3 яблока и столько же груш. Сколько всего фруктов в вазе?

Решение:

$$3 + 3 = 6(\text{ф.})$$

Ответ: 6 фруктов.



Задача 3

