

Кто быстрее двигался?

- Чих- 4 минуты
- Пых- 3 минуты



60 м



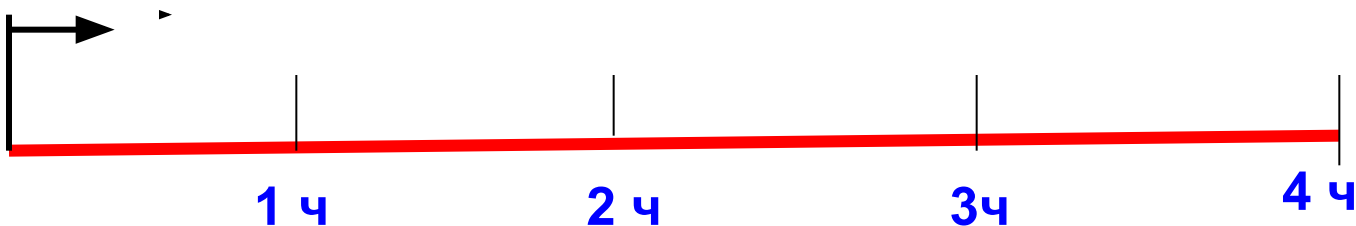

45 м






$$t = 4 \text{ ч}$$

$$s = 200 \text{ км}$$




$$200 : 4 = 50 \text{ км/ч}$$

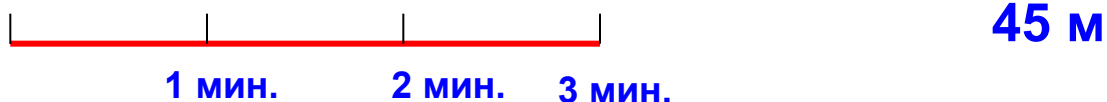
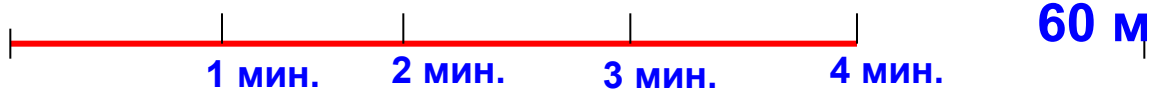



$$V=S:t$$

- V- скорость
- S- расстояние
- t- время



Кто быстрее двигался?



$$60:4 = 15 \text{ м/мин.}$$

$$45:3 = 15 \text{ м/мин.}$$

