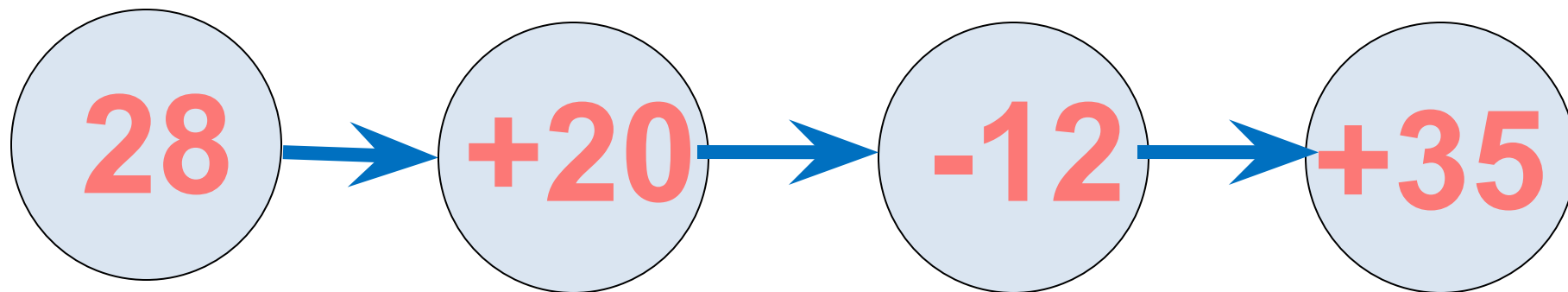
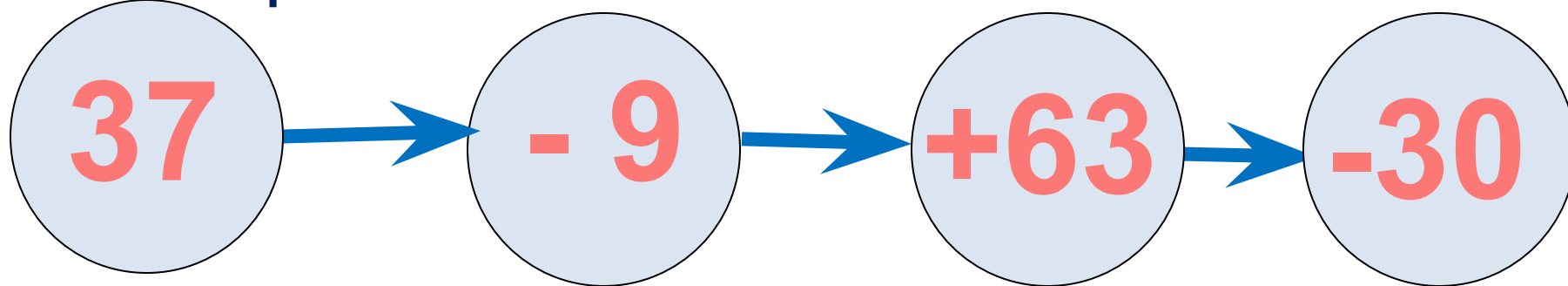
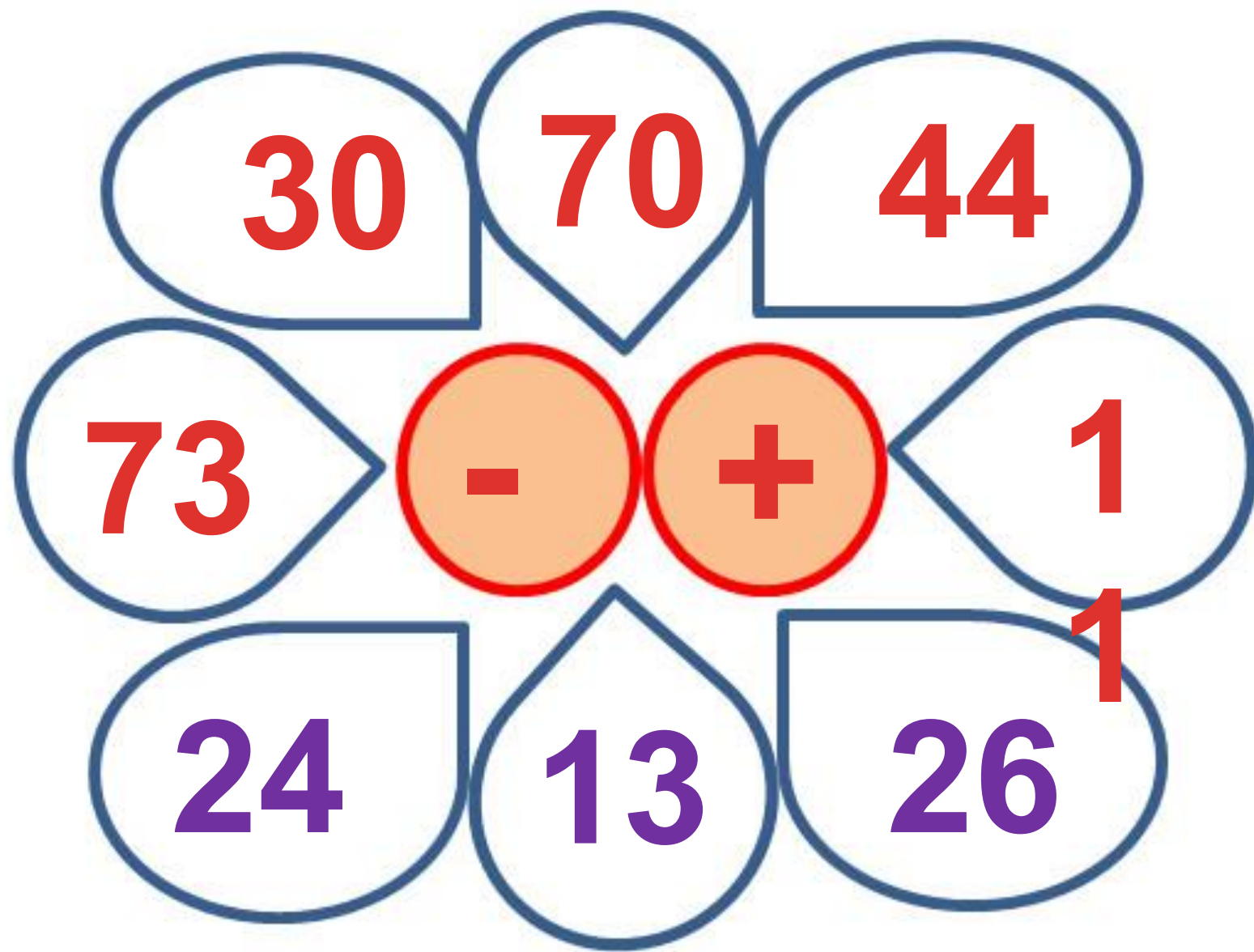


Реши цепочки
примеров.





Длина отрезка **21 см**, другой на **7 см** длиннее. Чему
равна

длина двух отрезков?

1) 28 см

2) 49 см

3) 48 см

Маша испекла **25** пирожков с ягодами, с грибами на **7** меньше, а с капустой столько, сколько с грибами и ягодами вместе.

Сколько пирожков с капустой испекла Маша?

$$25 + (25 - 7) = 43(\text{п.})$$



16

пирожка

Реши уравнения, где надо найти
дели.



$$28 : X = 4$$

$$37 - a =$$

18

$$c : 3 = 5$$

$$40 : a = 10$$

$$X \cdot 4 = 20$$

$$57 - X = 39$$

$$21 : y = 3$$

$$27 : a = 9$$

1. Я задумала число, прибавила к нему 39, получила 42. Какое число я задумала?
2. Я задумала число, вычла его из 21 и получила 15. Какое число я задумала?
3. На сколько 67 меньше 76?
4. На сколько 50 больше 38?
5. Уменьшаемое 41, а разность – 26. Чему равно вычитаемое?

3

36

на 9

на 12

15

В бидоне 3 л молоко. Сколько литров молока в 9 таких бидонах?

$$3 \times 9 = 27 \text{ (л)}$$



27

л