

35 - ОРАНЖЕВЫЙ

8 - ЧЁРНЫЙ

9 - ЗЕЛЁНЫЙ

6 - РОЗОВЫЙ

81 - КРАСНЫЙ

4 - ГОЛУБОЙ ИЛИ

24 - ЖЁЛТЫЙ









Туристы переправлялись через реку на плоту. На первом плоту было 14 туристов, а на втором в 2 раза меньше. Сколько туристов было на втором плоту?



Туристы, проходя через лес, собрали грибы для ужина. Маслят было 152, а подосиновиков в 4 раза меньше. Сколько подосиновиков нашли туристы?



Решение задач по теме «Деление на однозначное число»



1. Выделяем первое неполное делимое;

2. Определяем количество цифр в значении частного;

3. Находим цифры в значении частного

Туристы, проходя через лес, собрали грибы для ужина. Маслят было 152, а подосиновиков в 4 раза меньше. Сколько подосиновиков нашли туристы?









я научился ...

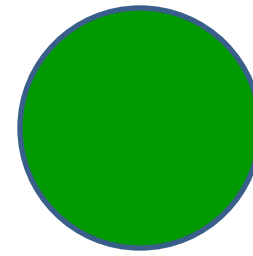
мне было интересно ...

мне было трудно ...


мне ещё нужно ...




**Урок полезен, всё
понятно**



Лишь кое-что чуть-чуть неясно



**Ещё придётся
потрудиться**



**Да, трудно всё-таки
учиться**

