

**К урокам в 1-ом классе:
«Сложение и вычитание до 10»**

Учитель Тарасова Н.С.
НОУ СОШ «Лотос»
Г. Москва

КТО ЕСТЬ КТО?



Шарик

Тузик

Бобик

Трёх щенков называли Бобик, Шарик и Тузик.
У Бобика длинные уши. У Шарика длинный хвост.
А Тузик сидит в середине.

КТО ЕСТЬ КТО?



Мурзик

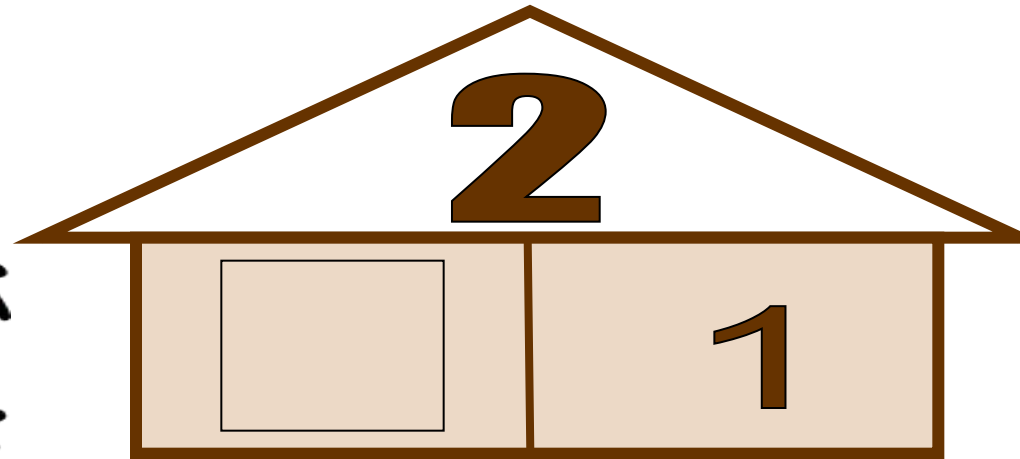
Нюся

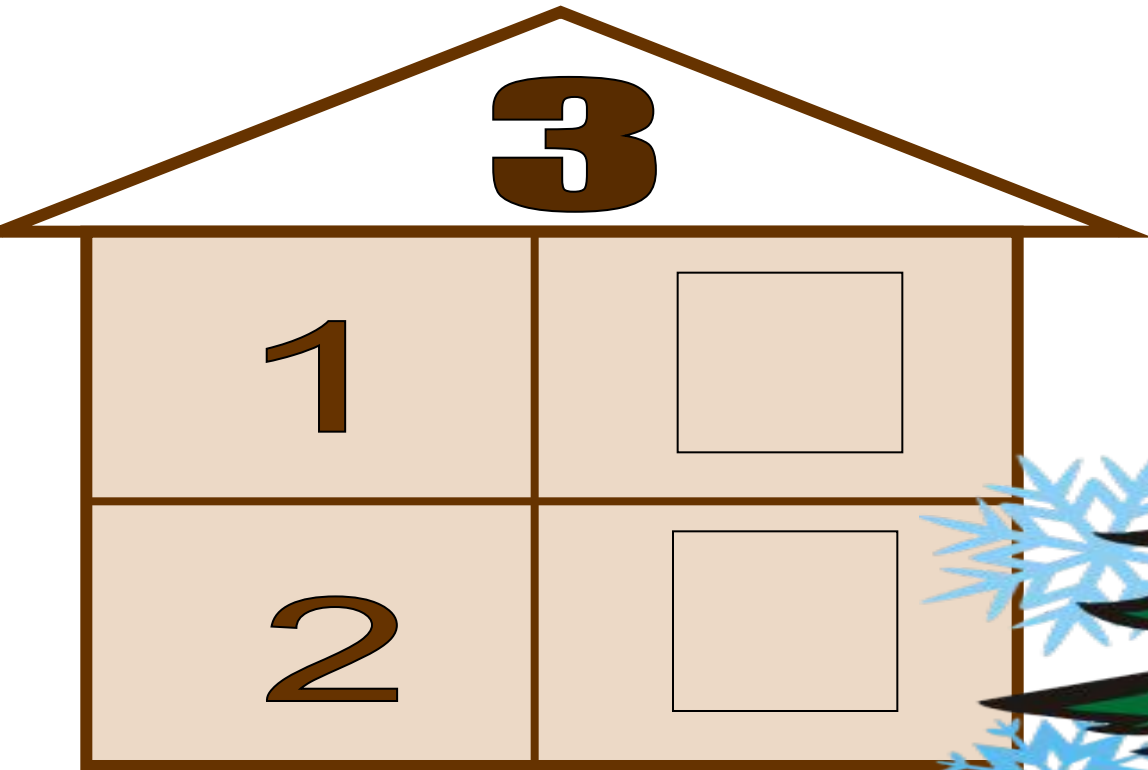
Пушок

Это Нюся, Пушок и Мурзик.
Нюся и Мурзик не полосатые.
Справа от Нюси сидит Пушок.

Каким этажом сверху будет шестой этаж девятиэтажного дома?









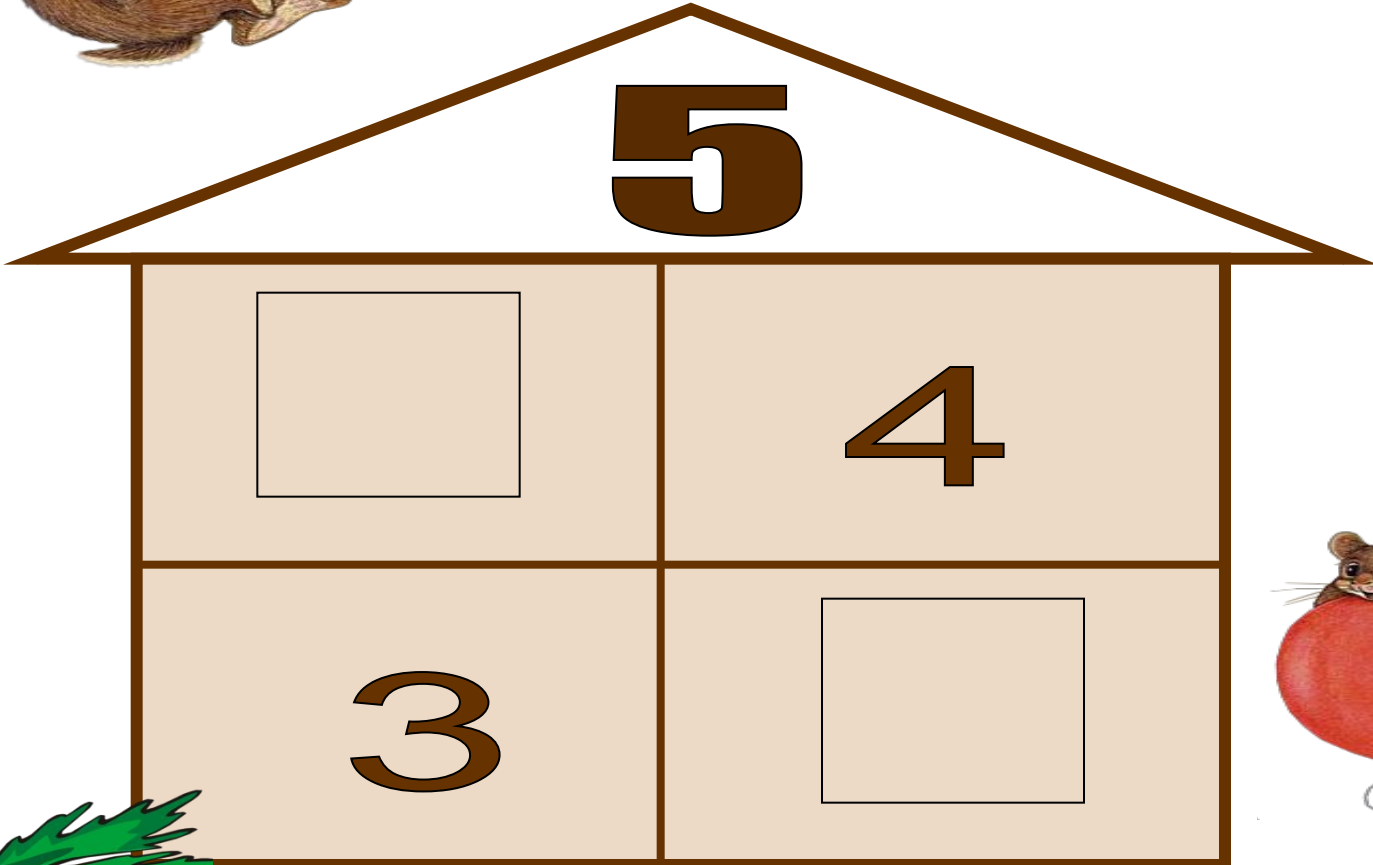

4



3

2





Заполни пустые карточки

$$\begin{array}{|c|} \hline \bullet & \bullet \\ \hline \bullet & \bullet \\ \hline \bullet & \bullet \\ \hline \end{array} - \begin{array}{|c|} \hline & \bullet \\ \hline \bullet & \bullet \\ \hline \bullet & \\ \hline \end{array} = \begin{array}{|c|} \hline \\ \hline \\ \hline \\ \hline \end{array}$$

$$\begin{array}{|c|} \hline \bullet & \bullet \\ \hline \bullet & \bullet \\ \hline \bullet & \bullet \\ \hline \end{array} - \begin{array}{|c|} \hline \bullet & \bullet \\ \hline \bullet & \bullet \\ \hline \bullet & \bullet \\ \hline \end{array} = \begin{array}{|c|} \hline \\ \hline \\ \hline \\ \hline \end{array}$$

$$\begin{array}{|c|} \hline \bullet & \bullet \\ \hline \bullet & \bullet \\ \hline \bullet & \bullet \\ \hline \end{array} - \begin{array}{|c|} \hline & \bullet \\ \hline \bullet & \bullet \\ \hline \bullet & \\ \hline \end{array} + \begin{array}{|c|} \hline & \bullet \\ \hline \bullet & \\ \hline & \\ \hline \end{array} - \begin{array}{|c|} \hline \bullet \\ \hline \\ \hline \\ \hline \end{array} + \begin{array}{|c|} \hline & \bullet \\ \hline \bullet & \\ \hline & \\ \hline \end{array} - \begin{array}{|c|} \hline \bullet & \bullet \\ \hline \bullet & \bullet \\ \hline \bullet & \bullet \\ \hline \end{array} = \begin{array}{|c|} \hline \\ \hline \\ \hline \\ \hline \end{array}$$

Верное решение

$$\begin{array}{|c|} \hline \bullet & \bullet \\ \hline \bullet & \bullet \\ \hline \bullet & \bullet \\ \hline \end{array} - \begin{array}{|c|} \hline & \bullet \\ \hline \bullet & \bullet \\ \hline \bullet & \bullet \\ \hline \end{array} = \begin{array}{|c|} \hline & \bullet \\ \hline & \bullet \\ \hline & \bullet \\ \hline \end{array}$$

$$\begin{array}{|c|} \hline \bullet & \bullet \\ \hline \bullet & \bullet \\ \hline \bullet & \bullet \\ \hline \end{array} - \begin{array}{|c|} \hline \bullet & \bullet \\ \hline \bullet & \bullet \\ \hline \bullet & \bullet \\ \hline \end{array} = \begin{array}{|c|} \hline & \bullet \\ \hline & \bullet \\ \hline & \bullet \\ \hline \end{array}$$

$$\begin{array}{|c|} \hline \bullet & \bullet \\ \hline \bullet & \bullet \\ \hline \bullet & \bullet \\ \hline \end{array} - \begin{array}{|c|} \hline & \bullet \\ \hline \bullet & \bullet \\ \hline \bullet & \bullet \\ \hline \end{array} + \begin{array}{|c|} \hline & \bullet \\ \hline & \bullet \\ \hline & \bullet \\ \hline \end{array} - \begin{array}{|c|} \hline & \bullet \\ \hline & \bullet \\ \hline & \bullet \\ \hline \end{array} + \begin{array}{|c|} \hline & \bullet \\ \hline & \bullet \\ \hline & \bullet \\ \hline \end{array} - \begin{array}{|c|} \hline \bullet & \bullet \\ \hline \bullet & \bullet \\ \hline \bullet & \bullet \\ \hline \end{array} = \begin{array}{|c|} \hline & \bullet \\ \hline & \bullet \\ \hline & \bullet \\ \hline \end{array}$$