

Математик

а

2 класс

Урок

№39

2часть

$23+50$

$52+15$

$90-29$

$20+53$

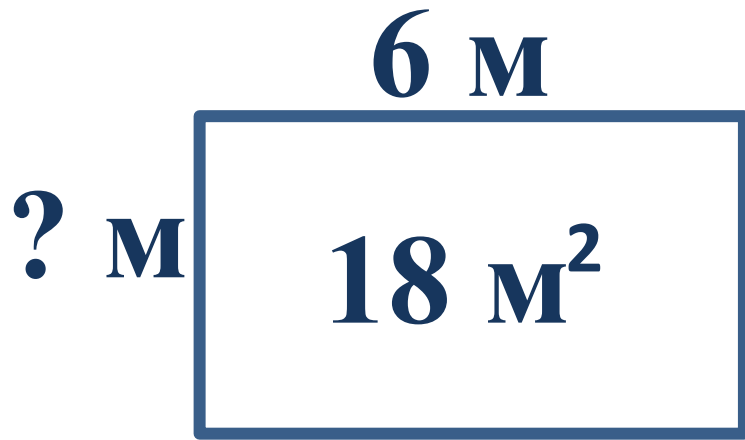
$48+19$

$91-30$

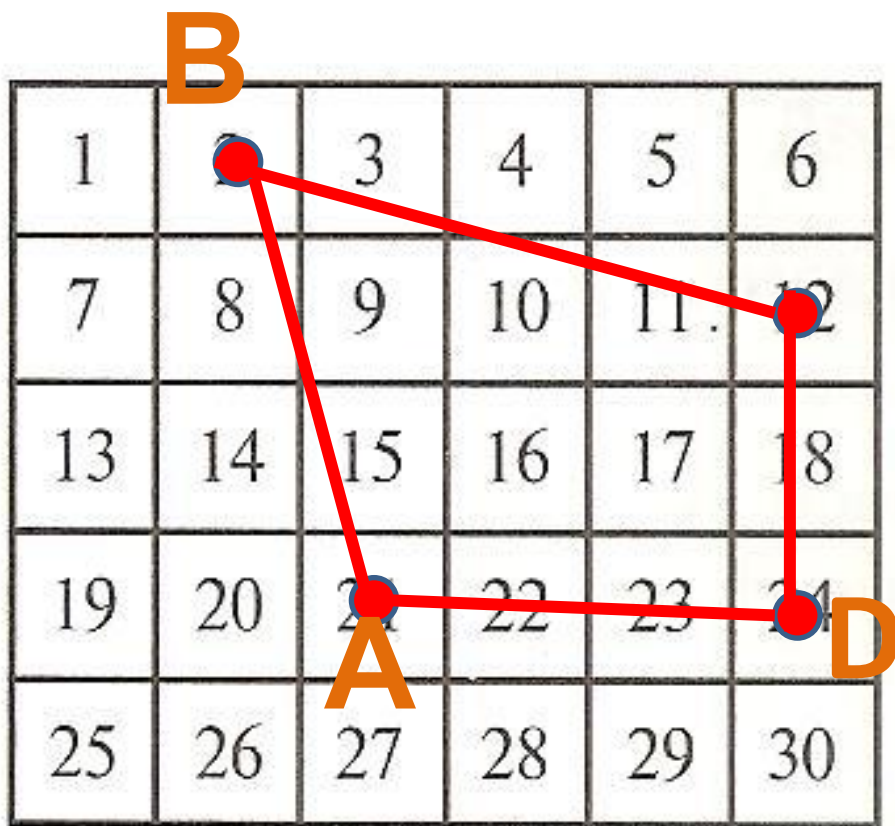
73

67

61



Весной кролик пошёл работать на огород. Площадь огорода 18 кв.м, а длина – 6м. Какова его ширина?



(A) $7 \cdot 3 : 1$

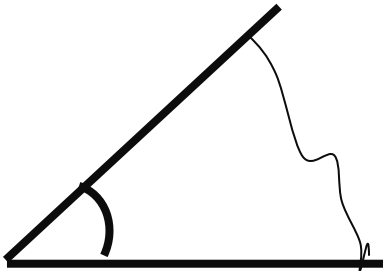
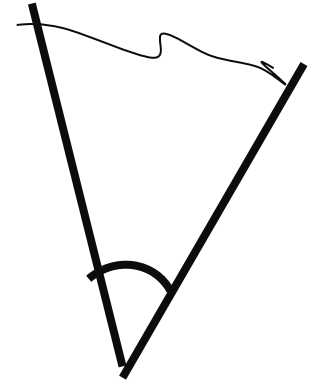
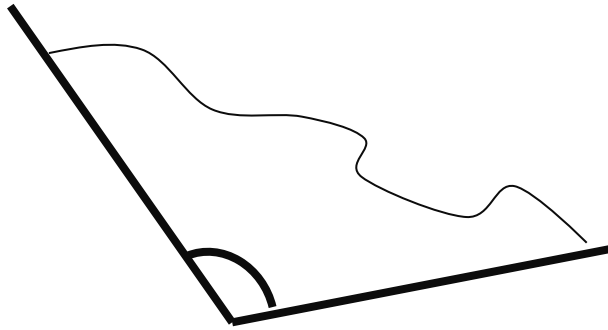
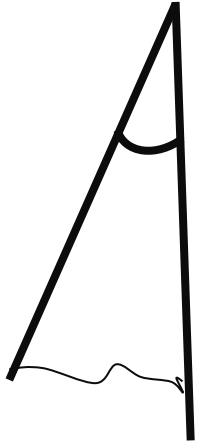
(B) $18 : 3 : 3$

(C) $27 : 9 \cdot 4$

(D) $15 : 5 \cdot 8$

$\angle A$ $\angle C$ -
и тупые

$\angle D$ -
прямой
 $\angle B$ -
острый





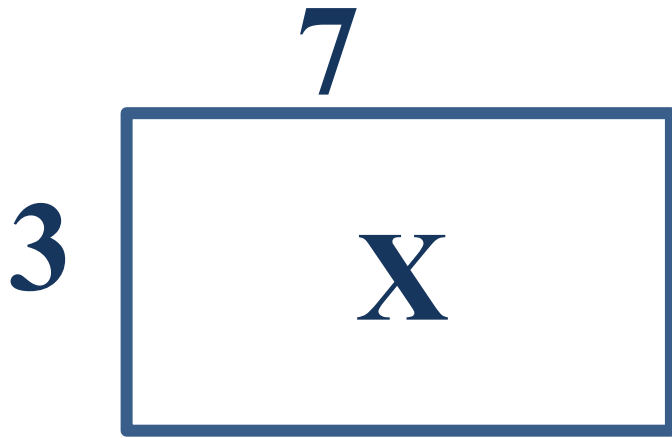
**Сапожнику заказали сшить по
паре
сапог дочерям короля. Сапожник
сшил $12 : 2 = 6$
12 сапог. Сколько дочерей было**




**Лиса бросила петушку
3 горсти гороха по 9
горошин в каждой.
Петушок горох
склевал, но так и не
выглянул. Сколько
горошин склевал он?**

$$9 \cdot 3 = 27$$

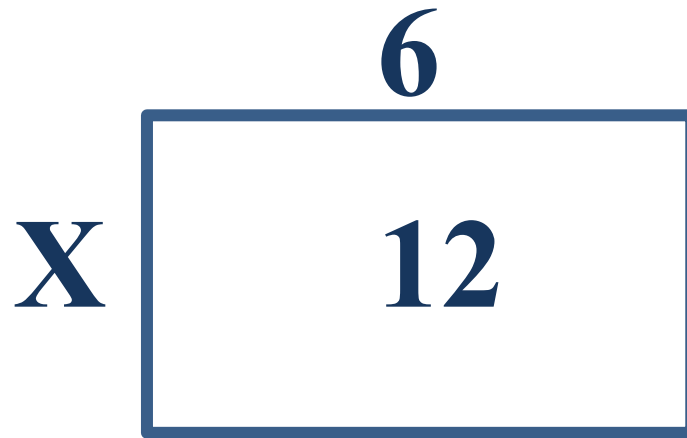
(гор.)



$$7 \cdot 3 = 21$$



$$8 : 2 = 4$$



$$12 : 6 = 2$$