

# Соедини пример с ОТВЕТОМ

$6+2=$

$5+5=$

$8-3=$

$7-3=$

$10-3=$

$9-3=$

$6+3=$

6

8

5

7

4

9

10

# Наряди ёлку

$1+2$

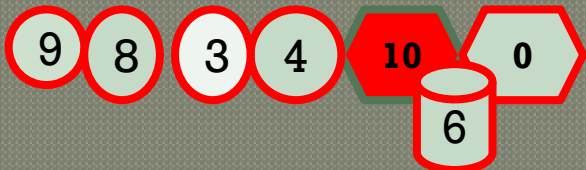
$6+3=$

$8-8=$

$10=6+$

$10-2=$

$7+3=$



$9-5=$

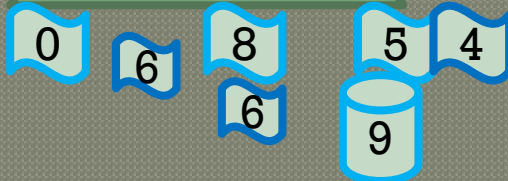
$9-3=$

$8-3=$

$5+3=$

$10-10=$

$6+0=$



$8+2=$

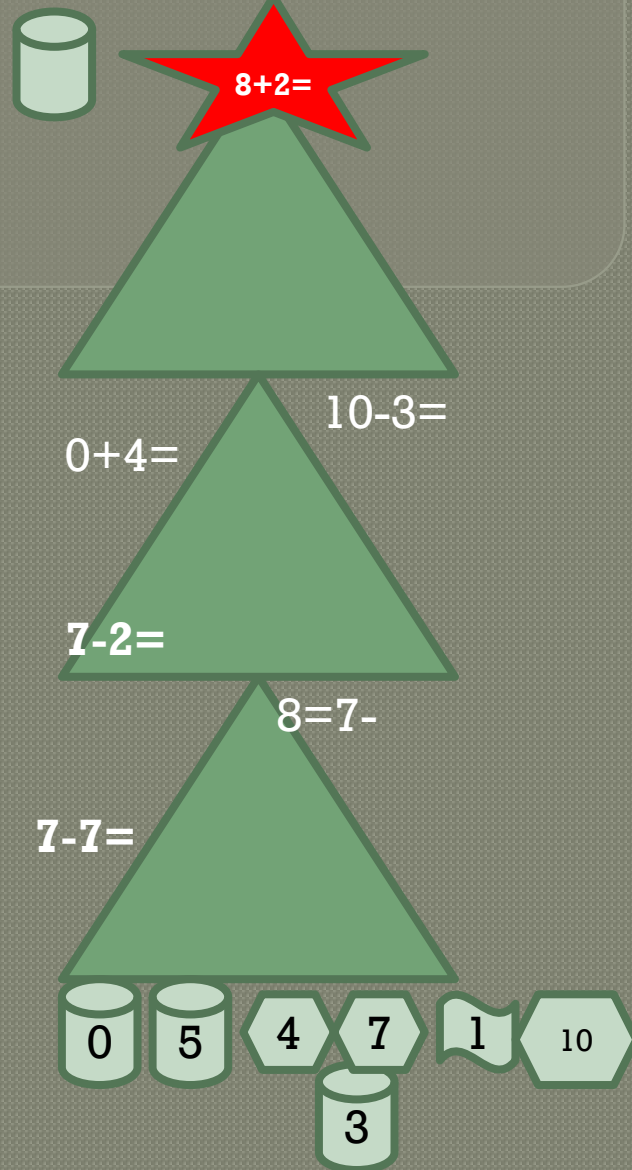
$10-3=$

$0+4=$

$7-2=$

$8=7-$

$7-7=$



# Логическая разминка

В корзине были яблоки: красные и зелёные, всего 7 яблок.

Зеленых яблок было меньше, чем красных.

Покажи с помощью

таблицы, сколько зелёных яблок могло быть в корзине?

ВСЕГО	7	7	7
ЗЕЛЕННЫЕ	1	2	3
КРАСНЫЕ	6	5	4

7

4

# ПРОВЕРЬ СЕБЯ ВЫЧИСЛЕНИЕМ.

5

$10-5+4=$

$5+3-8=$

$9=5+3+$

$9-6+2=$

$8= +2+1$

$10-6+3=$


$7+ -2=8$

4

9

1


4



$3+1=$


У Даши и Люды были по 7 конфет.  
Даша отдала Люде 1 конфету.  
На сколько меньше конфет стало у  
Даши,

чем у Люды?



**ДАШ**  
**А**

**НА 2**





**ЛЮД**  
**А**

У Даши и Люды были по 7 конфет.

Сколько конфет Даша отдала Люде, если у Люды стало на 4 конфеты больше, чем у Даши ?

**ДАША**



**ЛЮДА**

10

# ПРОВЕРЬ СЕБЯ ВЫЧИСЛЕНИЕМ .



3

0

1

7

2

$$8-3+2-1-3=$$

4

8

$$10-3+2-1-2+2=$$

$$7-3+2-1-3+2=$$


$$2+0-1+3-2-2=$$

$$2+5-3-2-1+0=$$

0

$$10+0-2-2-3-1=$$

$$1+9-3-3-4+0=$$



$$9+1$$

=



**МОЛОДЦ**

**Ы!**

