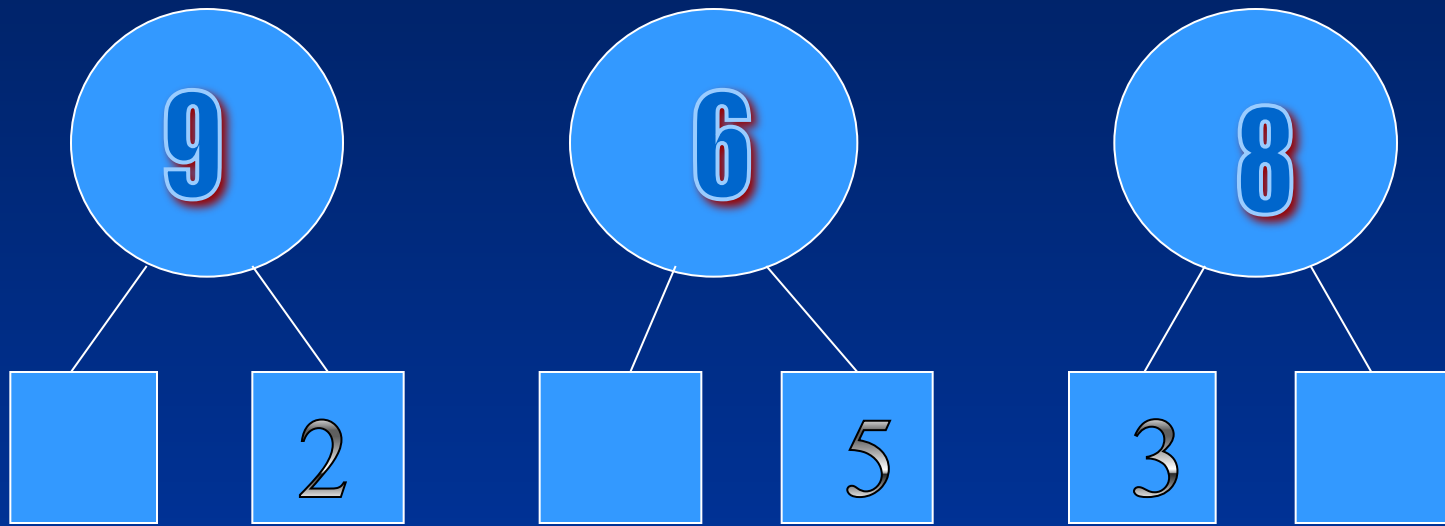


Устный счет.

- Какие карточки закрыты?



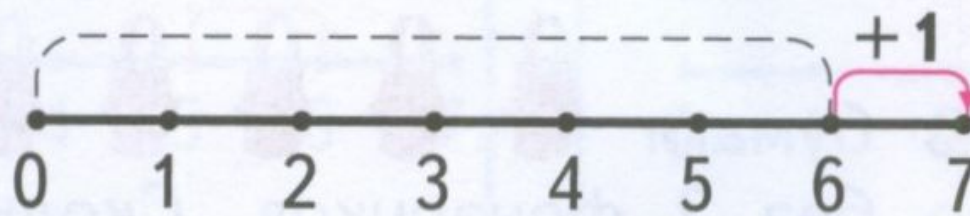
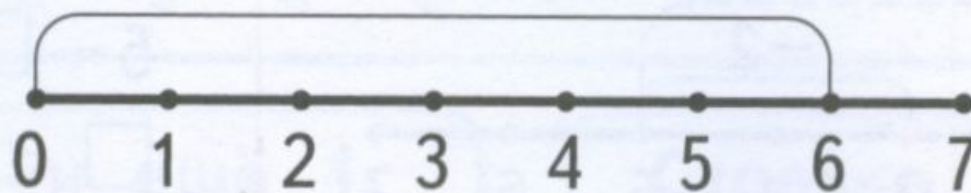
УСТНЫЙ СЧЕТ.

2. Задачи.

- Зина принесла 2 листа синей бумаги и 6 листов красной. Сколько листов бумаги принесла Зина?
- На тарелке лежало 8 кусков хлеба. За обедом 5 кусков съели. Сколько кусков хлеба осталось?
- У бабушки были чёрные и белые кролики. Сколько всего кроликов было у бабушки?

У Васи было 10 рублей. Он купил карандаш, и у него стало на 3 рубля меньше. Сколько рублей теперь у Васи?

На ёлке было 3 разноцветных шаров, а стало столько же ,и ещё 2. Сколько шаров стало на ёлке?



Соня вымыла



а Маша –на 2 чашки

больше. Сколько чашек
вымыла Маша?

Витя нашёл  , а

Коля – на 1 гриб **меньше**.

Сколько белых грибов
нашёл Коля?

Физкультминутка.

От зелёного причала
Оттолкнулся пароход.

Он назад шагнул сначала – раз, два,

А потом шагнул вперёд – раз, два.

И поплыл, поплыл по речке,
Набирая полный ход.

Работа над пройденным материалом.

Игра «Читаем примеры по-разному».

$6 + 3$

$4 + 1$

$6 - 2$

$8 - 1$

$7 + 2$

$5 + 3$

$10 - 3$

$3 +$

3

Работа над пройденным материалом.
Незнайка решил примеры так:

$$6+3=10$$

$$8-3=5$$

$$0+3=3$$

$$7+2=9$$

$$9-2=6$$

$$1+0=1$$

Если найдёте ошибки, исправьте.

Работа над пройденным материалом.

Сравните:

$10 * 0$

$6 * 7+2$

$4-3 * 7$

$1 * 10$

$7 * 5-3$

$7+3 * 10$

Работа над пройденным материалом.

Вставь вместо точек пропущенное число.

$$8 + \dots = 10$$

$$7 - \dots = 6$$

$$9 - \dots = 7$$


$$\dots + 2 = 6$$

$$\dots - 3 = 2$$

$$6 - \dots = 2$$

Задачи на смекалку.

- В корзинке сидели котята. У всех котят 4 пары ушек. Сколько котят в корзинке?
- На ледяной горке каталось 6 ребят. Двое из них ушли обедать, но после обеда вернулись на горку. Сколько ребят стало на горке?



Спасибо за внимание