

**ГБОУ СОШ  
№538**

**Математика  
в подготовительной  
группе**



**Задания к открытому  
занятию.**

**Воспитатель Алдусева Н.  
Л.**

Покажите пропущенное  
число

1 2 ? 4 5 6 ? 8 9



9 ? 7 6 5 ? 3 2 1

? 7 ?

? 4 ?

2 4 ? 8 ?

1 ? 5 7 9



У Юры 3 кубика, а у Серёжи 2 кубика.

На столе стоит коробка, в которой помещается 4 кубика.

Смогут ли мальчики уложить в эту коробку все свои кубики?

Я задумала число, прибавила к нему 2. Получилось 6. Какое число я задумала?

Если сложить два числа получится 5. Какими могут быть эти числа?

У Тани 3 яблока, а у Кати на 1 меньше. Сколько яблок у Кати? **Сколько всего яблок у девочек?**

Маше 5 лет, а Саша на 2 года младше Маши. Сколько лет Саше?



**На большом  
диване в ряд  
Куклы Танины  
сидят:**

**2 матрешки,  
Буратино  
И веселый  
Чипполино.  
Помогите  
Танюшке  
Сосчитать  
игрушки**



**Наша Маша рано  
встала-  
Кукол всех  
пересчитала:  
Две Матрешки на  
окошке,  
Две Аринки на  
перинке,  
Две Танюшки на  
подушке,  
А Петрушка в  
колпачке  
На дубовом сундучке  
Сколько всех?**

Какой знак нужно  
поставить.

6 ? 4


8 ? 9

4 + 1 ? 5

4 + 1 ? 6

4 + 1 ? 3





Отыщите двух одинаковых медвежат

1



2



3



4



5

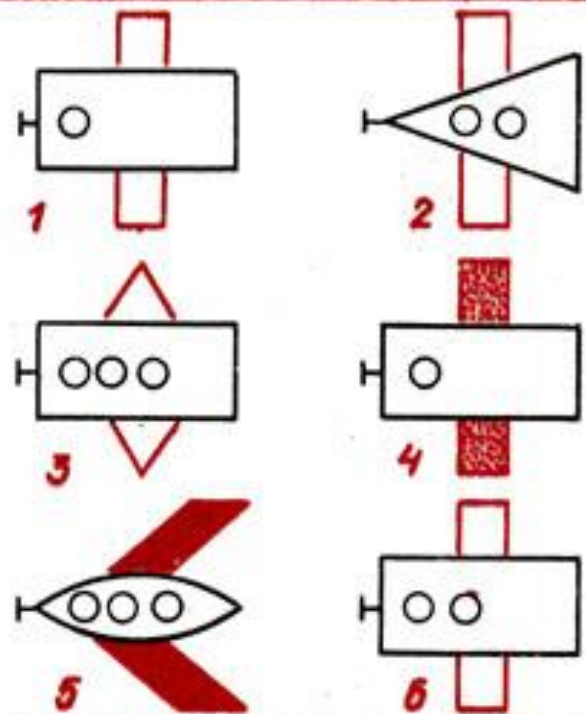
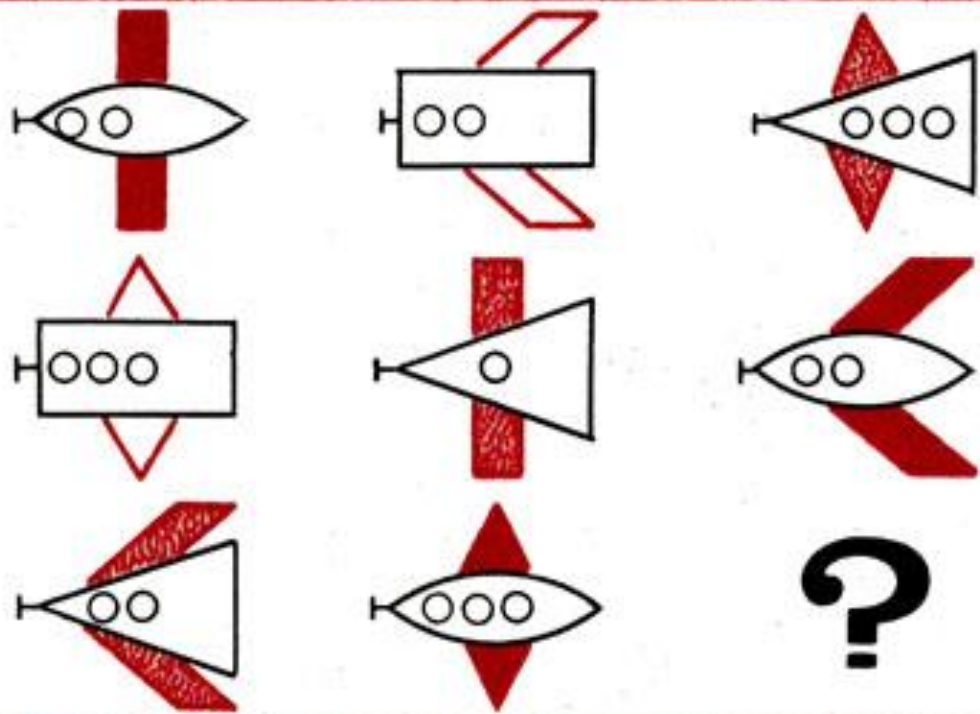


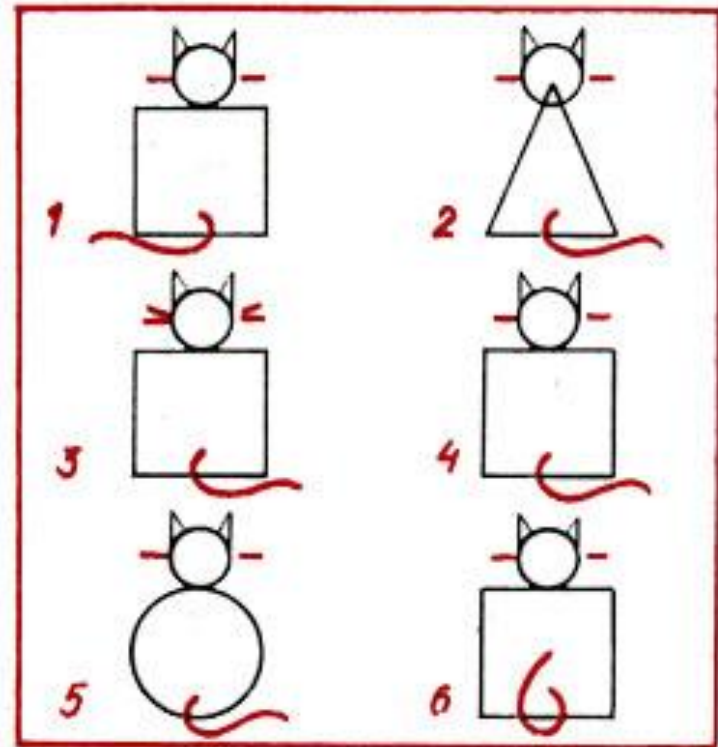
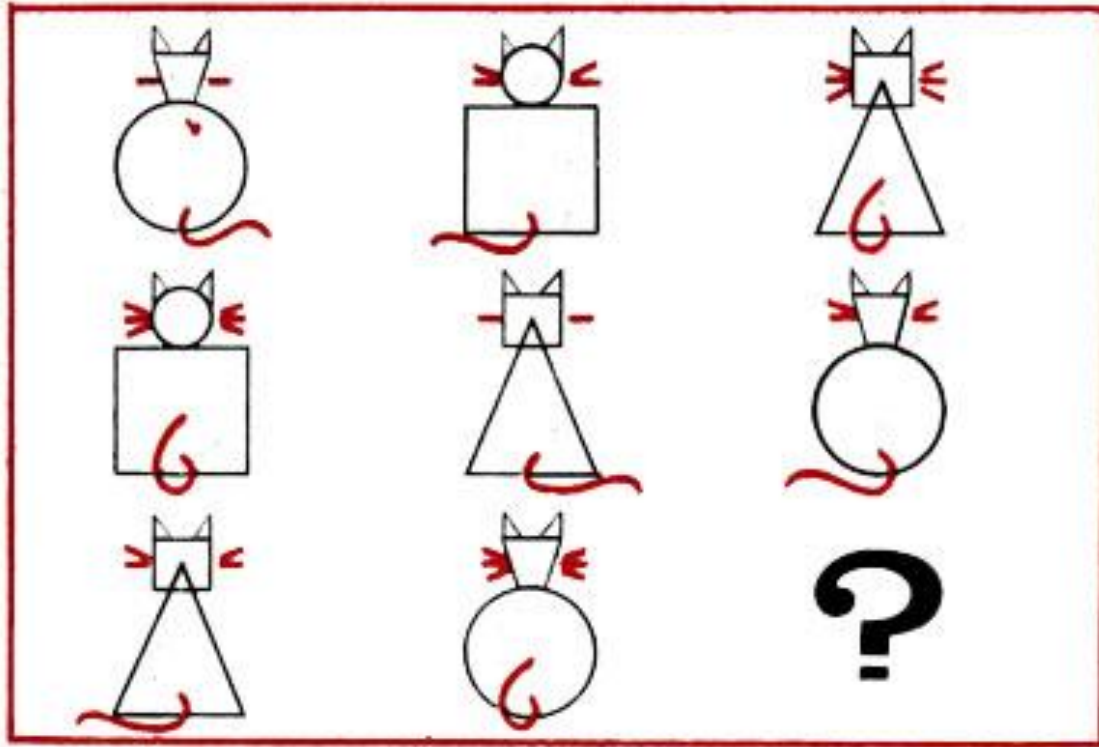

6





# Найдите пропущенную фигуру.





НИЗ



СЕРЕДИНА



ВЕРХ



ЧТО У НАС ДОЛЖНО ПОЛУЧИТЬСЯ?

