

К дистанционному уроку 3.04

Урок математики в 1 классе
УМК «Начальная школа XXI века»

Тема урока
«На сколько больше
или меньше»

Устный счет

Выбери правильный ответ:

В первой волшебной книге
содержится 9 заклинаний,
а во второй - на 2 меньше.
Сколько заклинаний
содержится во второй книге?



6

9

7

Выбери правильный ответ:

У Мага 7 колдовских книг
и 3 волшебные палочки.

Сколько волшебных
предметов у Мага?

4

10

8



Выбери правильный ответ:

**Большой рейсовый ковер-самолёт вмещает
5 пассажиров.**

Сколько пассажиров может перевезти ковер-самолет за два рейса?

6

10

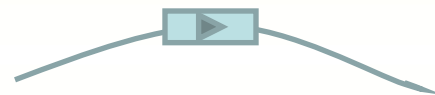
7





-4

5	1
13	9
12	8
11	6



-3


12	9
13	10
11	8
3	0

Реши задачу:

В темнице 15 дверей и 6 окон.
На сколько окон меньше, чем дверей?

Решение:

Ответ:





8
больше
6

4
меньше
13

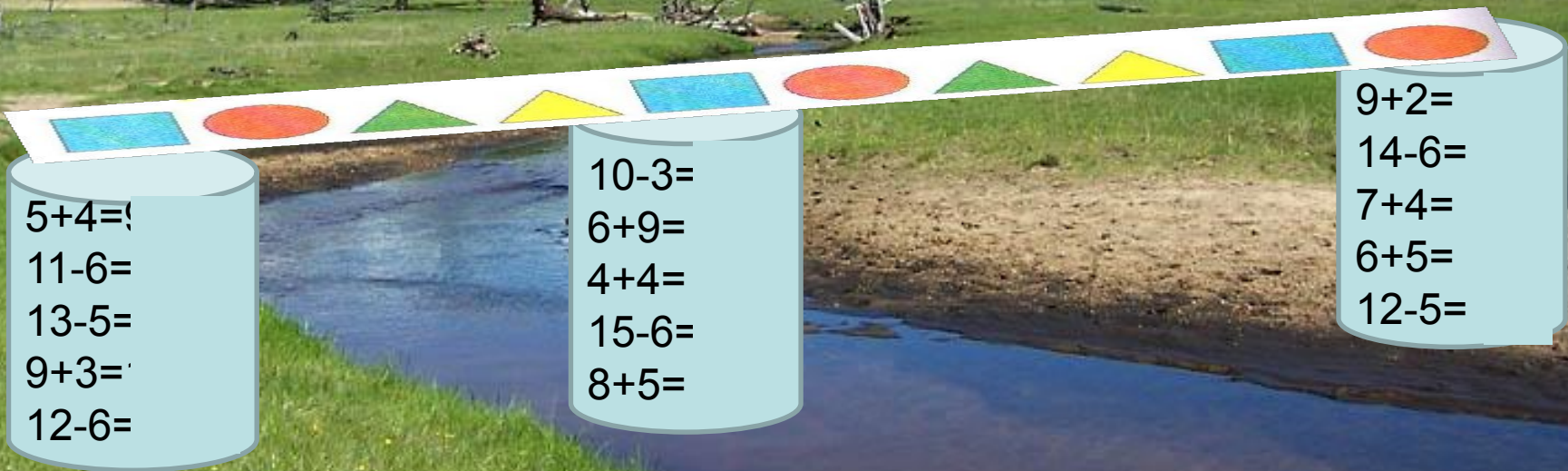
12
больше
4

3
меньше
5

10
больше
6

13
больше
7


0
меньше
7



$5+4=$
 $11-6=$
 $13-5=$
 $9+3=$
 $12-6=$

$10-3=$
 $6+9=$
 $4+4=$
 $15-6=$
 $8+5=$

$9+2=$
 $14-6=$
 $7+4=$
 $6+5=$
 $12-5=$



**Не надо лениться учиться!
Математику знать пригодится!**

