

$2+2=$

$ax+by=c$

Подготовка к мониторингу по математике 1 класс 2013-2014




$$\begin{array}{r} 25 \overline{) 5} \\ 25 \overline{) 5} \\ \hline 0 \end{array}$$



Задание 1

A 3x3 grid of numbers is shown. The numbers are: 12, 14, 16 in the top row; 8, 9, 17 in the middle row; 20, 15, 10 in the bottom row. There are arrows pointing from circles to the numbers: a circle on the left points to 12; a circle with a blue 'X' on the left points to 8; a circle on the left points to 20; a circle with a blue 'X' at the bottom left points to 15; a circle at the bottom center points to 15; a circle at the bottom right points to 10; a circle on the right points to 16; a circle on the right points to 17; a circle with a blue 'X' on the right points to 10.

**Какие из чисел меньше 12?
Отметьте крестиком.**



Задание 2

$$9 + 3$$

17

12

15

20

Выполните действие.

Отметьте ответ

«крестиком»



Задание 3

По двору разгуливали 4
кота. Один убежал.
Сколько котов
осталось?


4

1

5

3

**Решите задачу и отметьте ответ
«крестиком».**



**Если вы ошиблись, то
зачеркните свой ответ
и поставьте крестик
под верным ответом**

4

1

5

3



**Катя посадила 6 морковок,
а Аня - 4. Сколько морковок
посадили девочки?**

Запишите решение и ответ.

Решение:

$$6 + 4 = 10 \text{ (м.)}$$

Ответ:

10 морковок.

Задание 4



$$\del{6 + 3 = 9 \text{ (м.)}}$$

$$6 + 4 = 10 \text{ (м.)}$$

Ответ:



Задание 5

**Выполните действие.
Запиши ответ.**

$$2 + 6$$

Ответ:

8									
---	--	--	--	--	--	--	--	--	--



Задание 6

**Запиши числа 10, 5 и 7
в порядке счета.**

5, 7, 10



Задание 7

Сумма каких чисел равна 4?


Решение 1: $1+1+1+1$

Решение 2: $2+2$

Решение 3: $1+3$

Решение 4: $2+1+1$

Решение 5: $4+0$



Задание 8

У Иры 8 наклеек, а у Наташи 10. На сколько наклеек у Наташи больше?

на 18

на 2

на 6

на 9



Игорь решил купить машинку за 4 рубля. Какой монетой он сможет расплатиться и сколько рублей он получит на сдачу? Запиши решение и ответ.



10	-	4	=	6	(руб.)														
-----------	----------	----------	----------	----------	---------------	--	--	--	--	--	--	--	--	--	--	--	--	--	--

5	-	4	=	1	(руб.)														
----------	----------	----------	----------	----------	---------------	--	--	--	--	--	--	--	--	--	--	--	--	--	--



**Разбейте
фигуры
на
группы**

**Сергей спросил у одноклассников,
какие фрукты они любят?**

Результаты он записал в таблицу.

Фрукты	Мальчики	Девочки	
Апельсины	5	3	8
Груши	-	4	4
Яблоки	8	2	10
Бананы	4	5	9
Киви	2	-	2

**Какие фрукты девочки в всего любят
все дети? И кто любит бананы?**

Апельсины Яблоки Бананы Киви Груши

Мама купила 1 десяток яиц.
Папа съел на завтрак яичницу
из трёх яиц, а сын сварил себе
1 яйцо. Сколько яиц съели на
завтрак?

Запишите решение и ответ.

$$3+1=4(\text{яйца})$$

Презентацию составила
Мухачева Юлия
Вячеславовна
учитель начальных классов
ГБОУ СОШ №1055
г. Москвы

