

**Муниципальное бюджетное общеобразовательное учреждение Средняя
общеобразовательная школа с.Успенка**

**Открытый урок по математике
«Закрепление приемов сложения и вычитания»**

Подготовила
учитель 2 класса
Монгуш А.К.

Здравствуйте ребята!




Наш девиз:

□ Хочу всё знать




□ Наша планета Земля. Такой её видят
КОСМОНАВТЫ ИЗ КОСМОСА.

Тема урока:

- 73 Закрепление
 - 52 приёмов
 - 35 сложения
 - 22 и
 - 14 вычитания
- 

Отправляемся в путешествие

- ▣ *Есть просто храм, есть храм науки,*
 - ▣ *А есть ещё природы храм*
 - ▣ *С лесами, тянущими руки*
 - ▣ *Навстречу солнцу и ветрам.*
- 

Задача на внимание



<http://www.liveinternet.ru/users/naknika/>

- Сколько в лесу растёт хвойных деревьев,
- если там 19 елей, 7 осин и 3 сосны.



ОСИНА

<http://www.liveinternet.ru/users/maknika/>



- Осина за день поглощает 60 л воды, а берёза на 30 л меньше. Сколько литров воды поглощает берёза?
- А сколько вместе?

- Постоянным жителем зимних хвойных лесов является одна маленькая птичка. А кто она, вы узнаете, если выполните правильно следующее задание.
- - Прочитайте. Что значит уменьшить на 4?
- - *Уменьши на 4: 29 75 40 33 18*



КЛЁСТ


- Птицы дороги нам как часть чудесной природы. Их melodичные, весёлые, звонкие песни, яркое оперение оживляют природу, вселяют в нас бодрость и радость. Как мы можем заботиться о птицах? А хотите узнать, чем питается, например, кукушка?



- ▣ - Кукушка съедает за день **62** кузнечика и **24** гусеницы бабочки капустницы. Сколько всего насекомых съедает кукушка за день?



Физкультминутка



Спал цветок и вдруг проснулся-

(туловище вправо, влево)

больше спать не захотел.

(туловище вперёд, назад)

Шевельнулся, потянулся,


(руки вверх, потянуться)

Взвился вверх и полетел.

(руки вверх, влево, вправо)

Солнце утром лишь проснётся,

Бабочка кружит и вьётся.






- ▣ **Облака, облака-**
- ▣ **Облака кудрявые,**
- ▣ **Целые, дырявые,**
- ▣ **Лёгкие, воздушные,**
- ▣ **Ветерку послушные.**



- Облака не только летают по небу, но заботятся о деревьях и цветах. Как они это делают?




Многоугольник





- Сколько треугольников?
- А сколько четырехугольников?

Решите задачу



□ В парке посадили пионы и розы. Всего 35 цветов, из них 12 пионов. Сколько роз посадили в парке?



Благодарю вас за активную работу.

Помните, что учиться, всегда пригодится.