

# Меньше или больше



ГБОУ ЦО № 354

учитель математики Иванова И.В.

# Разминка:

ме100

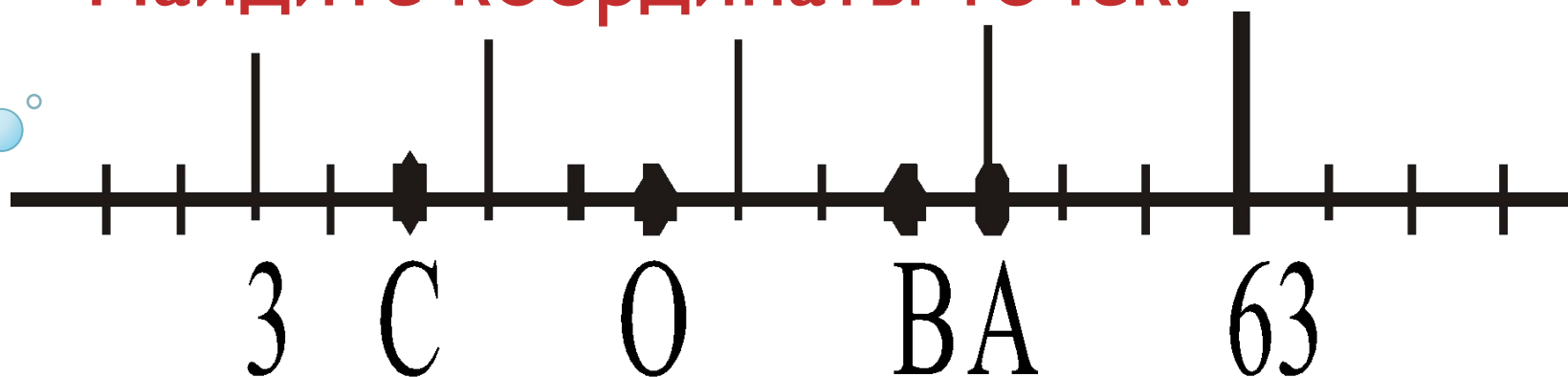
трос.



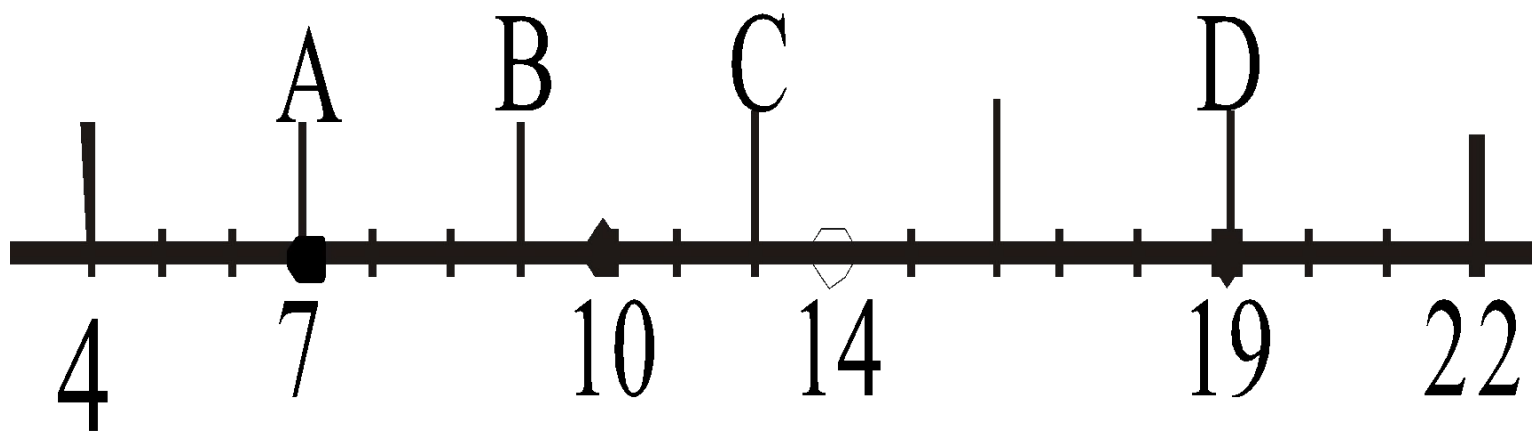
и100рия

Збуна

Найдите координаты точек:



Какая из точек указана неверно?



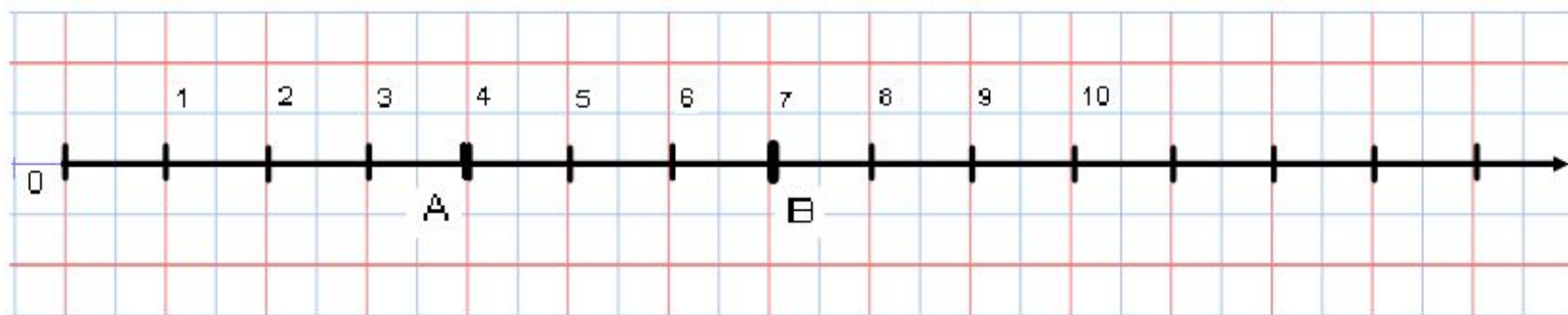
# 32

Из двух натуральных чисел **103** *меньше* то, которое при счете называют раньше, и *больше* то, которое при счете называют позже.

1 – самое маленькое натуральное число



Точка с меньшей координатой  
лежит на координатном луче левее  
точки с большей координатой:



Точка  $A(4)$  лежит левее точки  $B(7)$

Нуль **меньше** любого натурального числа

Результат сравнения записывают в виде неравенства:

$$4 < 7, 8 > 7$$

или двойного неравенства:

$$4 < 7 < 8$$



# Задание на дом:

п. 5, вопросы на стр.30, №№ 168,  
171, 177

