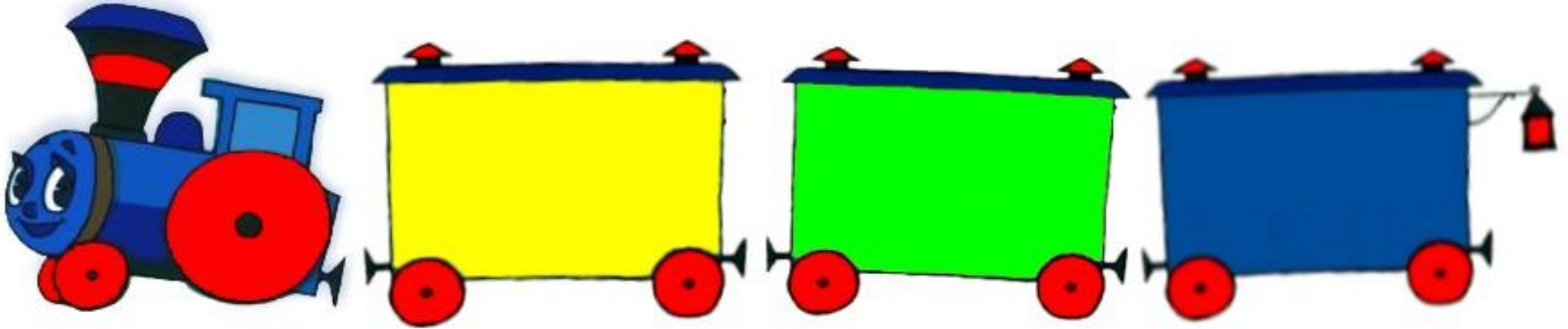
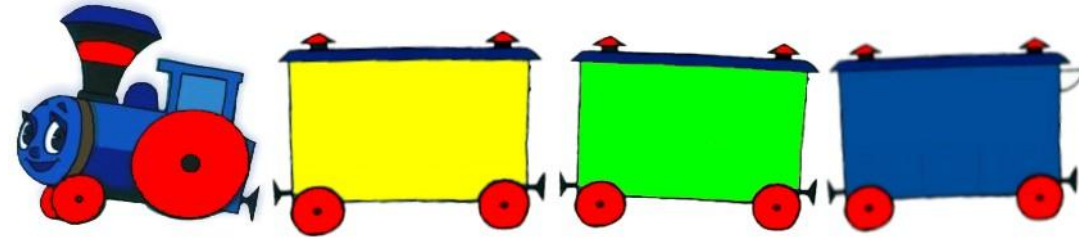


$$\square + 2$$

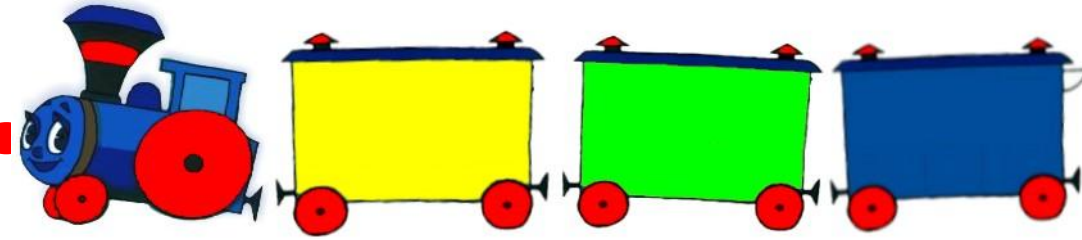
$$\square - 2$$




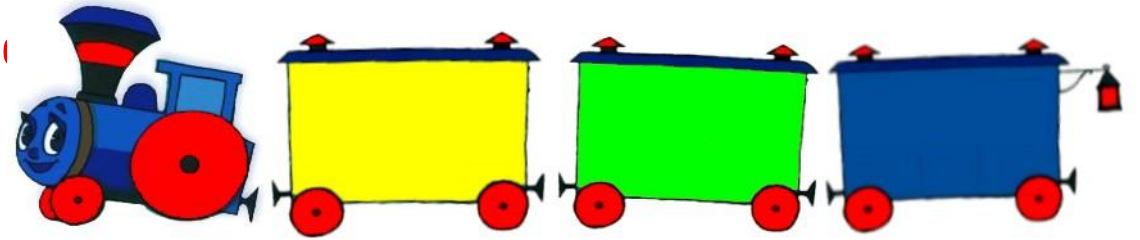
Числовая.



Считалкино.



Присчитай-ка, отсчитай-ка.



С. 94.

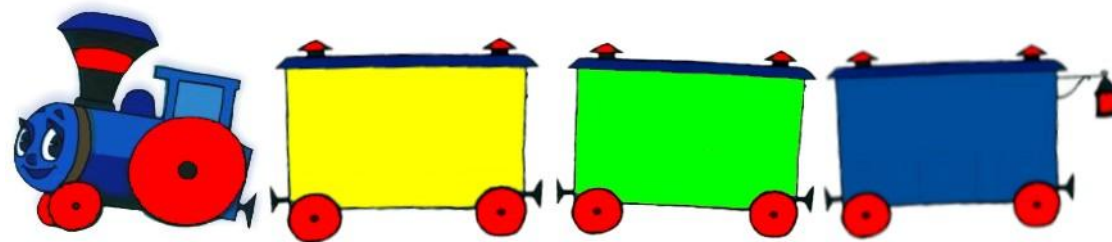
1.



3.





Задачкино.



С. 34.



По каждой схеме составь задачу и реши её.

1)   Ответ:

2)   Ответ:

Дополни условие и реши задачу:

У Юры было машинок. Ему подарили ещё 2 машинки. Сколько машинок стало у Юры?

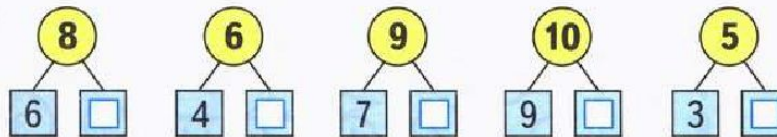
 Ответ: 

<input type="checkbox"/>	$6 + \square = 8$	$\square + 2 = 6$	$9 - \square = 0$
<input type="checkbox"/>	$\square - 2 = 7$	$\square - 2 = 5$	$\square + 4 = 4$

Дима вырезал из бумаги 2 снежинки, и Лена вырезала столько же. Сколько всего снежинок вырезали Дима и Лена?

Нарисуй схему и реши задачу.

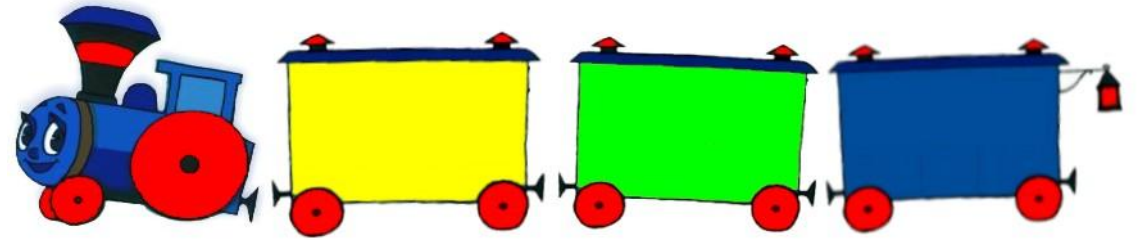
 Ответ: 



Соедини точки по линейке, чтобы получились четырёхугольник и ломаная из трёх звеньев.



Вычислялкино.



$$\square + 2$$

$$\square - 2$$

