


Решение выражений и их


сравнение



ЗАДАЧИ:



- Учить сравнивать
выражения



оставлять выражение по
рисунку



С о с т а в ь в ы р а ж е н и е п о к а р т и н к а м




4

С т о л ь к о ж е и е щ е 2

4 + 2



+



4



4 + 2

>

=



СОСТАВЬ ВЫРАЖЕНИЯ ПО КАРТИНКАМ



5

Пять без двух



5 - 2

5  5 - 2


=




СРАВНИ ВЫРАЖЕНИЯ

$1 + 3$  $5 - 2$

$8 - 2$  $4 + 4$

$7 + 1$  $9 - 6$

$10 - 4$  $5 + 1$


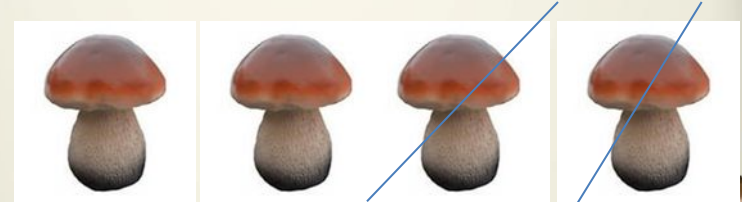
**ВСТАВЬ
ЗНАКИ
ВМЕСТО**



**БОЛЬШЕ
МЕНЬШЕ
РАВНО**



ИСПОЛЬЗУЯ КАРТИНКИ, СОСТАВЬ СЛОЖНЫЕ СРАВНЕНИЯ



СОСТАВЬ ЗАДАЧИ ПО КАРТИНКАМ.



ПОСТАВЬ ВОПРОС



СОСТАВЬ ВЫРАЖЕНИЕ ПО ЗАДАЧЕ



ОБОБЩЕНИЕ:

-ЧЕМУ НАУЧИЛИСЬ НА УРОКЕ ?

**-КАК НУЖНО СРАВНИВАТЬ
ВЫРАЖЕНИЯ?**

-ЧТО НУЖНО СДЕЛАТЬ СНАЧАЛА?

-ПОТОМ?

**-ГДЕ НУЖНО ПИСАТЬ
ПРОМЕЖУТОЧНЫЙ РЕЗУЛЬТАТ?**

-ЧЕМ?

-ОЦЕНИ СВОЮ РАБОТУ НА УРОКЕ.

