




Тема: Миллиметр и метр





ЗАДАЧА

- На изготовление подвесок ёлочных украшений купили 40 м лески. Сколько ёлочных украшений будет оформлено, если на подвеску одного украшения расходуют
расходуют
40 мм лески?
- Что нужно знать, чтобы ответить на требование задачи?



НУЖНО ЗНАТЬ
СООТНОШЕНИЕ МЕЖДУ
МЕТРОМ И МИЛЛИМЕТРОМ




УЗНАЕМ ...

НАУЧИМСЯ...



Вспомни!

ДЕЦИМЕТР

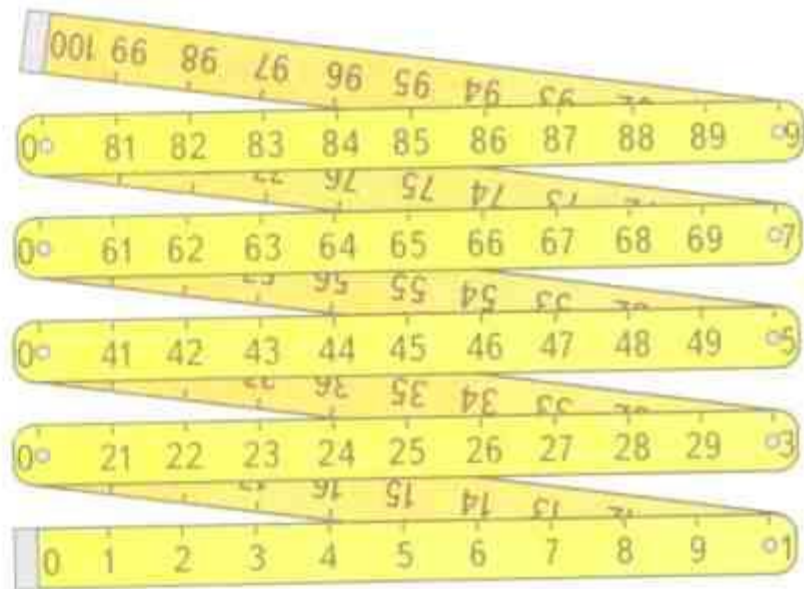


$$1 \text{ м} = 10 \text{ дм}$$

$$1 \text{ дм} = 10 \text{ см}$$

$$1 \text{ см} = 10 \text{ мм}$$

$$1 \text{ м} = 100 \text{ см}$$



$$1 \text{ CM} = 10 \text{ MM}$$


$$10 \text{ CM} = 100 \text{ MM}$$

$$100 \text{ CM} = 1000 \text{ MM}$$

$$1 \text{ M} = 1000 \text{ MM}$$



Милли – слово, означающее
уменьшение исходной единицы
в **1000** раз



1 метр =
1000 миллиметров



№364

$$1 \text{ м } 5 \text{ дм } 8 \text{ мм} = 1 \text{ м} + 5$$

$$\text{дм} + 8 \text{ мм} =$$

$$1000 \text{ мм} + 500 \text{ мм} + 8$$

$$\text{мм} = 1508 \text{ мм}$$

$$1508 \text{ мм} < 1580 \text{ мм}$$



ПОМНИТЕ, КАК МАРТЫШКА ПРЕДЛАГАЛА ИЗМЕРЯТЬ ДЛИНУ
УДАВА В ПОПУГАЯХ — БОЛЬШЕ ПОЛУЧИТСЯ. ОНА,
НАВЕРНОЕ, НЕ ЗНАЛА ПРО МИЛЛИМЕТРЫ — ПОЛУЧИЛОСЬ
БЫ ЕЩЕ БОЛЬШЕ ...

