

19 сентября

Классная работа

Какие цели мы поставим на уроке?

Решите задачу

Из детского сада
домой идут Миша и
Таня, а навстречу им
Коля. Сколько детей
идет домой?

2 детей



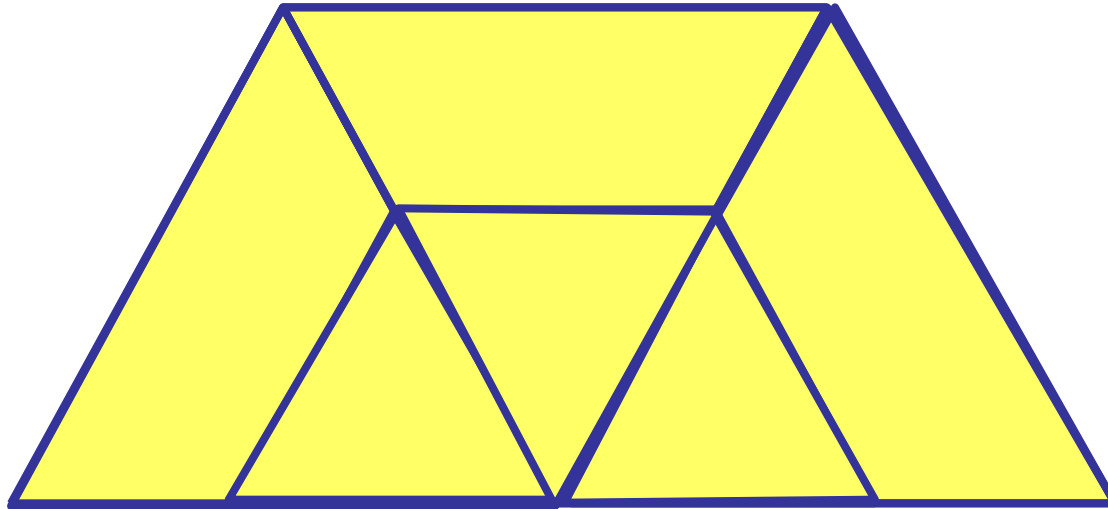
Решите задачу

Два лыжника вышли
одновременно навстречу
друг другу. Первый
прошёл до встречи 2 часа.
Сколько времени прошёл
до встречи второй
лыжник?

2 часа



Сколько четырехугольников?



Устный счёт.

Сосчитайте

-от 46 до 59,

-от 67 до 76,

-от 55 до 66.

Назовите соседей числа 50, 69, 88, 91, 17.

В каком числе 5 десятков и 6 единиц?

Сколько единиц в числе 18, 38?

Сколько десятков в числе 29, 45?

Сколько миллиметров в 1 см, 4 см 2 мм?

Сколько сантиметров в 1 дм, в 30 мм, в 10 дм?

Работа по карточке

Задание №1

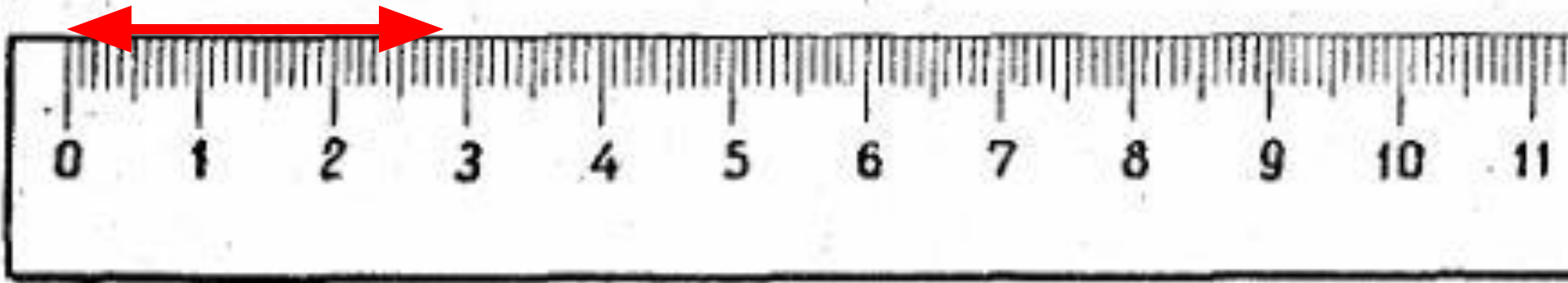
(начертите отрезки)

Начертите отрезки длиной

28мм

4см9мм.

Проверьте себя!



Работа по карточке

Задание № 2

(заполните пропуски)

Заполните пропуски

$$8\text{ см } 5\text{ мм} = \dots \text{ мм}$$

$$2 \text{ см } 7 \text{ мм} = \dots \text{ мм}$$

$$5\text{ см} = \dots \text{ мм}$$

$$3\text{ см } 2\text{ мм} = \dots \text{ мм}$$

Заполните пропуски

$$8\text{ см } 5\text{ мм} = 85\text{ мм}$$

$$2\text{ см } 7\text{ мм} = 27\text{ мм}$$

$$5\text{ см} = 50\text{ мм}$$

$$3\text{ см } 2\text{ мм} = 32\text{ мм}$$

Учимся составлять схемы

Вася нарисовал 5
кружков, а Миша на 2
больше.

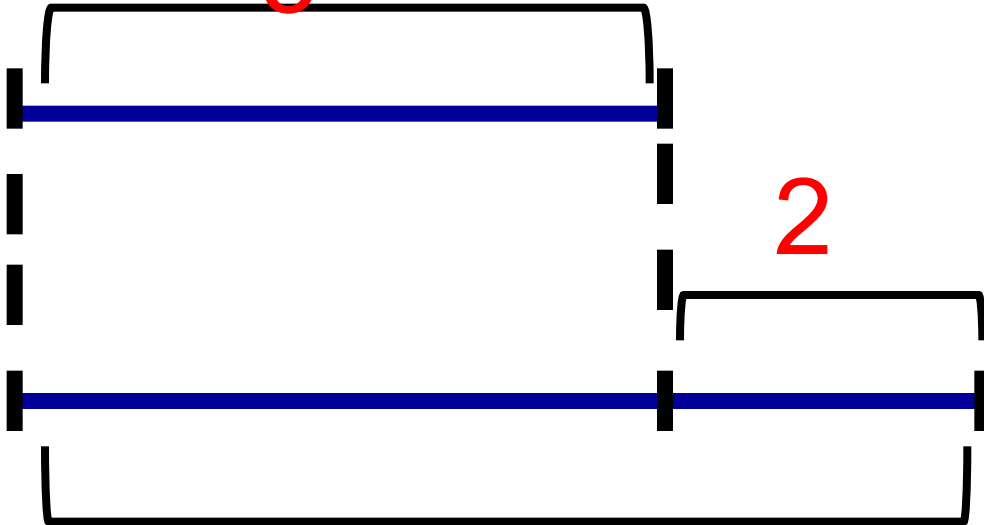
2

5

2

B

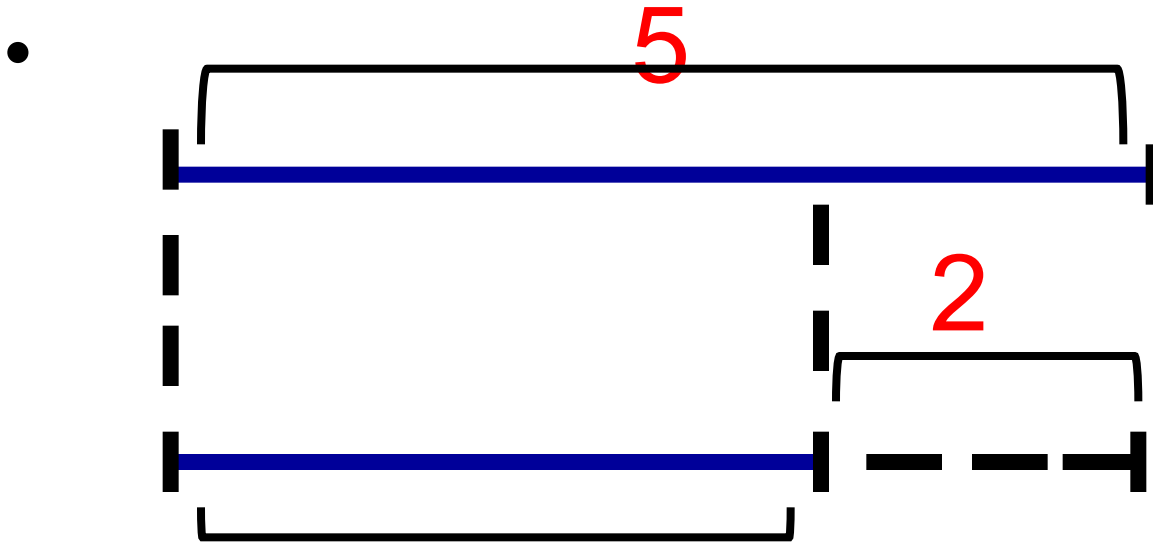
M



Учимся составлять схемы

Вася нарисовал 5
кружков, а Миша на 2
меньше.

Проверьте!



Подбери схему!

Мама купила 9
моркови, а папа – на
2 моркови больше.

Подбери схему!

- В одном букете 6 роз,
а в другом - на 4
розы меньше.

Работа по учебнику

У. стр. 11 №6

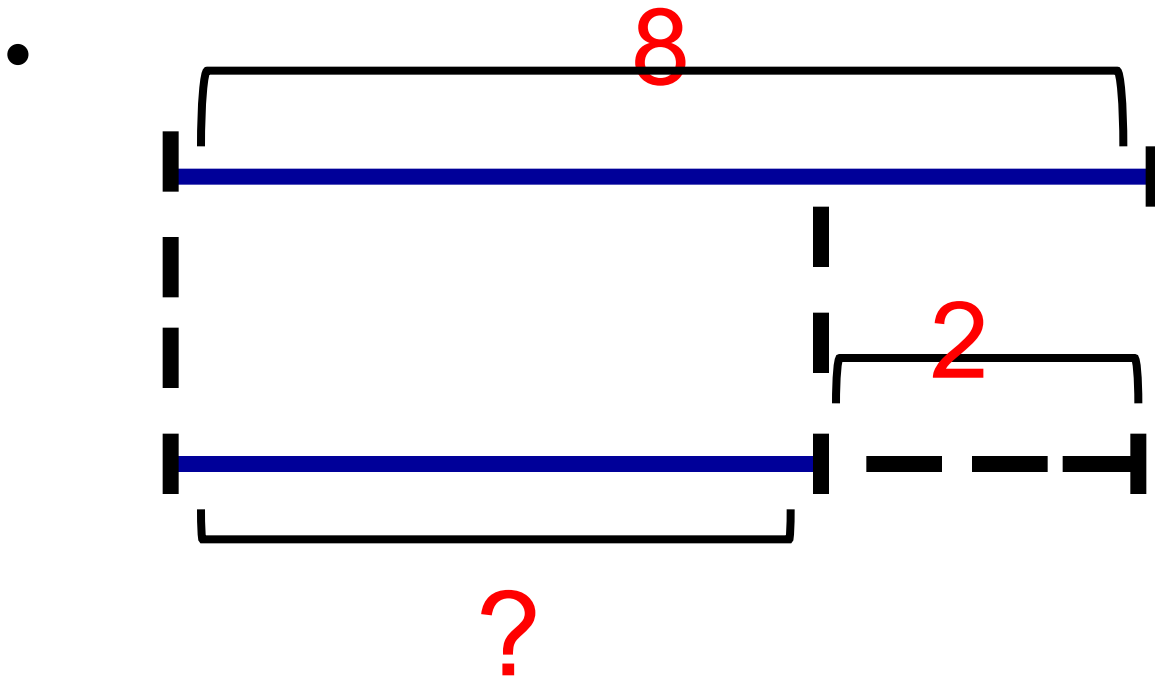
Задача

- Условие
- Вопрос

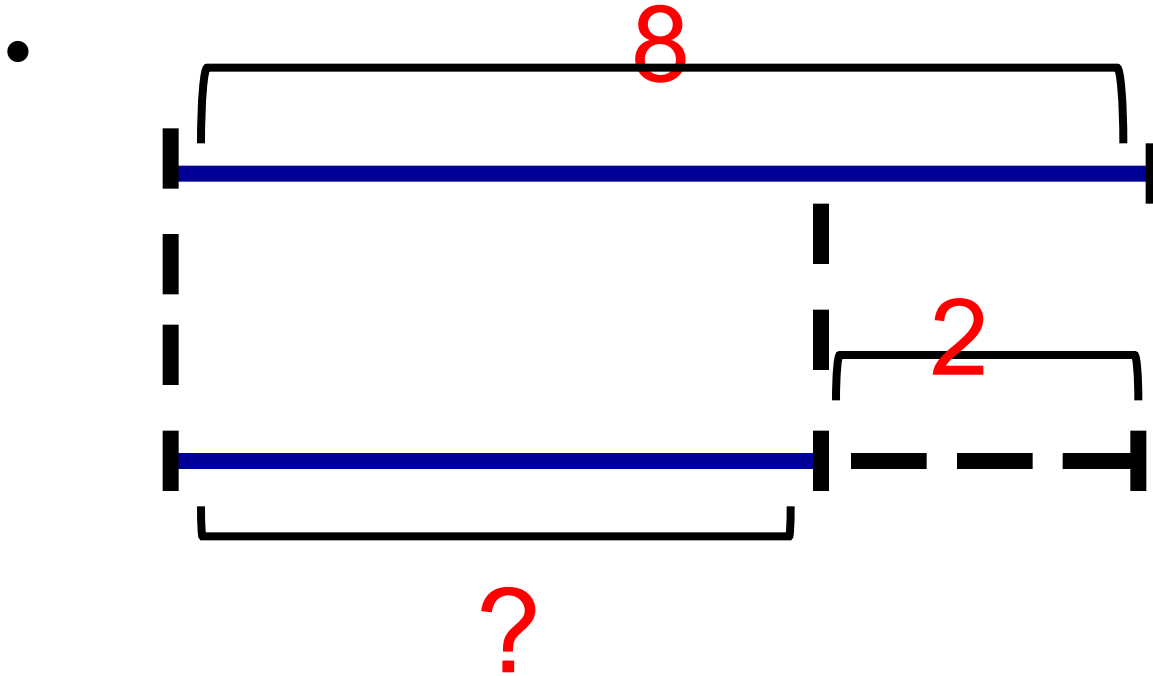
Условие

В одной руке у
Тани 8 орехов,
а в другой на 2
ореха меньше.

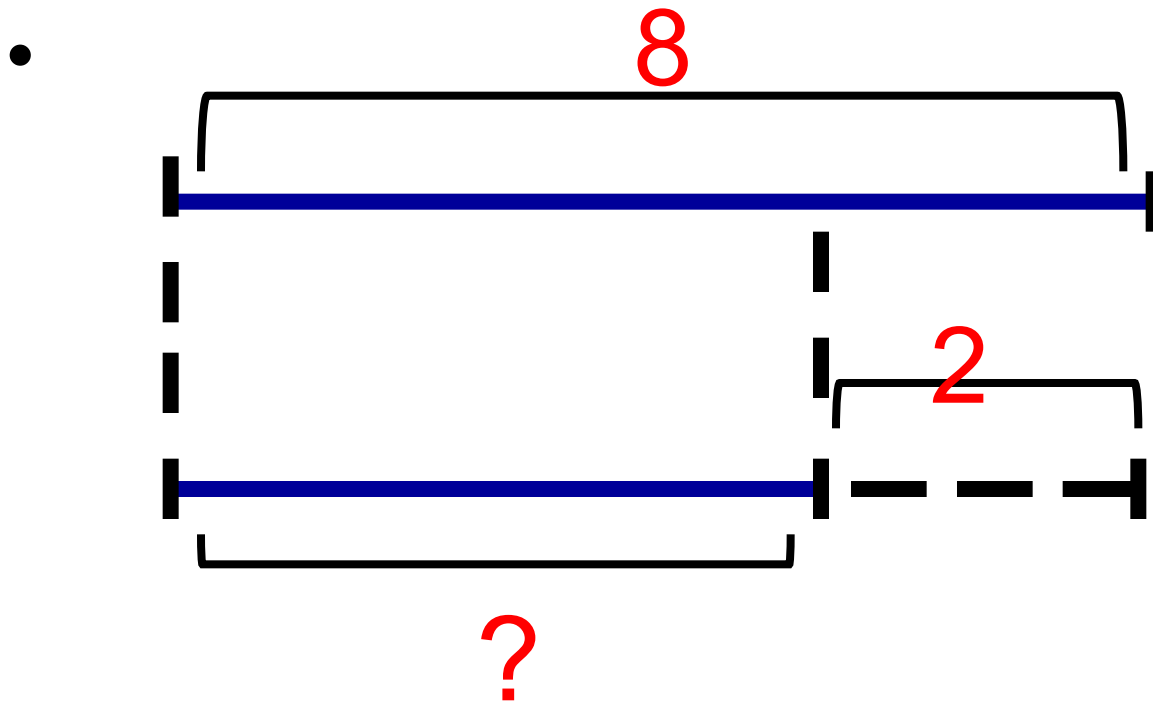
Проверьте!



Какой вопрос нужно задать?



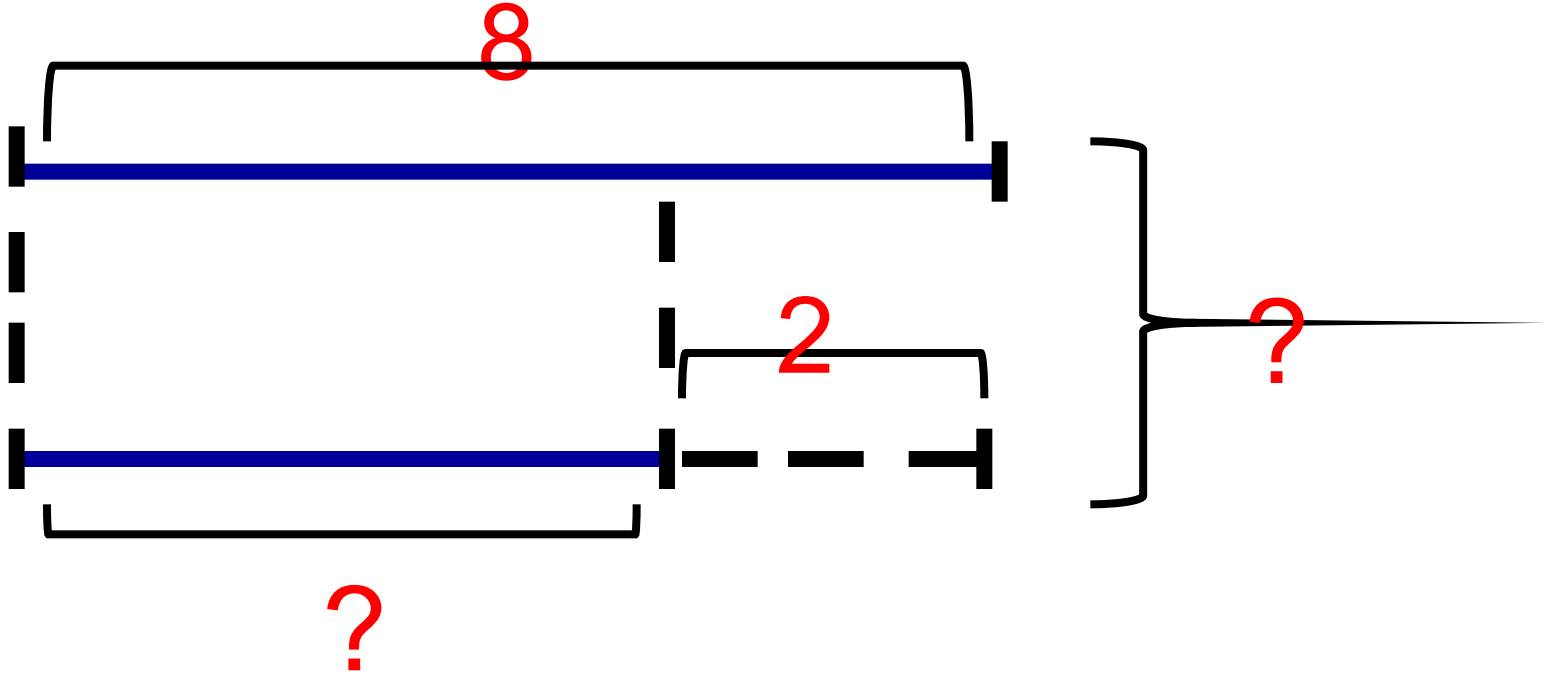
Какой вопрос нужно задать?



Сколько всего орехов у Тани?

2

•



Решение

$$1) 8 - 2 = 6 \text{ (о.)}$$

$$2) 8 + 6 = 14 \text{ (о.)}$$

Ответ: 14 орехов.

Домашнее задание

У. с. 11 № 1, 5

+дор.