


Назовите эти фигуры



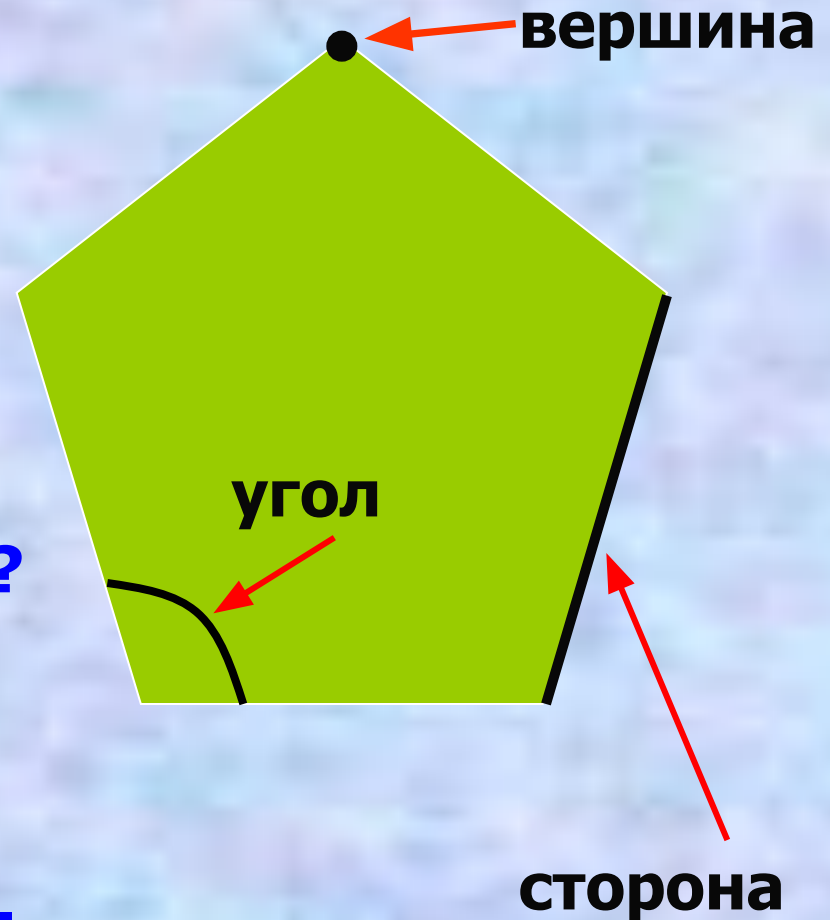
Какая фигура лишняя?

Как назвать одним словом оставшиеся фигуры?

Многоугольник и его элементы

Рассмотрите многоугольник

- Сколько в нём углов?
- Какой фигурой является каждая сторона многоугольника?
- Сколько у него сторон?
- Какой фигурой является вершина многоугольника?
- Сколько вершин у этого многоугольника?
- В этом многоугольнике: 5 углов, 5 вершин, 5 сторон.




Рассмотрите многоугольник



- **Сосчитайте:
углы,
вершины,
стороны.**
- **Почему эту фигуру
называют
четырёхугольником?**

- Сколько углов в восьмиугольнике?
- Десятиугольнике?
- Определите название вот этой фигуры.



Обозначение фигуры буквами



**Читать можно по-разному:
ABCD, BCDA, CDAВ, DАВС.**

Какую фигуру задумал клоун, если эта фигура – не круг и находится справа от треугольника?

