

**Игра-**

**путешествие**

# **МЫ В ЦИРКЕ**

Карева Елена  
Владимировна,

# Составим поезд

11



$$8 + 3$$

$$6 + 6$$

$$7 + 5$$

$$9 + 2$$

$$8 + 4$$

$$7 + 4$$

12

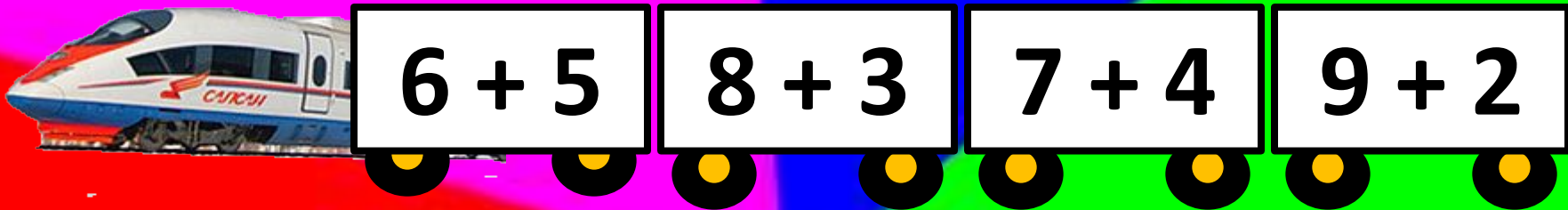


$$6 + 5$$

$$9 + 3$$

# Составим поезд

11



# Составим поезд

12



$8 + 4$

$7 + 5$

$6 + 6$

$9 + 3$





**Перейди  
по  
зебре!**

# Перейди по зебре



$$13 - 9 = 4$$



$$12 - 5 = 7$$



$$11 - 6 = 5$$



$$8 + 3 = 11$$





# РЕШИ ЗАДАНИЕ

## СПОНСЕРКА

$$12 - 4 = 8$$

$$15 - 6 = 9$$

$$12 - 5 = 7$$



# РЕШИ ЗАДАНИЕ

## СПОНСЕРКА

$$9 + 3 = 12$$

$$7 + 6 = 13$$

$$10 - 4 = 6$$





# В каких примерах допустила ошибки

$17 - 8 = 9$

$16 - 8 = 9$

$18 - 9 = 9$

$15 - 6 = 8$

$13 - 7 = 5$

$14 - 5 = 9$

$12 - 7 = 4$

$16 - 9 = 9$



# В каких примерах допустила ошибки

$17 - 8 = 9$

$16 - 8 = 9$

$18 - 9 = 9$

$15 - 6 = 8$

$13 - 7 = 5$

$14 - 5 = 9$

$12 - 7 = 4$

$16 - 9 = 9$





# В каких примерах допустила ошибки

$$16 - 8 = 8 \quad ?$$

$$15 - 6 = 9$$

$$13 - 7 = 6$$

$$12 - 7 = 5$$

$$16 - 9 = 7$$





# КЛОУН РЫЖИК

С

Мне 40 лет!





# КЛОУН РЫЖИК

Какова масса

7 кг!

Рыжик?

7 кг

7 кг





# Физминутка





**У жонглера было три мяча и восемь колец.**

**1. Сколько всего мячей и колец у жонглера?**

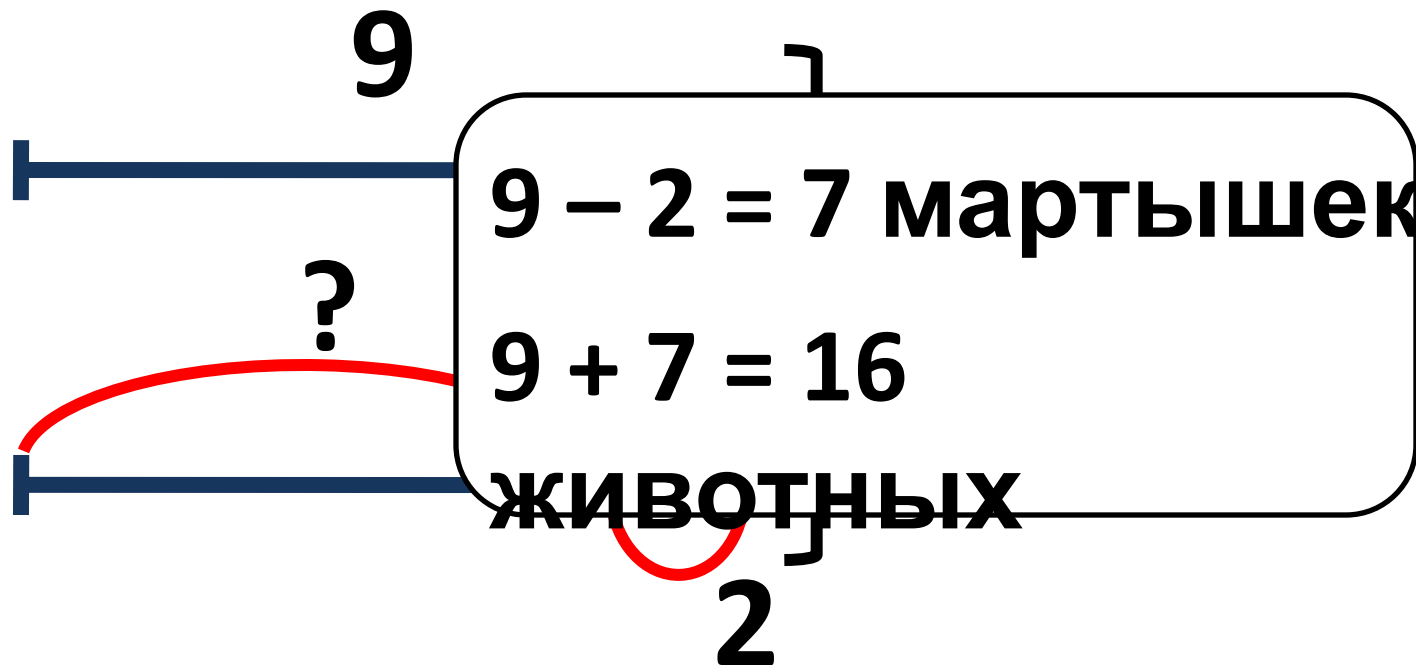
$$8 + 3 = 11$$

**2. На сколько колец больше, чем мячей?**

$$8 - 3 = 5$$



**В представлении участвовало 9 собачек, а мартышек на 2 меньше. Сколько всего животных участвовало в представлении?**



# КАРТОЧКИ ДРЕССИРОВЩИКА

$$11 - 6 = 5$$

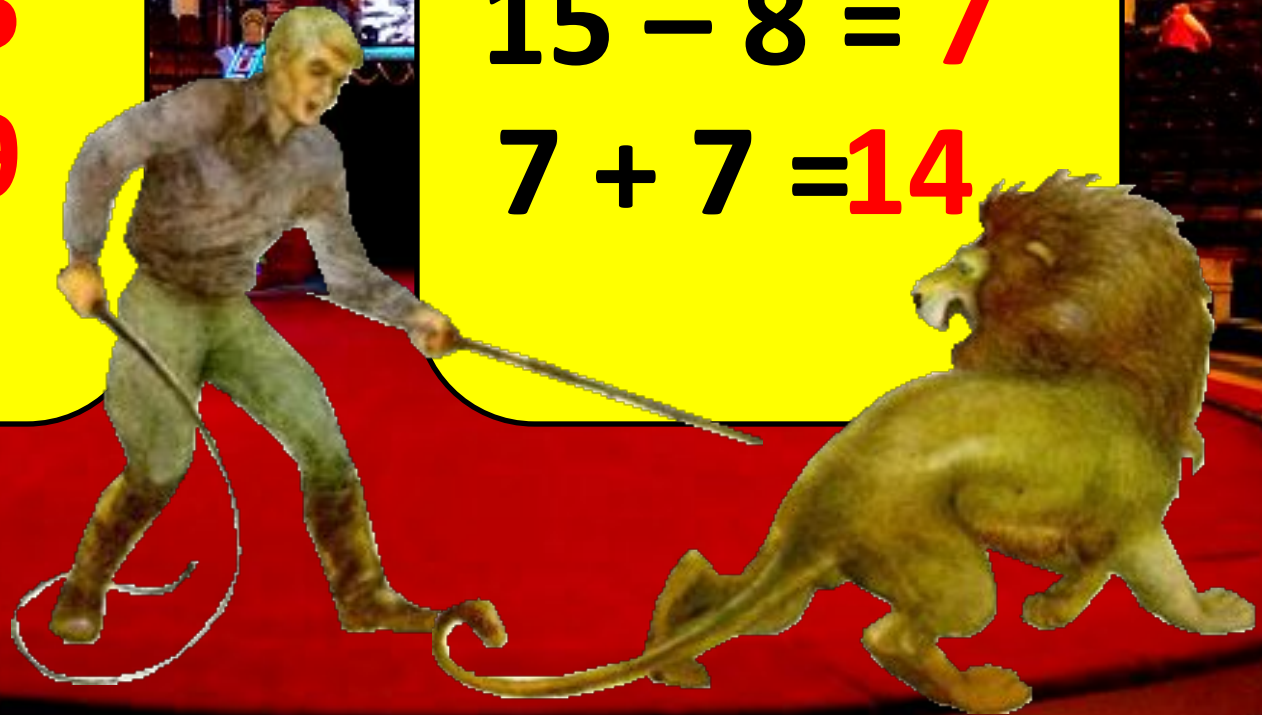
$$12 - 7 = 5$$

$$17 - 8 = 9$$

$$14 - 9 = 5$$

$$15 - 8 = 7$$

$$7 + 7 = 14$$





# КАРТОЧКИ ДРЕССИРОВЩИКА

$$12 - 6 + 8 = 14$$


$$5 + 6 - 2 = 9$$

$$13 - 9 + 7 = 11$$

$$3 + 8 - 7 = 4$$

$$4 + 9 - 8 = 5$$

$$0 + 20 - 1 = 19$$



A stage with red curtains and a wooden floor. The curtains are pulled back, revealing a wooden floor. The text is overlaid on the image.

**ВСЕМ  
СПАСИБО!**

**ВСЕ МОЛОДЦЫ!**