



На сколько больше?

УМК «Планета знаний»
Учитель Мишкова Е.Д.
МБОУ гимназия №3
г. Краснодар,
2 кл 2013

УСТНЫЙ СЧЁТ



Проверь себя:



0 1 2 3 4 5 6 7 8 9

РЕШИ ЦЕПОЧКИ ПРИМЕРОВ.

$$57 - 2 + 23 = 78$$

$$48 - 31 + 4 = 21$$

$$65 + 2 - 51 = 16$$

$$83$$

Чего больше и на сколько?



5



на 2 >


$$5 - 3 = 2$$



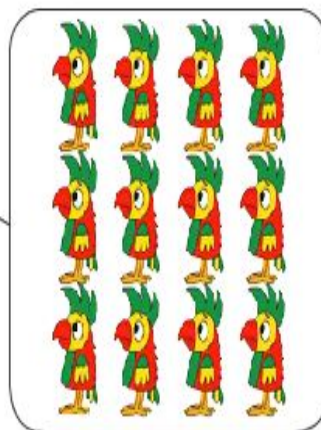
$$5 - 2 = 3$$

Чтобы узнать на
сколько
одно число больше или
меньше другого –
надо из большего
вычесть

1. В витрине магазина стояли 12 мартышек и 20 попугаев. Кого меньше? На сколько?



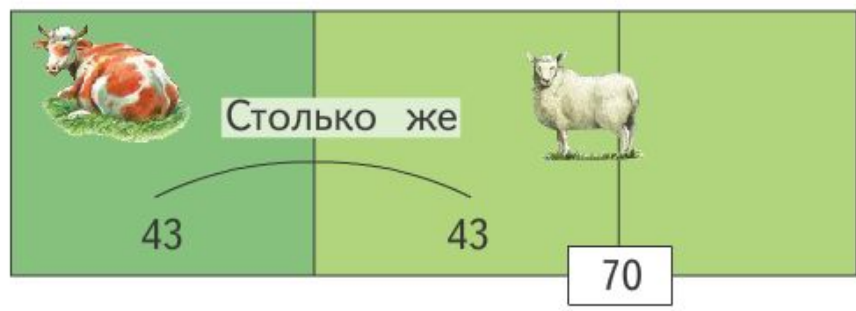
Столько же



$$20 - 12 = 8(\text{м})$$

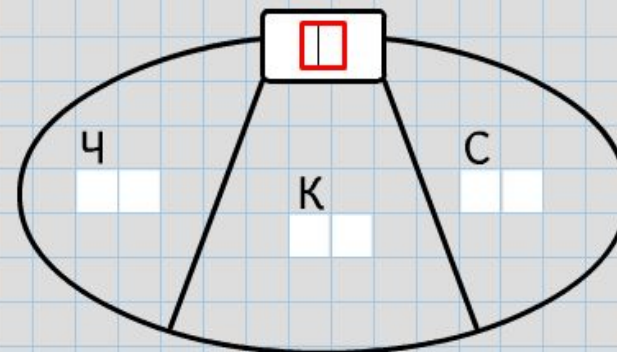
**Ответ: на 8
мартышек меньше.**

2. На ферме 43 коровы и 70 овец. На сколько больше овец, чем коров? На сколько коров меньше?
- Нарисуем схему. Выделим на схеме такое же количество овец, сколько коров:



- Какая часть схемы показывает, на сколько овец больше, чем коров?
- Вычисли: $70 - 43 = \dots$ Ответь на вопросы задачи.

4. В коробке лежат разноцветные ручки. Чёрных ручек — 3 десятка. Красных — на 2 десятка меньше, чем чёрных. Синих — на 3 десятка больше, чем красных. Сколько ручек каждого цвета лежит в коробке? Сколько всего ручек в коробке?



Ответ:





Сегодня на уроке я . . .

научился . . .

было интересно . . .

было трудно . . .

понял, что . . .



теперь я могу . . .