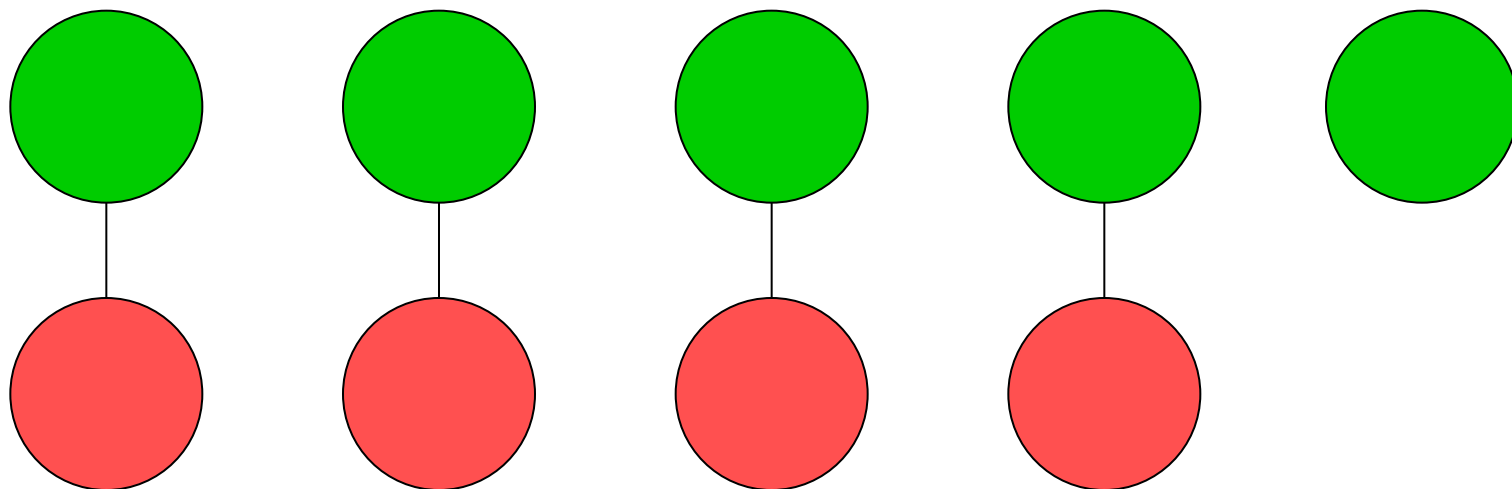













На сколько больше?


На сколько меньше?



- Каких кругов больше?
- Зелёных кругов больше, чем красных.
- Каких кругов меньше?
- Красных кругов меньше, чем зелёных.
- Как доказать, что зелёных кругов больше, чем красных?
- Надо составить пары.
- Какой круг остался без пары?
- Зелёный.
- На сколько зелёных кругов больше, чем красных?
- На один.
- На сколько меньше красных кругов, чем зелёных?
- На один.
- Почему?
- Один зелёный круг остался без пары.

- Как назвать одним словом предметы в верхнем ряду?
- **Овощи**
- Как назвать одним словом предметы в среднем ряду?
- **Фрукты**
- Как назвать одним словом предметы в нижнем ряду?
- **Ягоды**
- Чего больше овощей или фруктов? На сколько больше?
- **Овощей больше, чем фруктов на 1.**
- Чего меньше овощей или фруктов? На сколько меньше?
- **Фруктов меньше, чем овощей на 1.**



- Сколько овощей?
- 4
- Сколько фруктов?
- 3
- Чего больше фруктов или ягод? На сколько?
- Ягод больше, чем фруктов на 1.
- Чего меньше фруктов или ягод? На сколько?
- Фруктов меньше, чем ягод на 1.
- Сколько ягод?
- 4
- Что можно сказать о овощах и ягодах?
- Ягод столько же сколько и овощей. Овощей столько же сколько и ягод.