




**Нахождение
числа
по его дроби**




Задача 1.



- Расчистили от снега $\frac{2}{5}$ катка, что составляет 800 м^2 . найдите площадь всего катка. Решите задачу двумя способами.




Задача 2.




- Пшеницей засеяно 2400 га, что составляет 0,8 всего поля. Найдите площадь всего поля.



Задача 3.



- Увеличив производительность труда на 7%, рабочий сделал за этот же срок на 98 деталей больше, чем намечалось по плану. Сколько деталей рабочий должен был сделать по плану?





Это нужно запомнить!



- Чтобы найти число по данному значению его дроби, надо это значение разделить на дробь.
- Прочитайте правило в учебнике.

п.18



А теперь ...

решаем упражнения

