



1941
1945



n



m



$$\frac{6}{5}; \frac{3}{5}; \frac{1}{4}; \frac{49}{2}; \frac{2}{49}; \frac{12}{12}; \frac{69}{2}; \frac{8}{23}; \frac{44}{5}$$

$$1\frac{1}{5}$$

$$24\frac{1}{2}$$

$$1$$

$$34\frac{1}{2}$$


$$8\frac{4}{5}$$

70



70-ой годовщине Победе
в Великой Отечественной войне
посвящается

1941
1945



$$\frac{5}{6} \cdot \frac{1}{15}$$

$$5 : \frac{2}{5}$$

$$2 \cdot \frac{1}{7}$$

$$\frac{3}{8} : 3$$

$$\frac{5}{11} \cdot \frac{3}{5}$$

$$\frac{5}{16} : \frac{5}{4}$$

$$\frac{2}{7} \cdot \frac{1}{3}$$

$$\frac{3}{7} : \frac{1}{2}$$

1941
1945

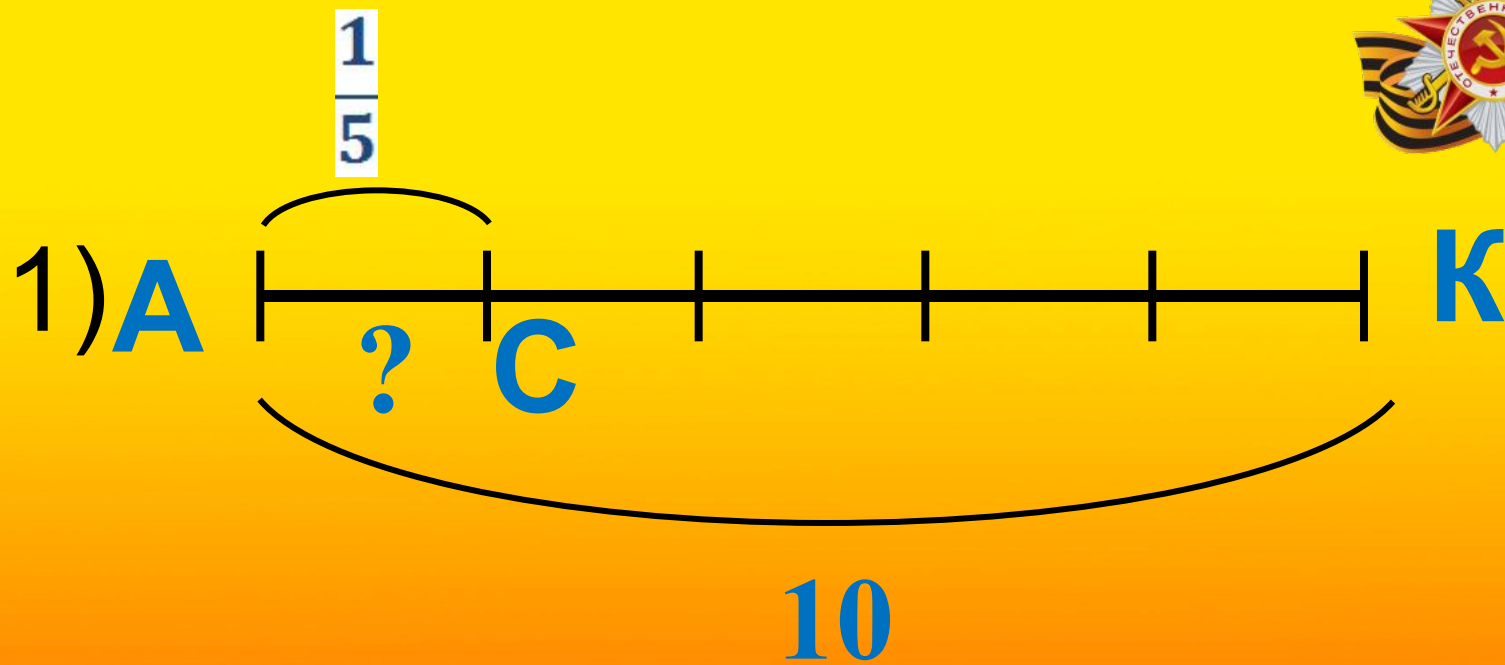


Крепость-герой. Брестская крепость



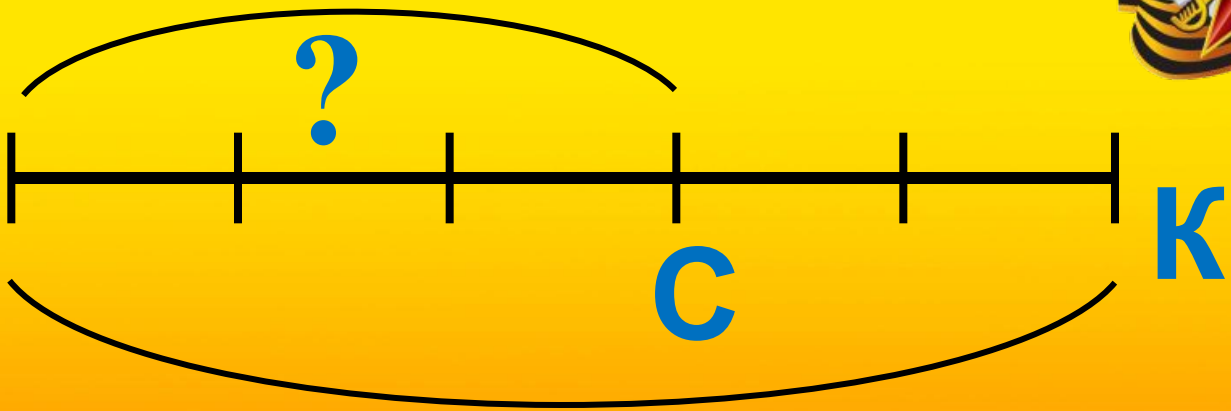
1941
1945

В музее Брестской крепости рассказывают легенду о советском солдате, который сражался один на протяжении 10 месяцев. Немцы по радио говорили, что Москва захвачена, советская армия разбита, обещали солдату замечательную, сытую жизнь, но как только фашисты подходили к руинам, они отвечали им огнем. Вышел солдат из крепости только тогда, когда фашисты признались, что Москва не захвачена, а наша армия сражается. В подвале было темно и, выйдя на свет, человек потерял зрение. На вопрос: «Кто вы? Он ответил: «Я советский солдат». Потрясенные мужеством советского солдата, немцы выстроились в шеренгу, а офицер отдал честь. До машины советский солдат не дошел, он упал замертво.



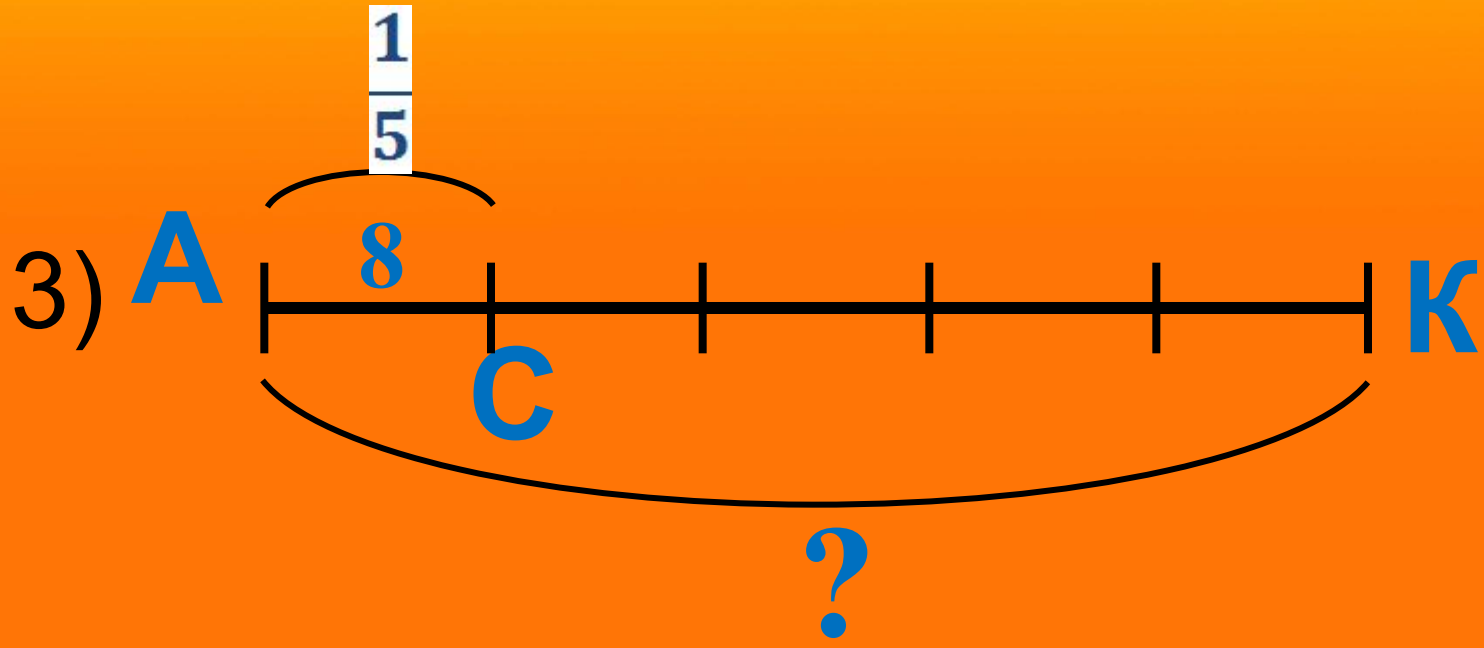


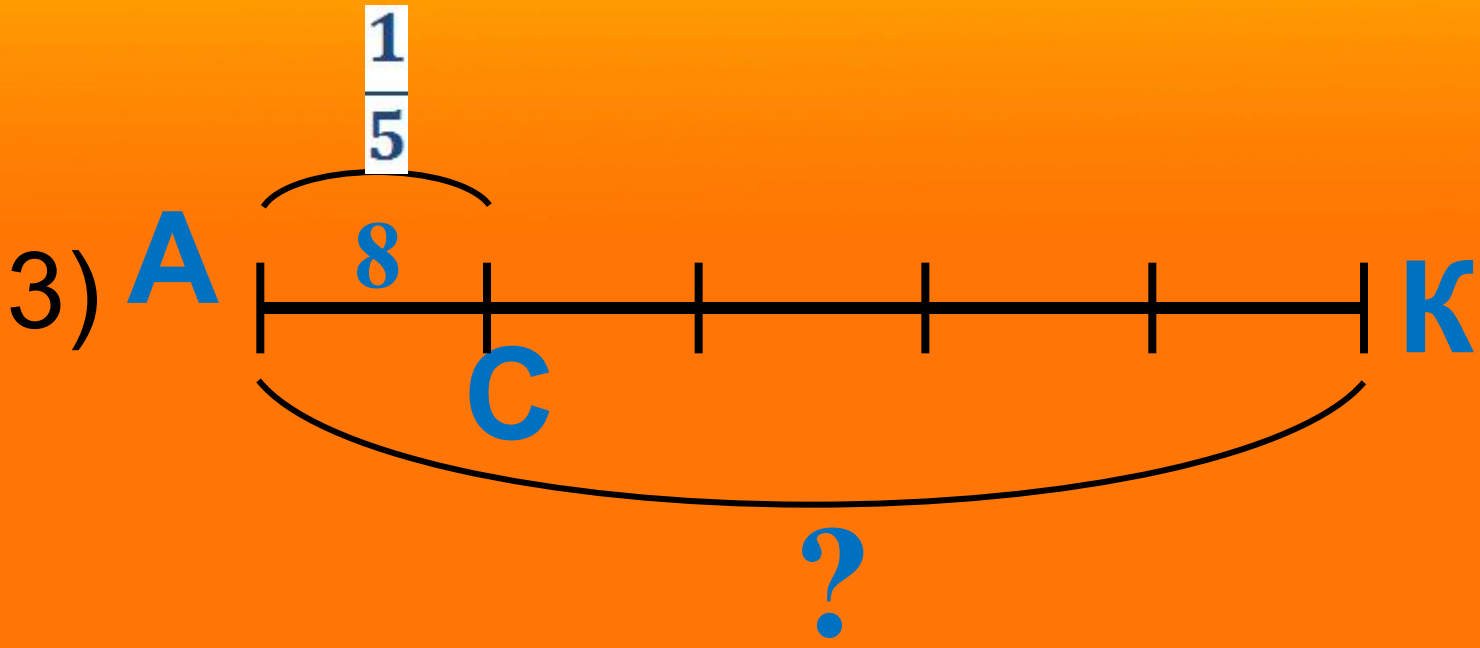
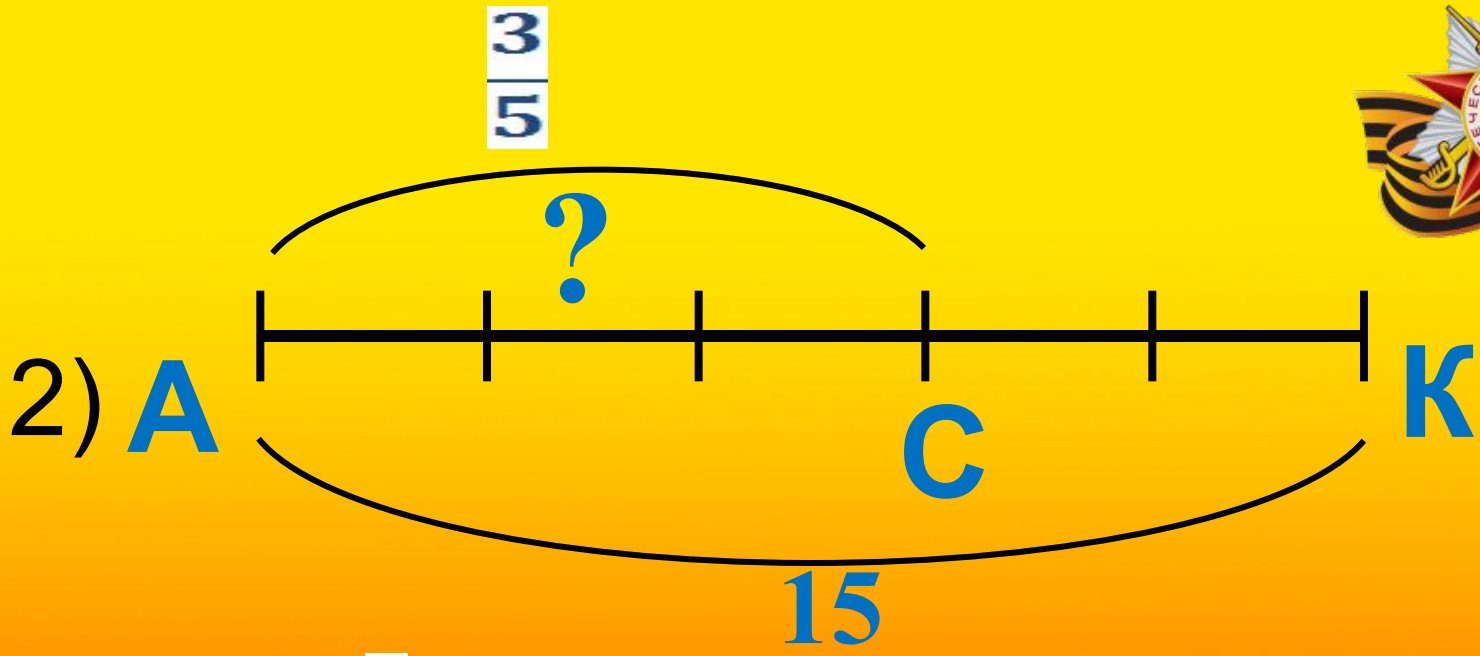
2) **A**



3
5

15

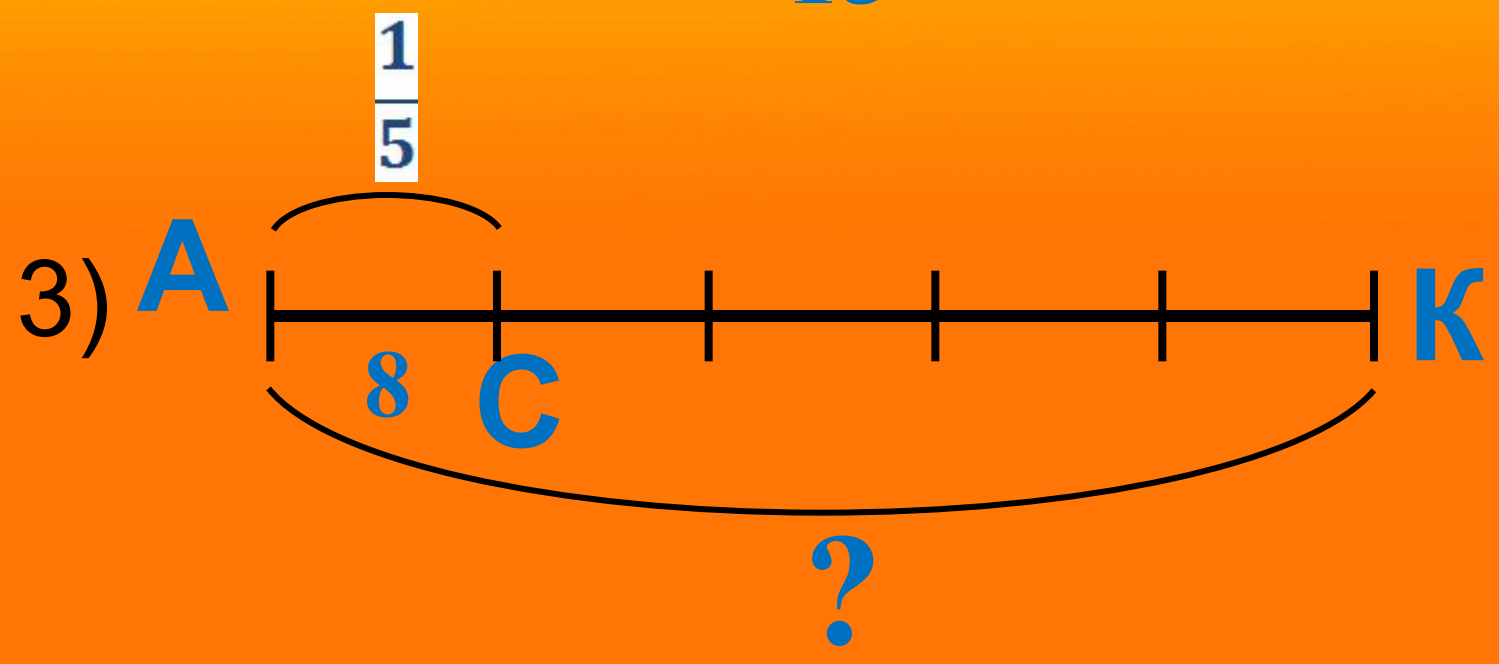
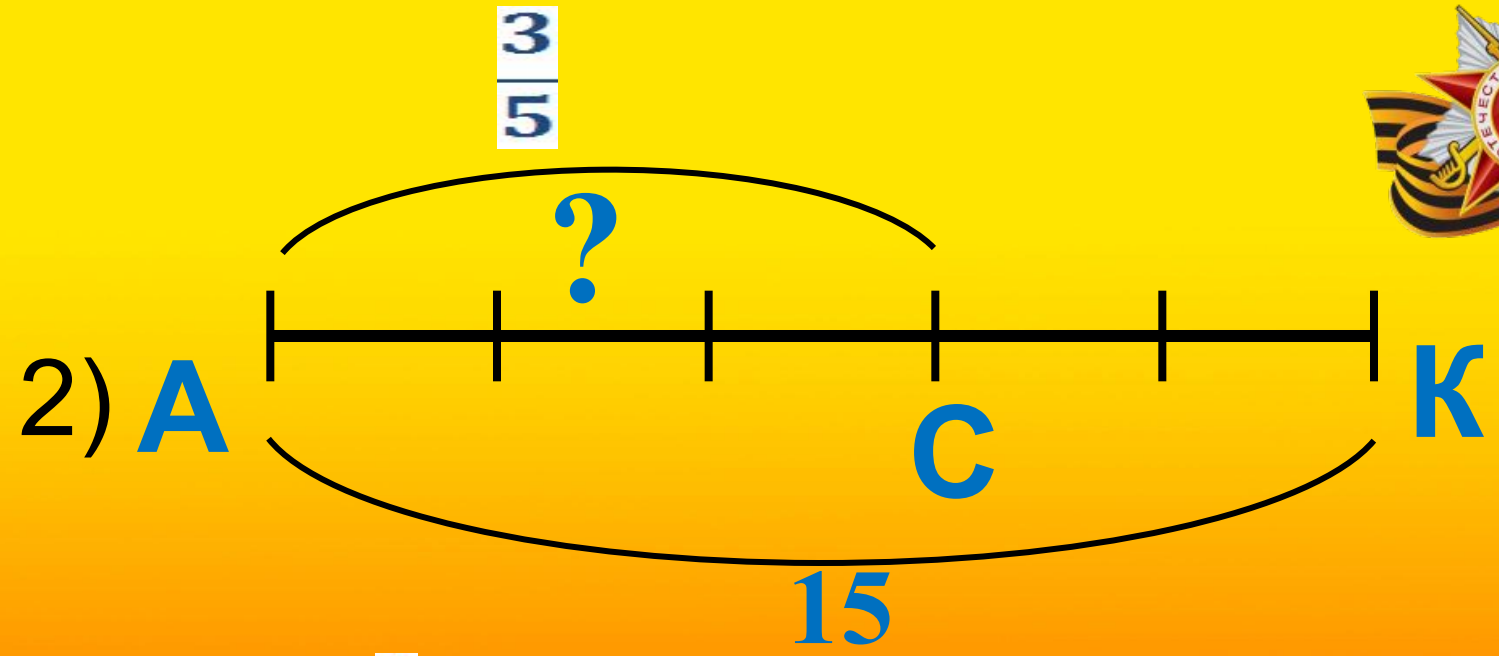






Нахождение числа
по его дроби.

1941
1945





АС - 8 см составляет $\frac{1}{5}$ от

АК - ? см

$$8 : \frac{1}{5} = \frac{8}{1} \cdot \frac{5}{1} = 40 \text{ (см)}$$

Ответ : 40 см .




**Чтобы найти число
по данному значению
его дроби, надо это
значение разделить
на дробь**

**1941
1945**



Найдите число , если $\frac{4}{5}$ его равно 160



Мемориальный комплекс «В честь героев КМ
(624 км автомагистрали Москва—Свердловск)»

128



20



200

1941
1945



Город -герой.
Сталинград .



1941
1945



Задача 1

Найдите общую высоту памятника «Родина-мать зовет!» . Если высота меча равна 32м и составляет

$$\frac{8}{21}$$

от всей высоты памятника.



1941
1945

Ответ: 84 м.



Физкультминутк

а

1941
1945



Физкультминутка





Физкультминутка





Физкультминутка





Битва за Москву

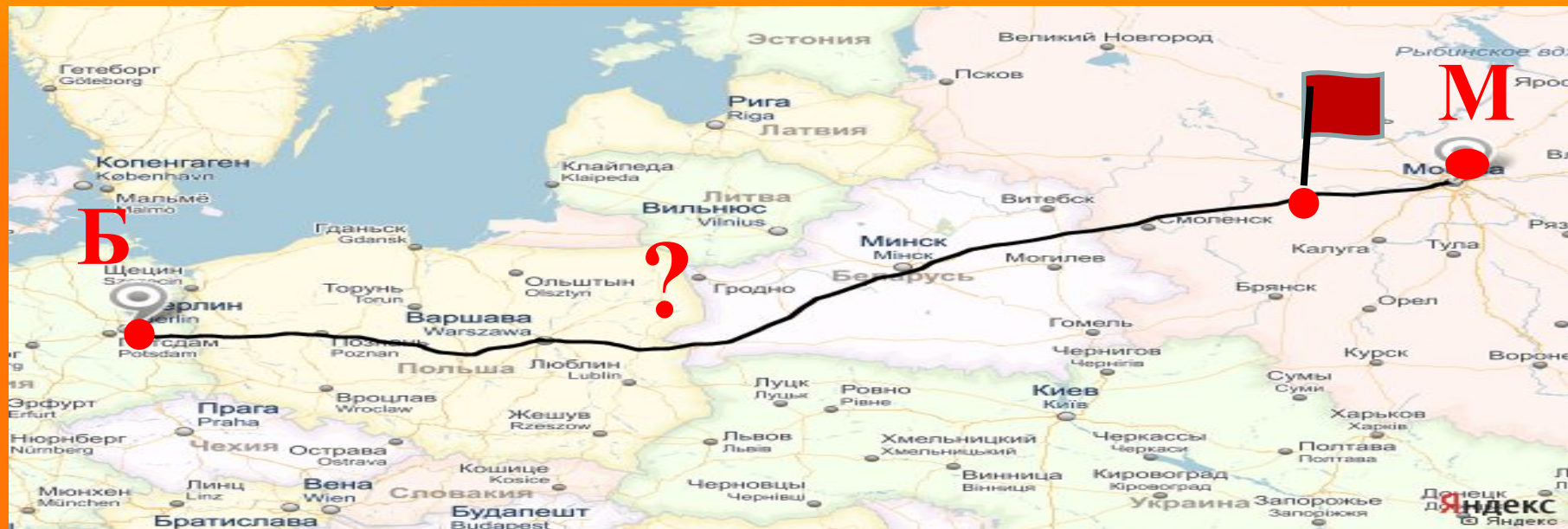
С 30 сентября
1941 года до
20 апреля 1942.





Задача №2.

В результате контрнаступления немецкие войска были отброшены на 180 км от Москвы, что составляет 0,1 расстояния от Москвы до Берлина. Сколько км еще осталось пройти советским войскам до Берлина?



Город-герои Ленинград



27 ЯНВАРЯ
ДЕНЬ
ПОЛНОГО
ОСВОБОЖДЕНИЯ
ЛЕНИНГРАДА
от фашистской
БЛОКАДЫ





Задача №3.

На изготовление дневной нормы хлеба в блокадном Ленинграде требуется 20 грамм жмыха, что составляет $\frac{4}{5}$ отрубей и 0,4 муки. А отруби составляют $\frac{5}{6}$ целлюлозы. Узнайте вес кусочка хлеба, который съедали жители блокадного Ленинграда.



НОРМА ВЫДАЧИ ХЛЕБА с 29-го января 1942 года			
Батон	Сухарь	Пирожок	Рис
400.	300.	250.	250.

НОРМА ВЫДАЧИ ХЛЕБА с 01-го февраля 1942 года			
Батон	Сухарь	Пирожок	Рис
500.	400.	300.	300.

1941
1945



Самостоятельная работа.

Вариант 1

Вариант 2

1) Найти число, $\frac{2}{3}$ которого равны 12;

1) Найти число, $\frac{7}{8}$ которого равны 56 .

2) Найти число, $0,15$ которого равно 30.

2) Найти число, $0,25$ которого равно 75.

3) В саду растет 24 вишен , что составляет $\frac{3}{13}$, количества всех деревьев в саду. Сколько всего деревьев растет в саду?

3) Завод выпустил 78 станков , что составляет $\frac{3}{4}$ заказа. Сколько станков было заказано?



Взаимопроверка.

Вариант 1

$$1) 12 : \frac{2}{3} = 18 ;$$

$$2) 30 : 0,15 = 200$$



$$3) 24 : \frac{3}{13} = 104$$

Вариант 2

$$1) 56 : \frac{7}{8} = 64$$

$$2) 75 : 0,25 = 300$$

$$3) 78 : \frac{3}{4} = 104$$



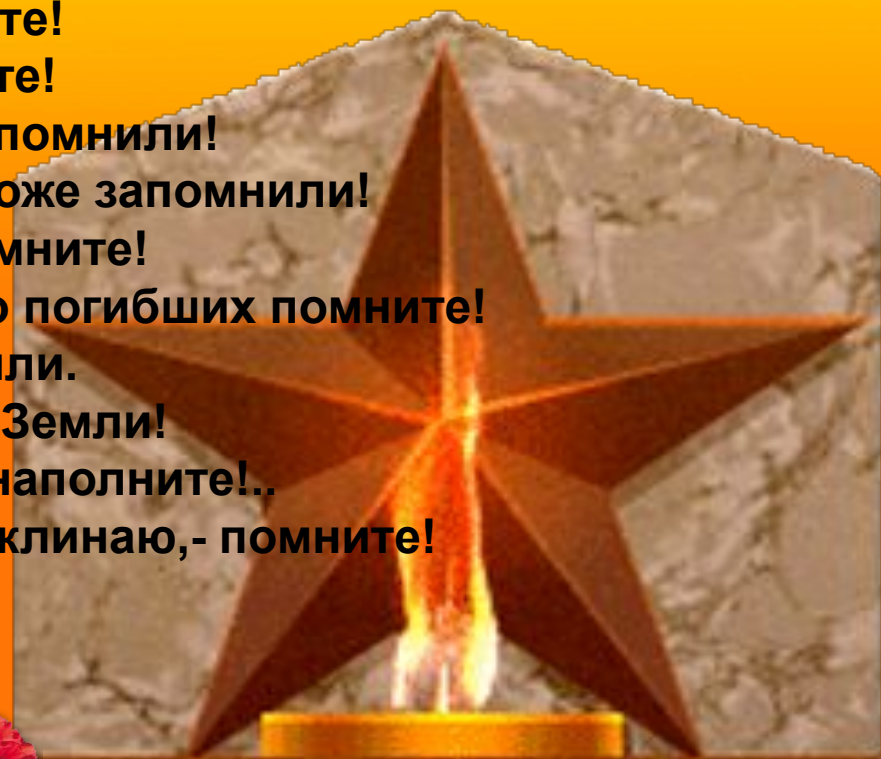
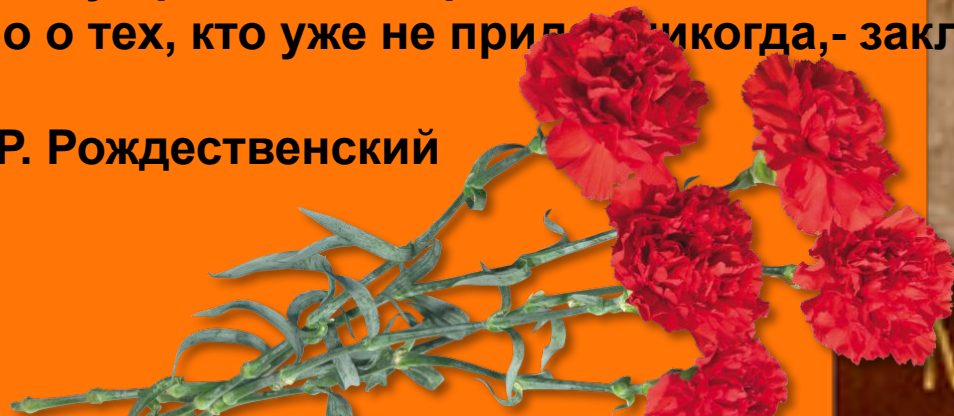


					П	Р	А	В	И	Л	Ь	Н	А	Я
				С	О	К	Р	А	Щ	Е	Н	И	Е	
				О	Б	Р	А	Т	Н	Ы	Е			
У	М	Н	О	Ж	Е	Н	И	Е						
					Д	Е	Л	Е	Н	И	Е			
		З	Н	А	М	Е	Н	А	Т	Е	Л	Ь		

1941
1945

**Помните! Через века, через года,- помните!
О тех, кто уже не придет никогда,- помните!
Не плачьте! В горле сдержите стоны, горькие стоны.
Памяти павших будьте достойны! Вечно достойны!
Хлебом и песней, мечтой и стихами, жизнью просторной,
Каждой секундой, каждым дыханьем будьте достойны!
Люди! Покуда сердца стучатся,- помните!
Какою ценой завоевано счастье,- пожалуйста, помните!
Песню свою отправляя в полет,- помните!
О тех, кто уже никогда не споет,- помните!
Детям своим расскажите о них, чтоб запомнили!
Детям детей расскажите о них, чтобы тоже запомнили!
Во все времена бессмертной Земли помните!
К мерцающим звездам ведя корабли,- о погибших помните!
Встречайте трепетную весну, люди Земли.
Убейте войну, прокляните войну, люди Земли!
Мечту пронесите через года и жизнью наполните!..
Но о тех, кто уже не придет никогда,- заклинаю,- помните!**

Р. Рождественский



МЫ ПОМНИМ



Домашняя работа.

1). № 678(1столбик), № 680, № 681

2). Придумать и решить задачу по данной теме.




Урок математики в 6 классе



1941
1945



¹ Ч	И	С	Л	И	Т	Е	Л	Ь			
		П	Р	А	В	И	Л	Ь	Н	А	Я
³ З	Н	А	М	Е	Н	А	Т	Е	Л	Ь	
		С	О	К	Р	А	Щ	Е	Н	И	Е
⁵ Д	Е	Л	Е	Н	И	Е					
		⁶ О	Б	Р	А	Т	Н	Ы	Е		
	У	М	Н	О	Ж	Е	Н	И	Е		



Парад войск состоит из 50 колонн.
В колонне по 14 рядов и по 12 солдат в
ряду. Сколько всего солдат должно идти
на параде в этих колоннах?

