




**Нахождение  
числа  
по его дроби**




# Задача 1.



- Расчистили от снега  $\frac{2}{5}$  катка, что составляет  $800 \text{ м}^2$ . найдите площадь всего катка. Решите задачу двумя способами.




## Задача 2.




- Пшеницей засеяно 2400 га, что составляет 0,8 всего поля. Найдите площадь всего поля.



## Задача 3.



- Увеличив производительность труда на 7%, рабочий сделал за этот же срок на 98 деталей больше, чем намечалось по плану. Сколько деталей рабочий должен был сделать по плану?





# Это нужно запомнить!



- Чтобы найти число по данному значению его дроби, надо это значение разделить на дробь.
- Прочитайте правило в учебнике.

*п.18*





*А теперь ...*

*решаем упражнения*

