



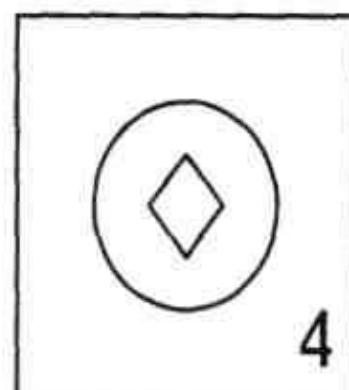
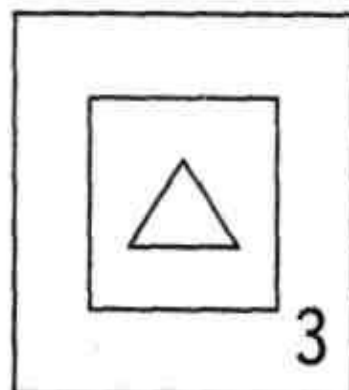
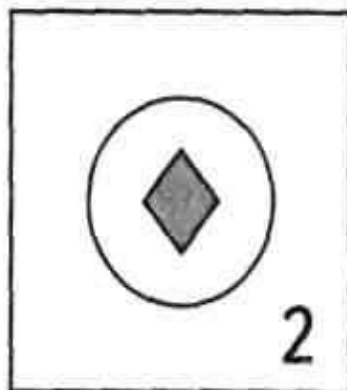
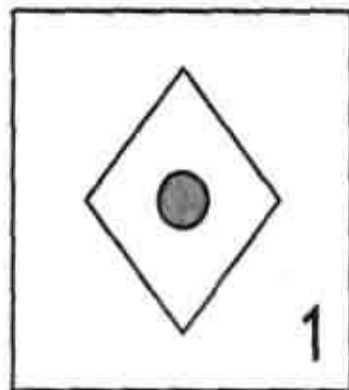

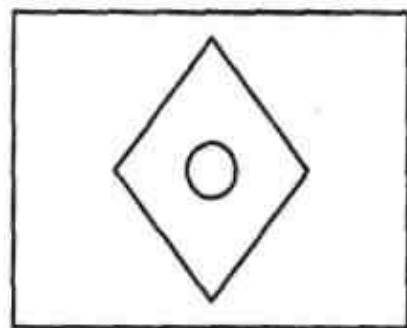
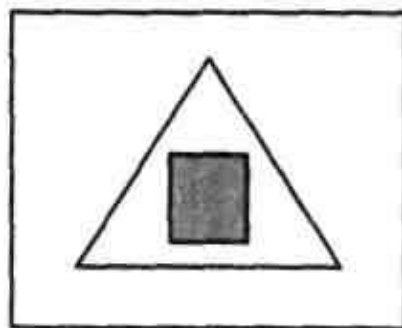
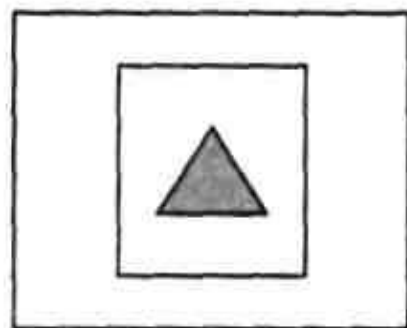



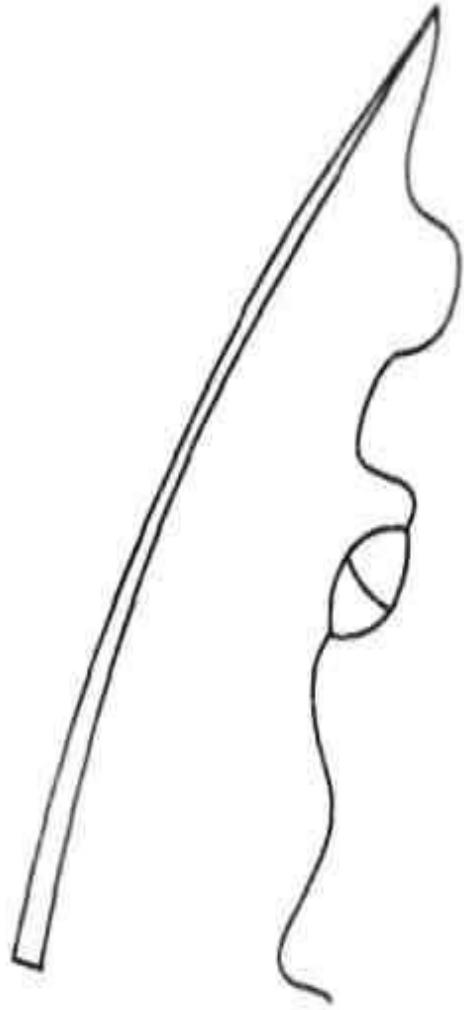
Направления



Выбери подходящую картинку.



Подбери смысловые пары.



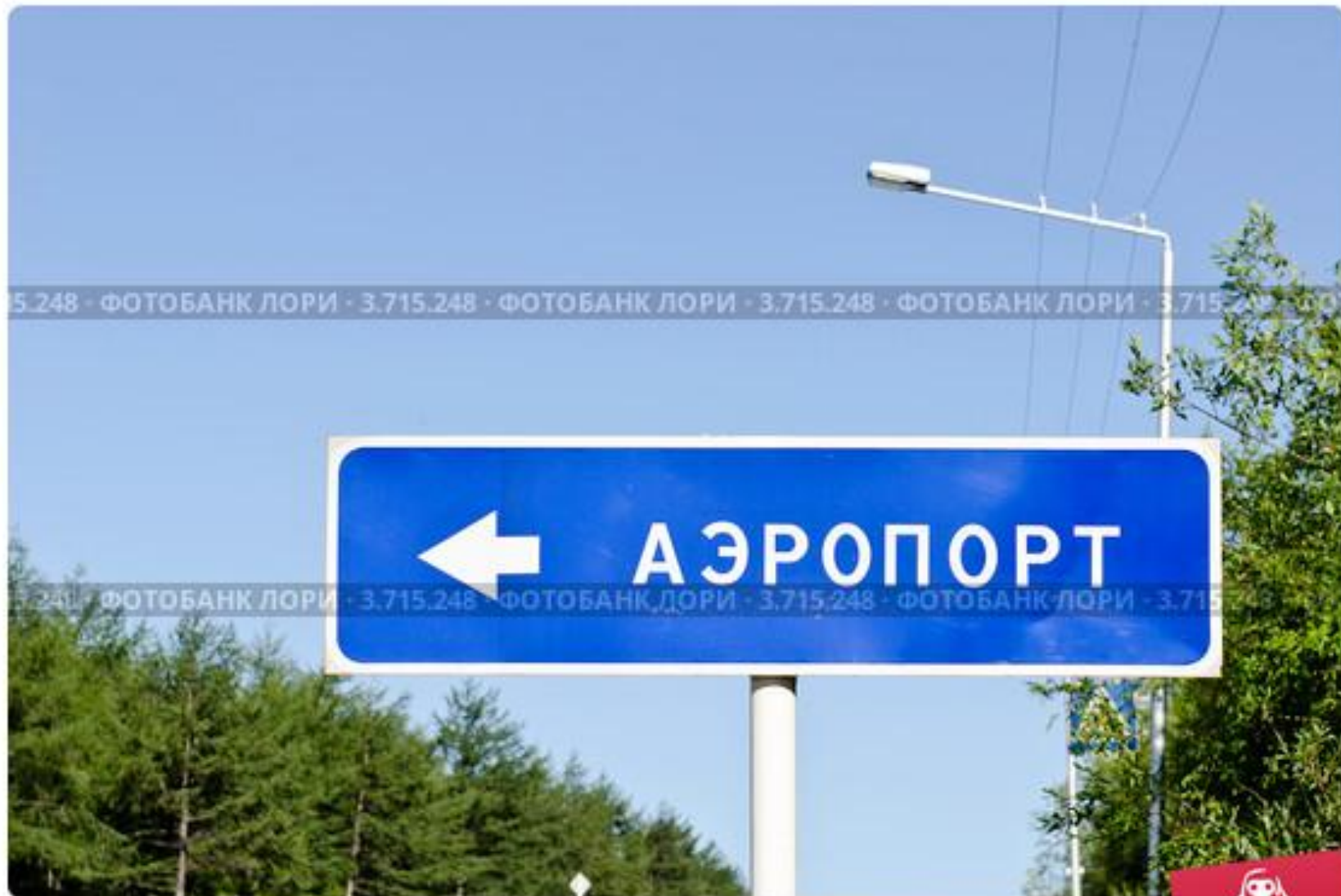






5.248 · ФОТОБАНК ЛОРИ · 3.715.248 · ФОТОБАНК ЛОРИ · 3.715.248 · ФОТОБАНК ЛОРИ · 3.715.248

5.248 · ФОТОБАНК ЛОРИ · 3.715.248 · ФОТОБАНК ЛОРИ · 3.715.248 · ФОТОБАНК ЛОРИ · 3.715.248



Дорожный указатель направления к аэропорту

© Антон Афанасьев / Фотобанк Лори



lori.ru/3.715.248



E 30

МОСКВА



A 141

ВИТЕБСК



A 141

СМОЛЕНСК

900 м





- На рисунке одной линией показан путь, по которому детей из дома везут в школу, а другой — путь, по которому дети идут из школы домой. Как ты думаешь, каким цветом какой путь изображён? Как на этих линиях показать, где начало, а где конец пути?

2



Рассмотри изображения дорожных знаков. Что показывают стрелки на этих знаках? Треугольный знак со стрелками обведи по краю красным цветом.

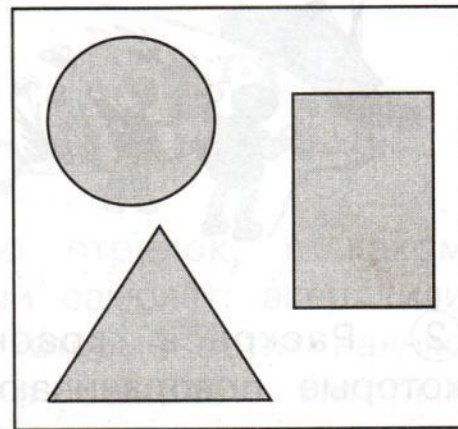
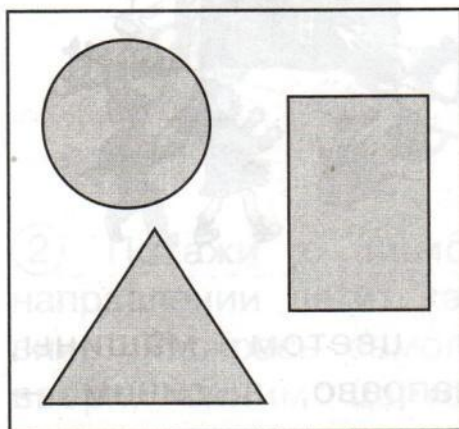
3




Назови, люди каких профессий изображены на рисунках. Покажи с помощью стрелок место работы каждого из них.

Направления

① Рассмотрим фигуры в левой рамке. Соедини их стрелками в следующем порядке: круг, треугольник, прямоугольник. Рассмотрим фигуры в правой рамке. Соедини их стрелками в следующем порядке: треугольник, круг, прямоугольник.



② Петя живёт ниже Коли, а Надя живёт выше Пети, но ниже Коли. Кто на каком этаже живёт? Покажи с помощью стрелок.



Петя

Коля

Надя