

Конкурс
«Интерактивная мозаика»

Название сайта

Интерактивный тест
« НАТУРАЛЬНЫЕ ЧИСЛА И ШКАЛЫ »

5 КЛАСС

Автор: Малиновская Анна Васильевна

Должность: Учитель математики

МБОУ «Школа – интернат I вида»

г. Череповец




Задание 1.

Укажите верную буквенную запись
числа **3000075**

1. три миллиарда семьдесят пять
2. тридцать миллионов семьдесят пять
3. три миллиона семьдесят пять
4. триста тысяч семьдесят пять

[Правильный ответ](#)



Правильный ответ

3. три миллиона семьдесят пять



Задание 2.

Укажите верную запись числа
двадцать шесть тысяч двенадцать

1. 2600012
2. 260012
3. 26012
4. 2612

Подумай!!!!



Правильный ответ



Правильный ответ

3. 26012




Задание 3.

Запишите число *XIX* арабскими цифрами

1. 21
2. 19
3. 201
4. 91

Правильный ответ



Правильный ответ

2. 19



Задание 4.

Запишите число **25** римскими цифрами

1. XXXI
2. XIX
3. XXV
4. XVXII

Подумай!!!!



Правильный ответ



Правильный ответ

3. *XXV*



Задание 5.

Представьте число **65307** в виде суммы разрядных слагаемых


1. $65000+300+7$

2. $60000+5000+300+7$

3. $6+5+3+0+7$

4. $65000+307$

Правильный ответ



Правильный ответ

$$2. 60000+5000+300+7$$



Задание 6.

Какое из чисел представлено в виде
суммы разрядных слагаемых
 $4000+500+20$

1. 1254
2. 4521
3. 400050020
4. 4520

Подумай!!
!!!



Правильный ответ



Правильный ответ

4. 4520




Задание 7.

Расположите числа **397, 400, 379** в порядке убывания числа

1. 379, 397, 400
2. 397, 379, 400
3. 400, 397, 379
4. 400, 379, 397

Правильный ответ



Правильный ответ

3. 400,397, 379



Задание 8.

Сравните числа *112816* и *112184*

Подумай!!!!

1. $>$
2. сравнить нельзя
3. $=$
4. $<$

Правильный ответ



Правильный ответ

1. >




Задание 9.

Какая из точек $K(98)$, $M(89)$, $P(67)$, $T(76)$ на координатной прямой расположена правее других

1. К
2. Р
3. М
4. Т

Правильный ответ



Правильный ответ

1. К



Задание 10.

Какое число при счете следует за
числом **112399**

1. 112400
2. 112401
3. 112000
4. 112299

Подумай!!!!!!



Правильный ответ



Правильный ответ

1. 112400




Задание 11.

Укажи число, в котором *1 единица*
второго класса

1. 111
2. 1000
3. 10
4. 11

Правильный ответ



Правильный ответ

2. 1000



Задание 12.

Какое число находится между
числами **354499** и **354501**

1. 354500
2. 454501
3. 364501
4. 364499

Подумай!!!!



[Правильный ответ](#)



Правильный ответ

1. 354500




Задание 13.

Округли число **207563** до сотен

1. 207500
2. 207600
3. 208000
4. 207000

Правильный ответ



Правильный ответ

2. 207600



Задание 14.

Выразите приближённо в
килограммах *2315 г*

1. 2 кг
2. 3 кг
3. 23 кг
4. 24 кг

Подумай!!!!



Правильный ответ



Правильный ответ

1. 2 кг



Задание 15.

Запишите наибольшее
четырёхзначное число


1. 99999

2. 9999

3. 1000

4. 10000

Правильный ответ



Правильный ответ

2. 9999



Поставъте оценка.

Оценка «5» нет ошибок

Оценка «4» 1 или 2 ошибки

Оценка «3» от 3 до 6 ошибок

Оценка «2» 7 и более ошибок



Источники информации

<http://shimrg.rusedu.net/category/646/1692> картинка совы

http://edu.teacherzv.ucoz.ru/load/shablony_i_fony_dlja_prezentacij/shablony_powerpoint_dlja_uchitelja_matematiki_chast_2/4-1-0-64 шаблон для презентации

Математика. 5 класс: учеб. для общеобразоват. учреждений/
[Н.Я. Виленкин.]. – 23-е изд., испр. – М.: Мнемозина, 2008.

