

НАЗВАННЯ ЧИСЕЛ ДО ДВАДЦАТИ

Устный счёт

2 4 6 8 10 12 14 16 18 20

Найдите значения сумм

$$12 + 2$$

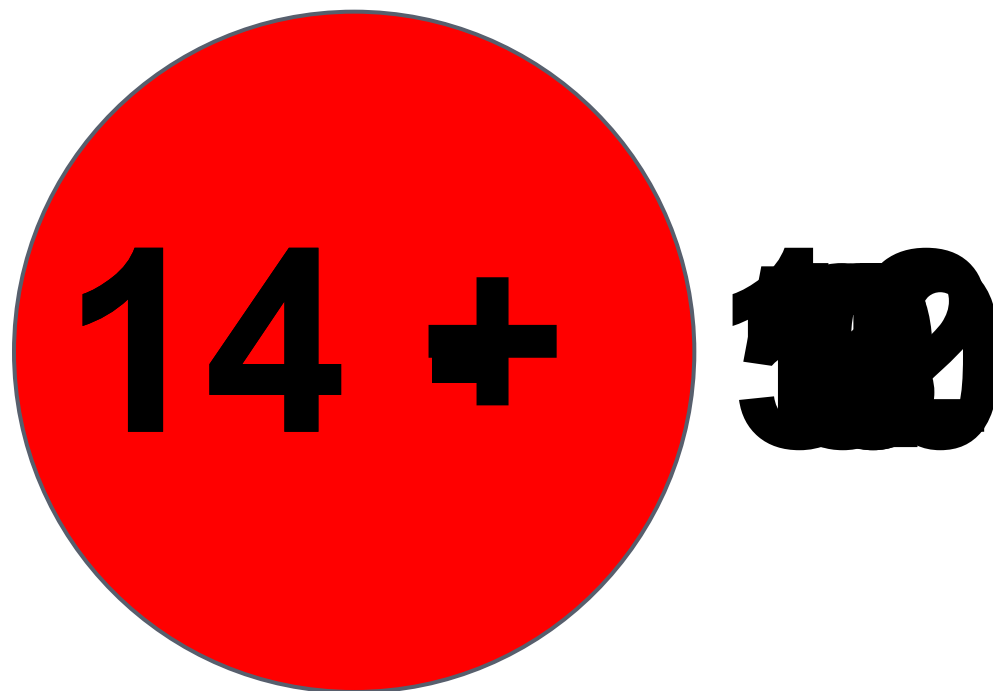
$$15 + 2$$

$$11 + 2$$

$$13 + 2$$

$$16 + 2$$

Игра «Светофор»



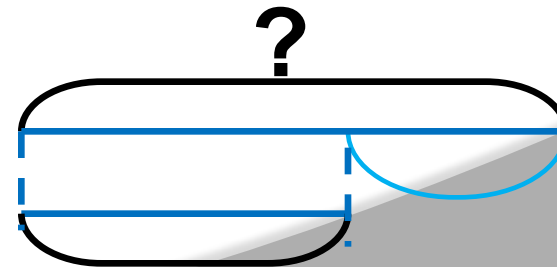
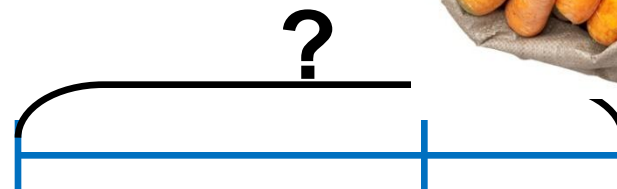
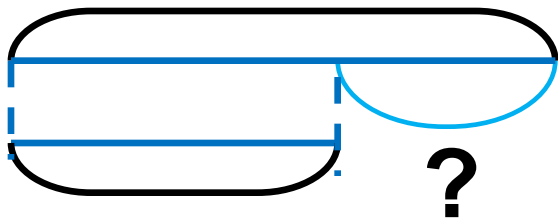
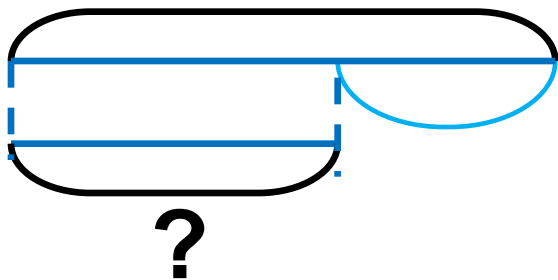
Игра «День-ночь»

$$12+7-9-8+5-3-4+6+10-5=11$$

Подберите схему и решите

задачу

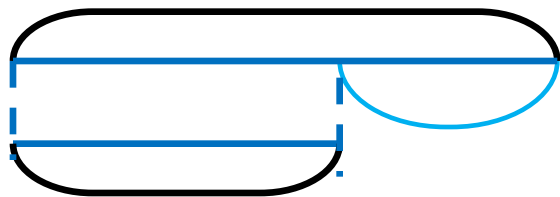
На склад привезли 17 мешков картофеля, а моркови на 7 мешков меньше. Сколько мешков моркови привезли на склад?



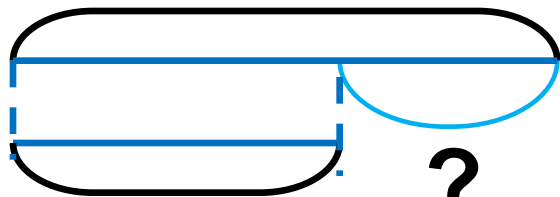
Подберите схему и решите

задачу

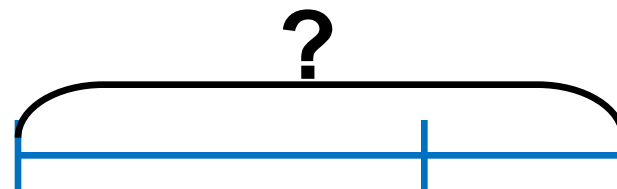
*В парке посадили 15 лип. Это на 3
дерева меньше. Чем рябин. Сколько
посадили рябин?*



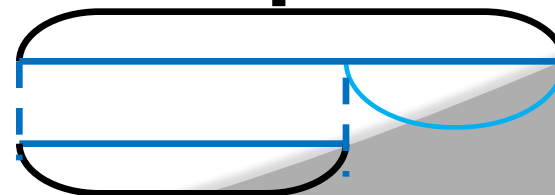
?



?



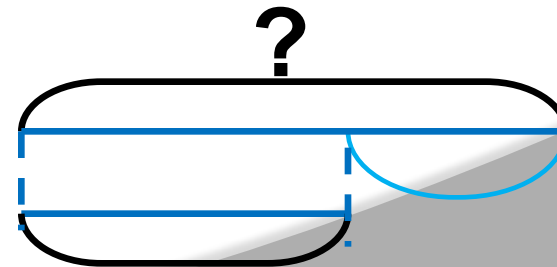
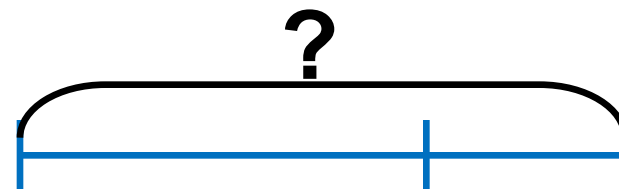
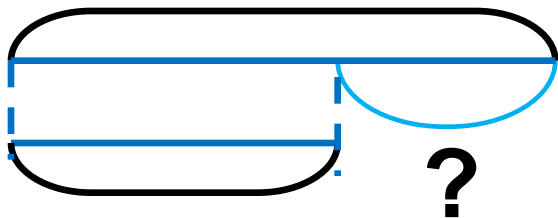
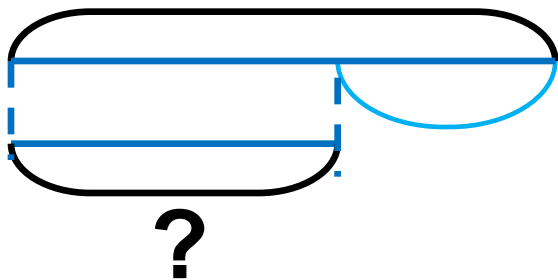
?



Подберите схему и решите

задачу

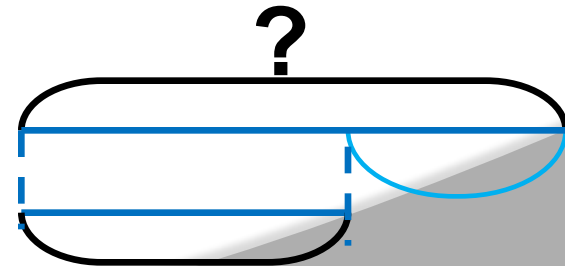
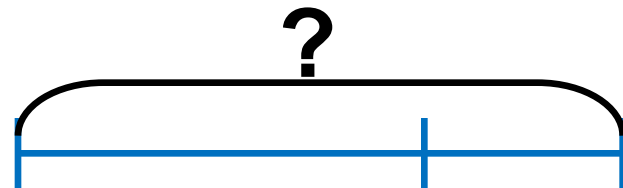
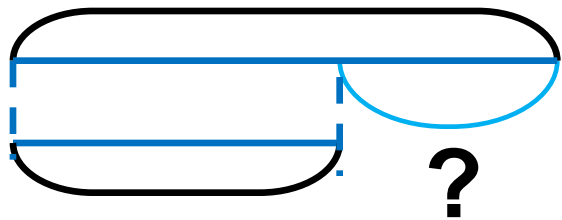
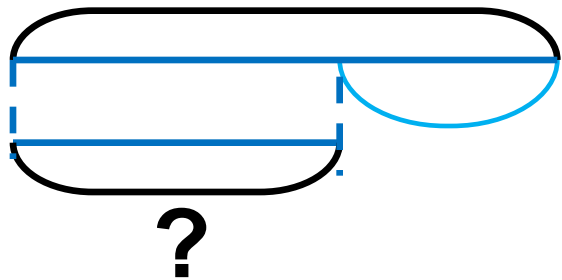
С первого куста сняли 16 помидор
а со второго – 12. На сколько
помидоров меньше сняли со вто
куста, чем с первого?



Подберите схему и решите

задачу

Миша поймал несколько рыбок. Когда мама взяла на уху 6 рыбок, у него осталось 10 рыбок. Сколько рыбок поймал Миша?



**Задания подготовлены по книге «Устные упражнения на уроках математики. 1 класс» (авт. Л.Г. Петерсон, И.Г. Липатникова)
Презентация выполнена Галановой Е.В., учителем начальных классов
ГБОУ школы №328 Санкт-Петербурга**