



Весна в гостях у математики

20 апреля.

Классная работа.

Цепочки

55	14	50	14	40	54	14
<i>д</i>	<i>е</i>	<i>л</i>	<i>е</i>	<i>н</i>	<i>и</i>	<i>е</i>

20 5 5 7 9

x4 x2 x3 x2 x2

-20 +2 +5 -4 +7

-6 -16 +3 +3 +3

54 **И** 14 **Е** 50 **Л** 40 **Н** 55 **Д**

Выполни деление, используя рисунки



$$10 : 5 = \boxed{2}$$

$$10 : 2 = \boxed{5}$$



$$8 : 4 = \boxed{2}$$

$$8 : 2 = \boxed{4}$$

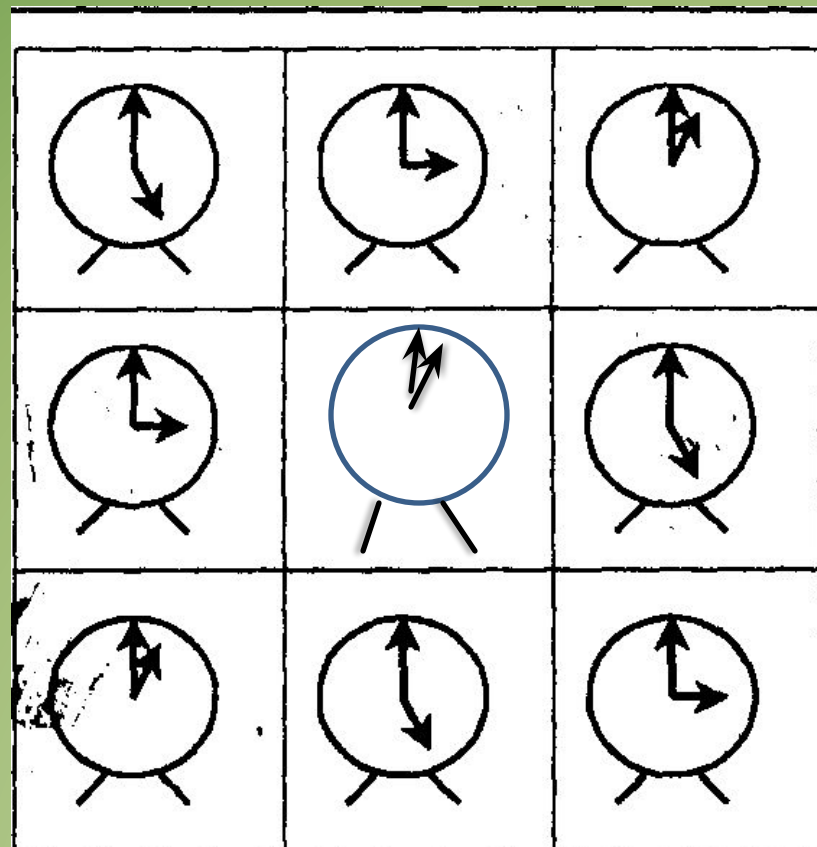
Логическое задание

Снег теперь уже не тот-
Потемнел он в поле.
На озёрах треснул лёд-
Будто раскололи.
Облака бегут быстрее,
Небо стало выше.
Зачирикал воробей
Веселей на крыше.

А. Плещеев – 3

С. Маршак – 1

Ф. Тютчев - 5



С. Маршак

Задач

На домик для птицы идёт 7 дощечек. Сколько домиков можно сделать из 14 дощечек? 📣

$$14 : 7 = 2 \text{ (д.)}$$

Ответ: 2

домика.

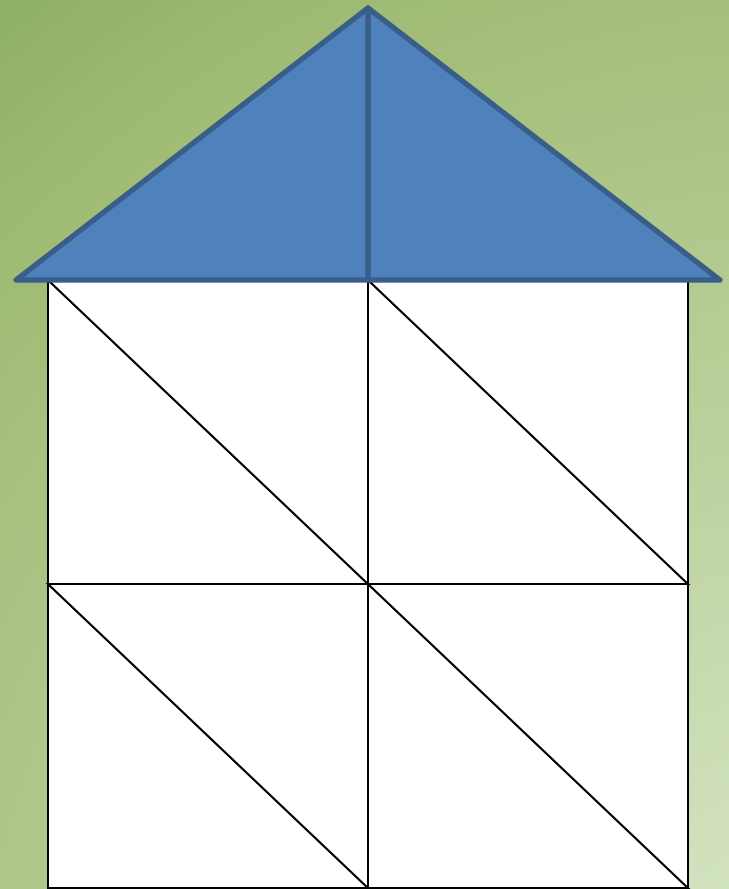


2	скворце
28	Ц
8	
15	

Какие фигуры взяли ,чтобы построить скворечник?

Сколько прямоугольников?

Сколько треугольников?





*Из чисел 2, 8, 4 составить выражения
на умножение и на деление*

Каких ещё птиц можно встретить в наших лесах весной мы узнаем, решив уравнения.

2	скворце
28	голове
8	жукушка
15	дрозд



$$x - 8 = 20$$



$$14 - y = 6$$



$$20 + a = 35$$

Помогите вылупиться птенцам.



М



О




Л



О



Д




Ц

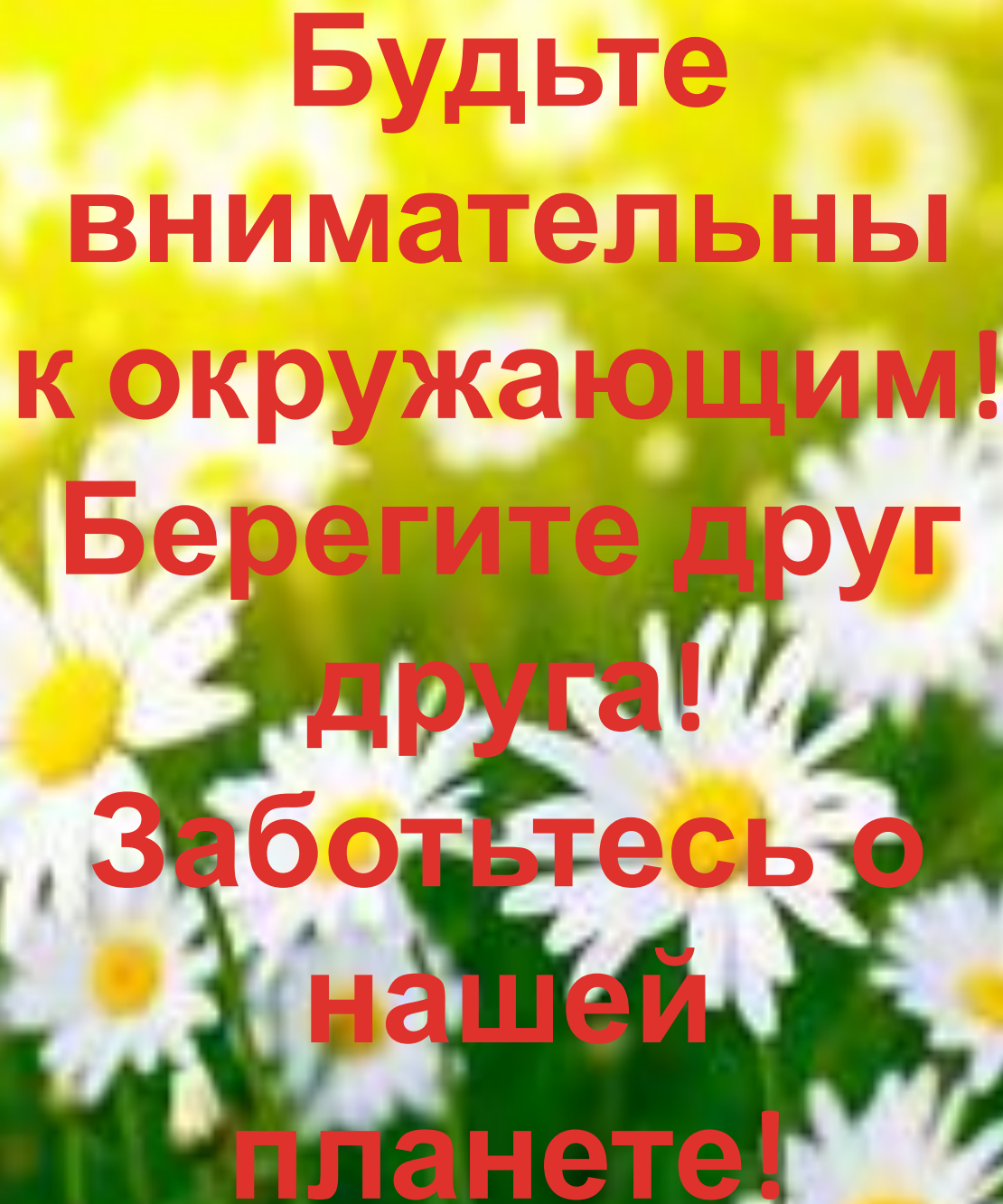


Ы

$5 \times _ = 10$	$14 : _ = 7$
$9 \times _ = 18$	$15 : _ = 5$
$4 \times _ = 16$	$20 : _ = 5$
	$12 : _ = 4$

Правила поведения в лесу





**Будьте
внимательны
к окружающим!
Берегите друг
друга!
Заботьтесь о
нашей
планете!**