


# НЕДЕЛЯ МАТЕМАТИКИ





чис



сч




1



2



5



8



**ЗАДАЧ**  
**А**



МИНУ

С




КОРУ

С



стр



сто

Р1а

Род

ПО



под

ина



сор

1 вал



ст



**РЕШЕНИЕ!**  
В корзине три яблока.  
Как поделить их между  
тремя детьми так,  
отдать одно яблоко вместе с корзиной  
осталось в корзине?





**ОТВЕТ:**  
Петя и Миша имеют фамилии Белов  
и Чернов. Какую фамилию имеет  
каждый из братьев? Петя на 4 года  
старше Миши.  
**Миша Белов.**



На столе лежат три спички.  
Не прибавляя ни одной спички,  
сделай из трёх спичек четыре.  
Ломать спички НЕЛЬЗЯ!

ИИ

# ЗАДАЧИ - ШУТКИ

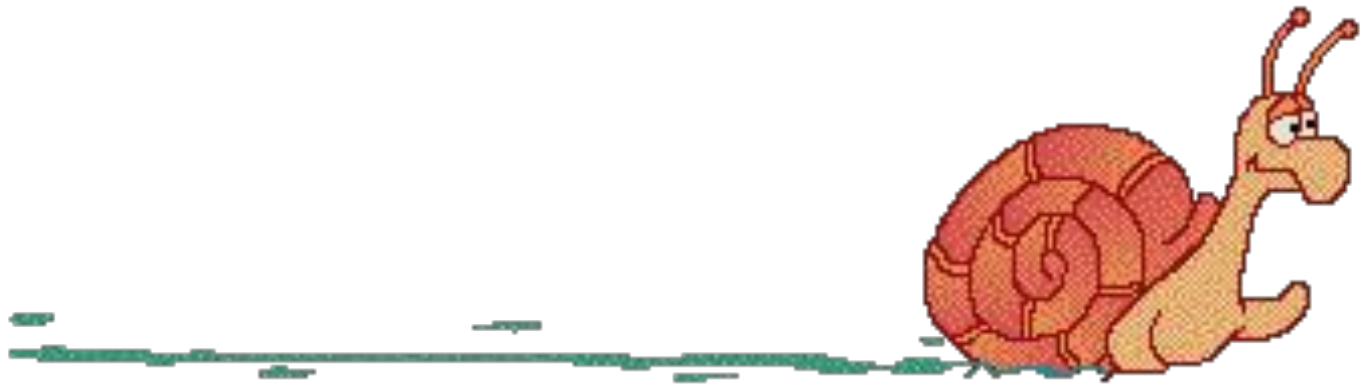
На столе лежали три карандаша разной длины. Горело 5 свечей, 2 погасили. Сколько свечей осталось?  
Как пережить из середины самый длинный карандаш, не прикасаясь к нему?

«ответ». Не долго думая, товарищ показал ответ. Как у него это получилось?



2 товарища

Улитка ползёт по перилам веранды в одну сторону полтора часа, а в другую девяносто минут. Почему такая разница?



**90** минут = **1** час **30** минут