


# НЕДЕЛЯ МАТЕМАТИКИ





чис



сч




1



2



5



8



**ЗАДАЧ**  
**А**



МИНУ

С




КОРУ

С



СТР



СТО



Р 1 а

Род

п о

под



и н а

сор

1 в а л

ст





**РЕШЕНИЕ!**  
В корзине три яблока.  
Как поделить их между  
тремя детьми так,  
отдать одно яблоко вместе с корзиной  
осталось в корзине?





**ОТВЕТ:**  
Петя и Миша имеют фамилии Белов и Чернов. Какую фамилию имеет каждый из братьев? Петя на 4 года старше Миши.  
**Миша Белов.**

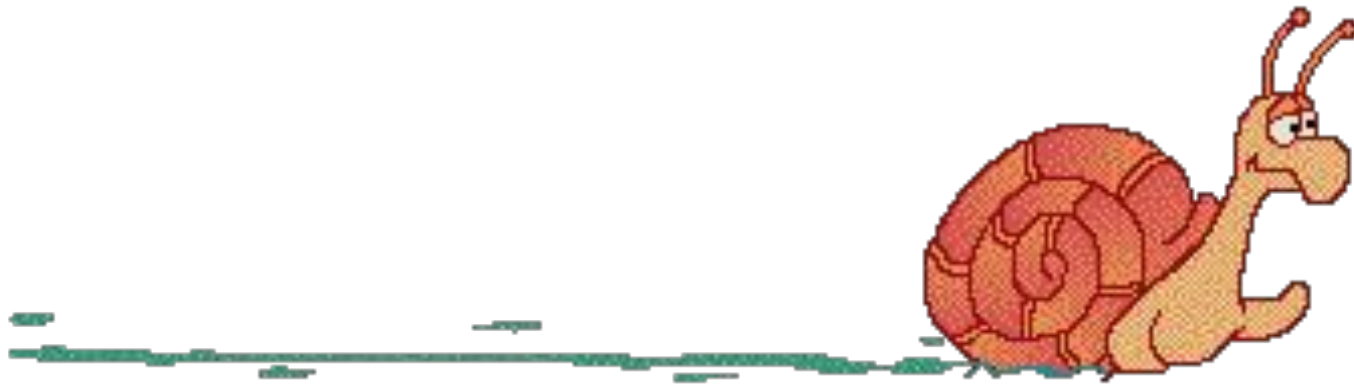


На столе лежат три спички.  
Не прибавляя ни одной спички,  
сделай из трёх спичек четыре.  
Ломать спички НЕЛЬЗЯ!

ИИ



Улитка ползёт по перилам веранды в одну сторону полтора часа, а в другую девяносто минут. Почему такая разница?



**90** минут = **1** час **30** минут