

Цели урока:

- Познакомить со знаками « $<$ » « $>$ »;
с понятием неравенство;
- Учиться сравнивать числа с
помощью знаков « $<$ » « $>$ ».

В математике вместо слова «*больше*» между числами ставят знак «**>**», а вместо слова «*меньше*» – знак «**<**».




Неравенство



Уголок знака всегда указывает на меньшее число.



Работаем с предметами.

Сравни. Какой предмет больше?




Нажми на знак

Сравни. Какой предмет меньше?




Нажми на знак

*Сравни количество предметов на картинках.
Подбери правильный знак.*




Нажми на знак

*Сравни количество предметов на картинках.
Подбери правильный знак.*




Нажми на знак

*Сравни количество предметов на картинках.
Подбери правильный знак.*



Нажми на знак

*Сравни количество предметов на картинках.
Подбери правильный знак.*





Нажми на знак

*Сравни количество предметов на картинках.
Подбери правильный знак.*




Нажми на знак

*Сравни количество предметов на картинках.
Подбери правильный знак.*




Нажми на знак

*Сравни количество предметов на картинках.
Подбери правильный знак.*



Нажми на знак

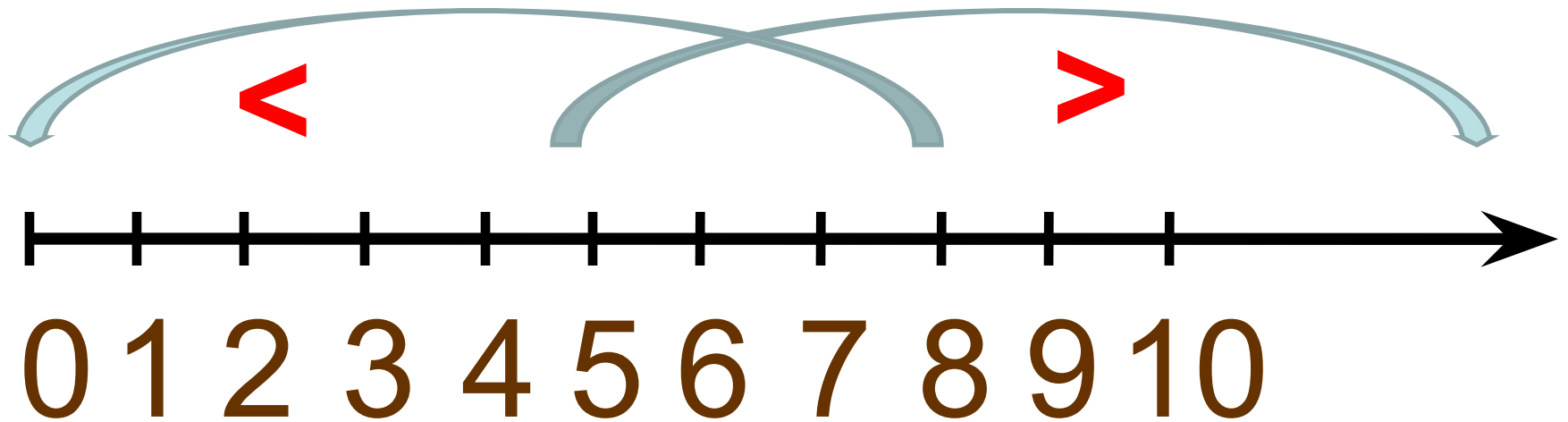
*Сравни количество предметов на картинках.
Подбери правильный знак.*



Нажми на знак

Работаем с числами.

Рассмотрите числовой луч.



Запомни: Чем ближе число к нулю, тем оно меньше.

Соответственно, чем дальше число от нуля, тем оно больше

*Рассмотри запись. Замени слова «больше»
и «меньше» на знаки «<» «>»*

$$5 < 6$$

$$7 > 3$$

$$6 > 0$$

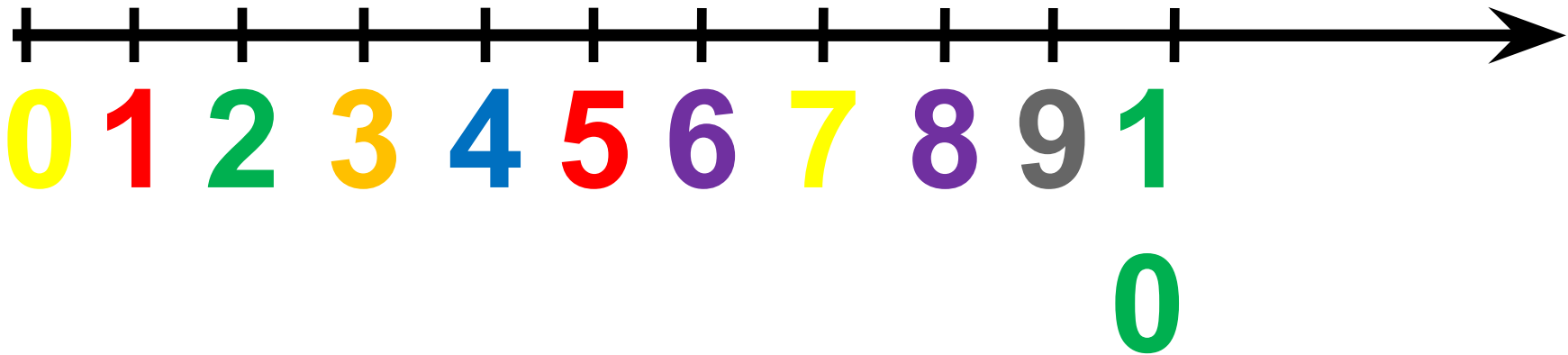
$$3 < 7$$

$$2 < 9$$

$$9 > 7$$

**Выражения, в которых используются
знаки «<» «>» называют – **неравенствами.****

Нажми на число



Выбери числа больше 4

Подбери ключи к двери.

8 1 6 5 4 1 2 7 0 3 9


Нажми на
число

Для этого выбери числа меньше 5.

>

0
<

5



Выбери верный знак и запиши получившиеся неравенства.

Найди неверное неравенство на вагончиках паровозика и он продолжит свой путь.

Нажми на паровозик

М Л О Д Ц Ы 5 < 8

2 < 4



Чтобы узнать кто здесь живет
найди числа меньше 6



Нажми на число

Сравни числа. Поставь
правильно знак

4

6

>

<

Нажми на знак

Сравни числа. Поставь
правильно знак

7

3

>

<

Нажми на знак

Сравни числа. Поставь
правильно знак

5

9

>

<

Нажми на знак

Сравни числа. Поставь
правильно знак

8

1

>

<

Нажми на знак

Сравни числа. Поставь
правильно знак

>

3

4

<

Нажми на знак