


**140.** Отметь в тетради две точки и соедини их по линейке.



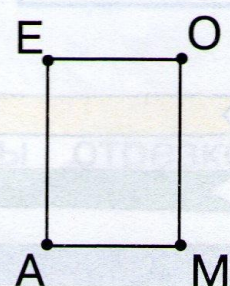
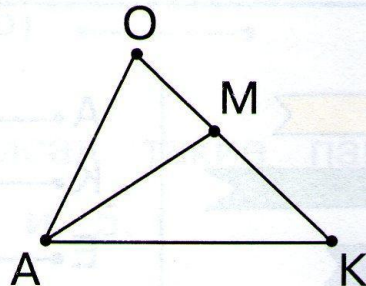
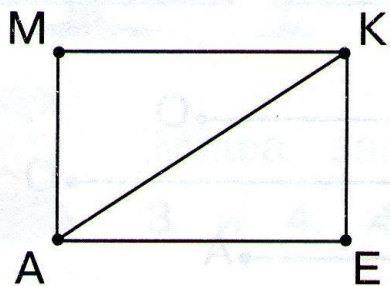
! У тебя получился **отрезок**. Концы отрезка обозначают буквами.



**141.** Чем похожи фигуры слева и справа?  
Чем отличаются?




**142.** Назови отрезки, которые ты видишь на каждом рисунке.



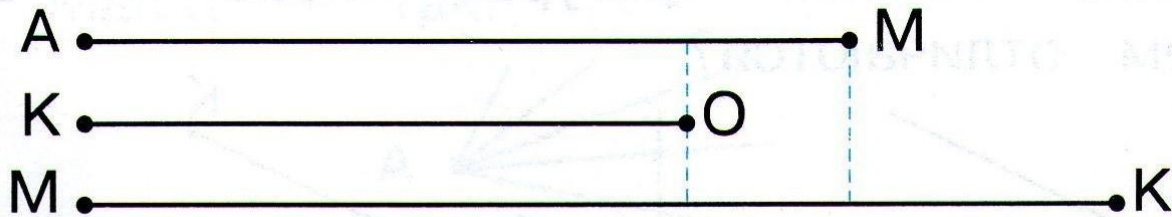
Выбери цифру, которой можно записать количество отрезков на каждом рисунке.

4	6	5	3	2
---	---	---	---	---

**143.** Какой карандаш длиннее? Какой короче?



**144.** Какой отрезок длиннее? Какой короче?



**145.** Расскажи, что нарисовано на картинках, пользуясь словами:


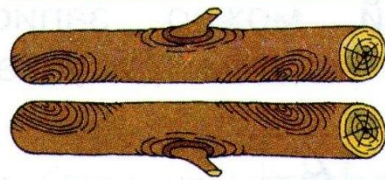
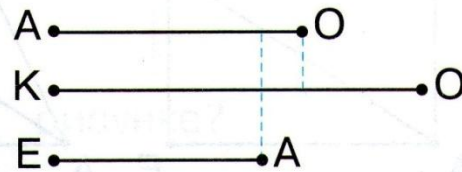

длина больше

длина меньше

короче

длина одинаковая

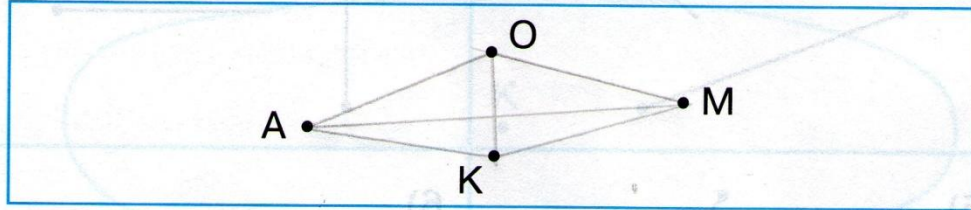
длиннее



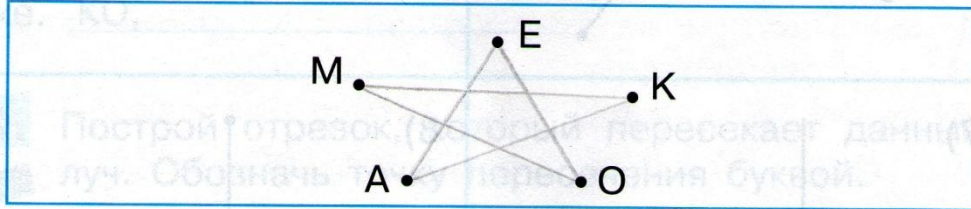
**55.** Проведи отрезки.



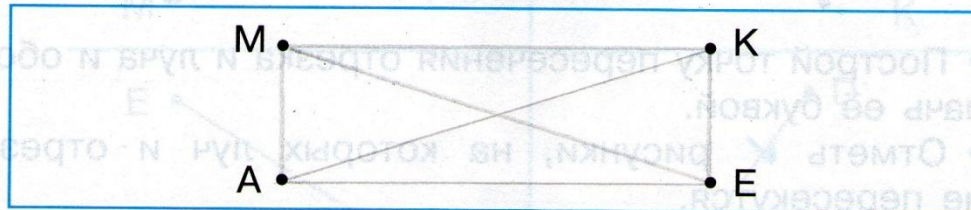
1) AO, OM, AM, AK, KM, OK;



2) MK, MO, EA, EO, AK;




3) MK, KE, AE, MA, ME, AK;




**56.** Обозначь буквами луч и отрезок на каждом рисунке.


1)




2)




3)



4)



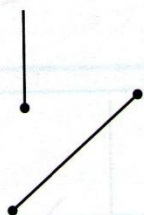
5)




6)



7)



8)



- Построй точку пересечения отрезка и луча и обозначь её буквой.
- Отметь  рисунки, на которых луч и отрезок не пересекутся.