

151. В классе мальчиков больше, чем девочек.

- Выбери пару отрезков, которыми можно обозначить количество мальчиков и девочек.

①

М. —————
Д. —————

②

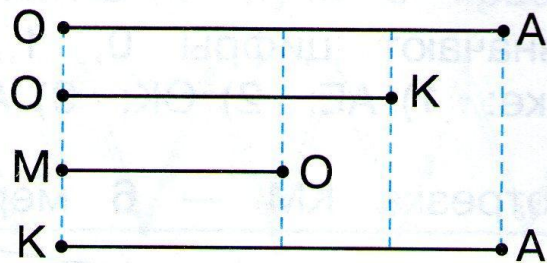
М. —————
Д. —————

③

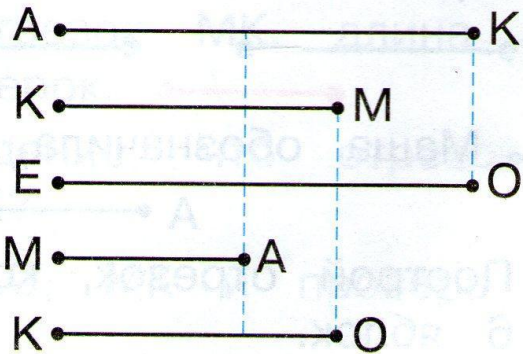
М. —————
Д. —————

152. У Веры открыток столько же, сколько у Ани.

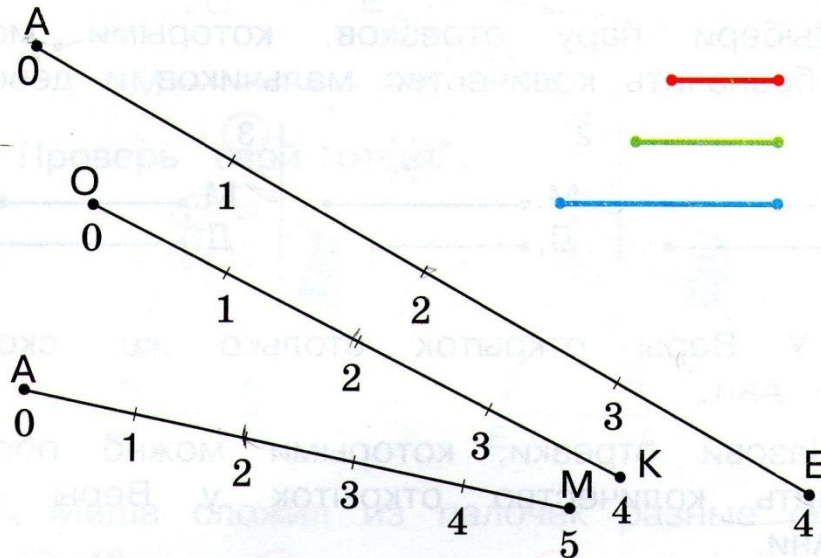
- Назови отрезки, которыми можно обозначить количество открыток у Веры и у Ани.



153. Выбери пары отрезков, которыми можно обозначить длину красной ленты и длину синей ленты.



154. Какой меркой — красной, зелёной или синей — измерили длину каждого отрезка?



- Что обозначают цифры 0, 1, 2, 3, 4, 5 на отрезке: 1) AE; 2) OK; 3) AM?