



**157.** Начерти отрезок АК, длина которого — 8 красных мерок. 



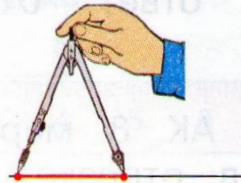
- Если возникнут трудности, прочитай, как действовали Миша и Маша.



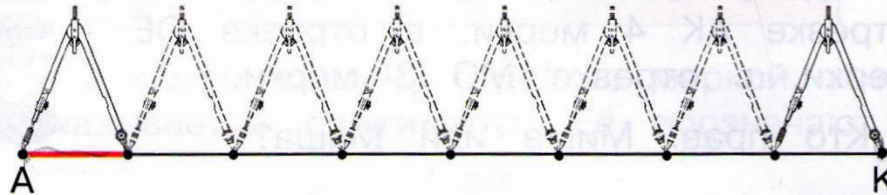
Нужно провести луч.




Измерить циркулем длину мерки.




Отложить на луче 8 красных мерок.



Длина отрезка АК — 8 красных мерок.

**158.** Маша начертила отрезок  $AO$ , длина которого 3 синие мерки. 

Миша начертил отрезок  $MK$ , длина которого 5 красных мерок. 

- Верно ли утверждение, что отрезок  $AO$  короче отрезка  $MK$ ?



Начерти отрезки  $AO$ ,  $MK$  и проверь свой ответ.