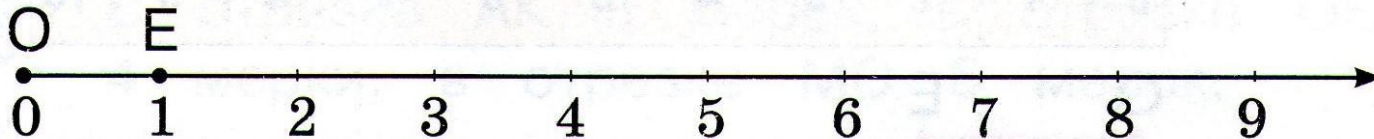


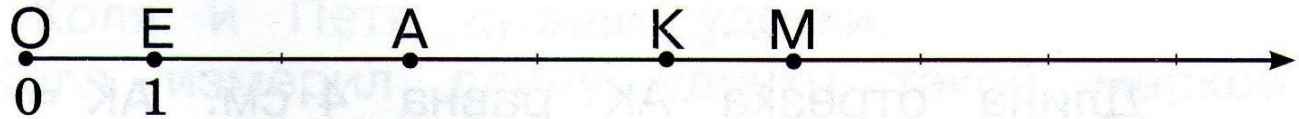
**164.** Начерти луч. Отложи от начала луча одну мерку любой длины. Нарисуй стрелку.



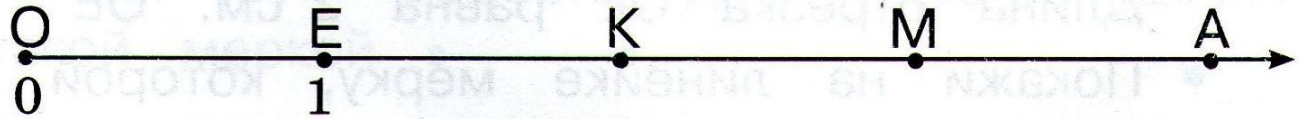
У тебя получился **числовой луч**.



**165.** Запиши числа, которые соответствуют точкам  $O$ ,  $A$ ,  $K$ ,  $M$ ,  $E$  на каждом числовом луче.




8/6)




**68.** Нарисуй числовой луч, используя данную мерку.


1)



2)

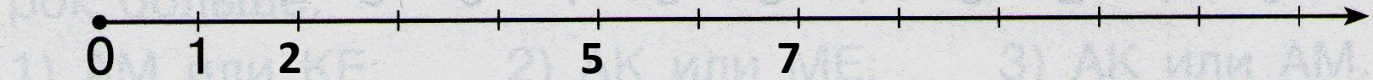


3)



**69.** Отметь на числовом луче точки, которые соответствуют:

1) числам 2, 5, 7;



2) числам 4, 6, 8.

