


**177.** Запиши 6 неравенств с числами, которые соответствуют точкам М, Е, К на числовом луче.



**178.** Выбери числа и запиши неравенства.

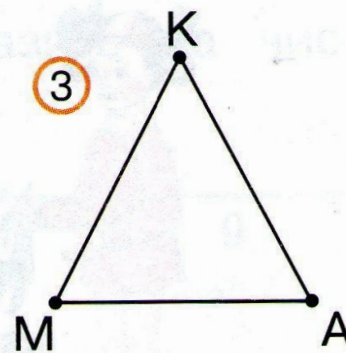
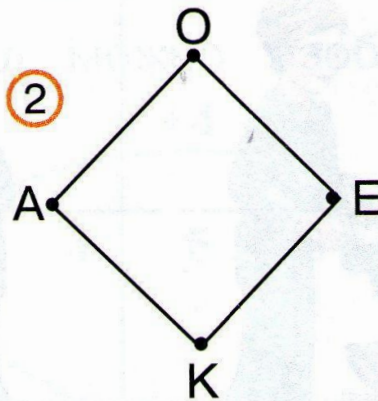
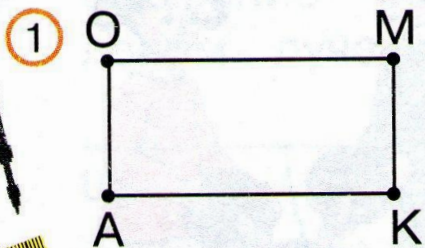


1) 3, 4, 6, 7 →  > 5

2) 3, 8, 6, 2 →  < 7

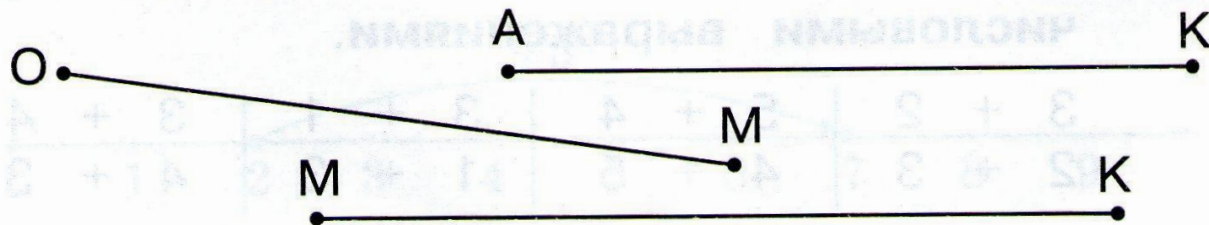
3) 4, 7, 6, 1 →  < 8

**179.** Назови отрезки, у которых одинаковая длина.



• Проверь свой ответ.

**180.** Сравни длины отрезков:  $OM$  и  $MK$ ;  $AK$  и  $OM$ ,  $AK$  и  $MK$ .



- Какой отрезок самый длинный? Самый короткий?