


224. По каким признакам можно разложить фигуры на две группы?



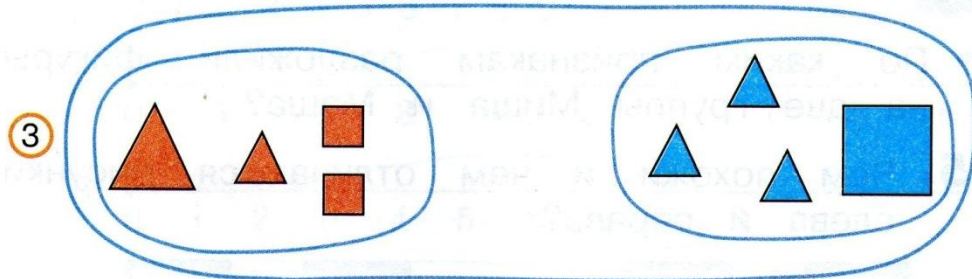
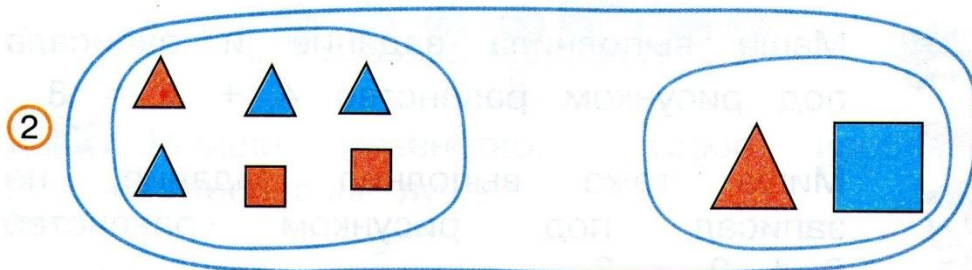

Маша выполнила задание и записала под рисунком равенство $4 + 4 = 8$.



Миша тоже выполнил задание, но записал под рисунком равенство $6 + 2 = 8$.







- По каким признакам разложили фигуры на две группы Миша и Маша?

226. По какому признаку разложили фигуры на две группы?



Запиши равенства, которые соответствуют каждому рисунку.

225. Чем похожи и чем отличаются рисунки слева и справа?



Запиши 2 равенства, которые соответствуют каждому рисунку.

223. Найди значения выражений.



$$\begin{array}{l} 1) \quad 5 + 1 + 1 + 1 \\ \quad \quad 3 + 2 + 1 + 1 \\ \quad \quad 1 + 2 + 3 + 2 \end{array}$$

$$\begin{array}{l} 2) \quad 1 + 4 + 1 \\ \quad \quad 1 + 3 + 1 + 3 \\ \quad \quad 2 + 2 + 2 + 2 \end{array}$$