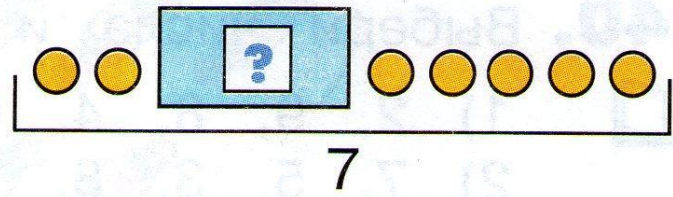

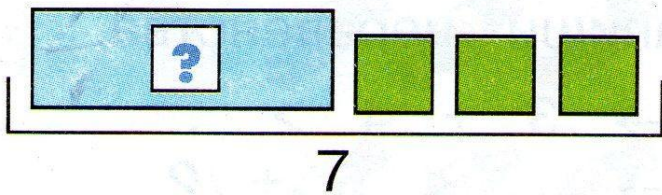
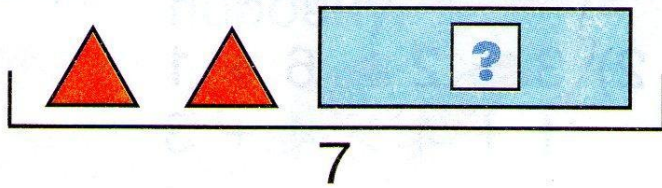
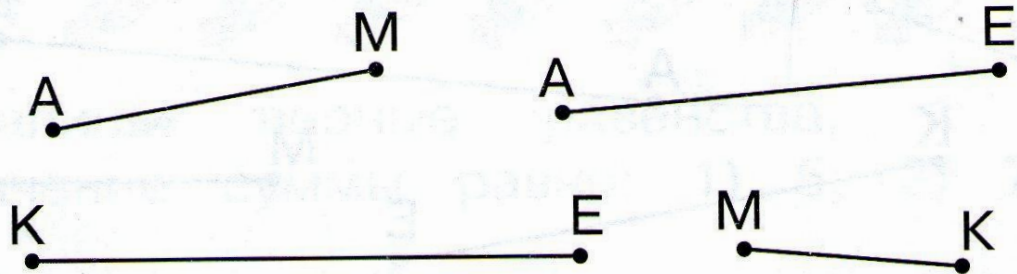


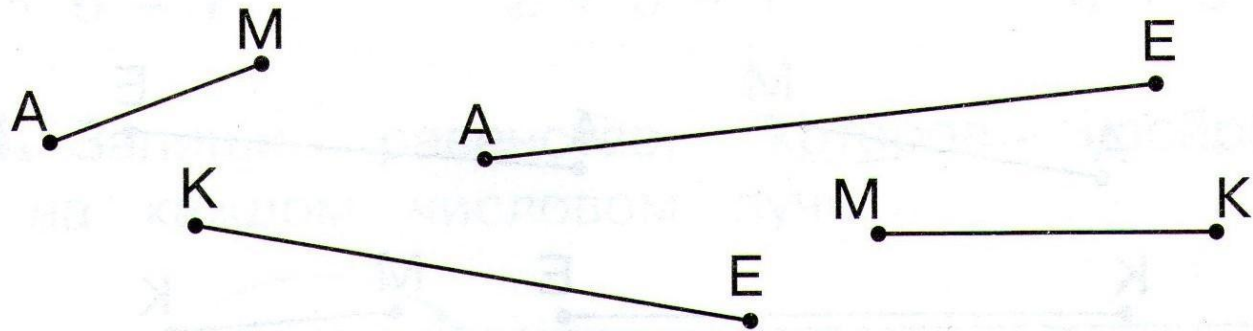
236. Сколько фигур закрыто?



237. Выбери отрезки, сумма длин которых равна 7 см.



241. Выбери отрезки, сумма длин которых равна 8 см.



238. Набери 7 рублей разными способами.



Запиши ответ выражениями.

239. Чем похожи неравенства в каждой паре?

$$1) \quad 3 + 4 > 4 + 2$$

$$5 + 2 > 3 + 3$$

$$2) \quad 3 + 2 > 6 + 1$$

$$1 + 4 > 4 + 3$$

240. Выбери числа и запиши неравенства.



1) 2, 9, 8, 4, 6 \rightarrow 3 + 4 > ...

2) 7, 5, 3, 8, 9 \rightarrow ... < 5 + 2

3) 2, 3, 9, 8, 7 \rightarrow 6 + 2 > ...

242. Вставь пропущенные числа и запиши верные равенства.



$$1) \quad 4 + \dots = 8$$

$$\dots + 2 = 8$$

$$5 + \dots = 8$$

$$2) \quad 3 + 3 = \dots + 2$$

$$3 + 2 = 4 + \dots$$

$$4 + \dots = 5 + 3$$